

الجمهورية الجزائرية الديمقراطية الشعبية  
وزارة التربية الوطنية

السنة الثانية من التعليم المتوسط

# الجغرافيا

موقع عيون البصائر التعليمي



# كتاب الجغرافيا

السنة الثانية من التعليم المتوسط

تأليف:

- احمد يحيى حورية - استاذة التعليم الثانوي
- حميمي حكيمه - استاذة التعليم الثانوي
- الحرهون آسيا - استاذة التعليم الثانوي
- شريف الطاهر - استاذ التعليم الثانوي

تحت اشراف :

طيب نايت سليمان - مفتش التربية و التكوين

الديوان الوطني للمطبوعات المدرسية



# موقع عيون البصائر العلمي



## تقديم كتاب الجغرافيا للسنة الثانية من التعليم المتوسط

### المقدمة

يسرنا أن نضع بين أيدي التلاميذ كتاب الجغرافيا للسنة الثانية من التعليم المتوسط. الذي تم تأليفه بناء على المنهاج الجديد المقرر والذي يتضمن 05 وحدات هي :

- 1 | قارة آسيا
- 2 | اليابان
- 3 | الصين - (نموذج خاص)
- 4 | قارة أمريكا
- 5 | البرازيل

يرمي هذا الكتاب إلى إعطاء التلاميذ نظرة كلية للعالم. من خلال مسح قاري. ونماذج بلدان مختارة من كل قارة (بلدان متقدمة وبلدان متخلفة). وقد تم اختيار الخرائط والصور والرسومات والبيانات والنصوص المناسبة باعتبارها أدوات بيداغوجية في مادة الجغرافيا. يوظفها التلميذ لتحقيق الكفاءات المنهجية التالية :

- قراءة نقدية للنص المعرفي المصاغ بشكل مركز
- قراءة وإيجاز خرائط ورسومات توضيحية
- قراءة وتعليق على الجداول والبيانات
- صياغة عبارات بسيطة في شكل حوصلات ذات دلالة ومعنى.
- ربط العلاقة بين المعطيات وتوظيف المفاهيم والمصطلحات توظيفا سليما.
- استقراء الصور لاكتشاف مكونات المشاهد التي تعكسها.

حرصنا على هيكلة الكتاب بما من شأنه أن يمكن من توظيف محتوياته المتنوعة وفق الخطة التالية :

**المدخل إلى الوحدة التعليمية.** يطرح إشكالية أصلية كدافعية للمتعلمين. ويتضمن محتويات معرفية تخص الوحدة وعقدا بيداغوجيا يشخص الكفاءات المستهدفة.

**التدرج في تناول المحتويات المعرفية للوحدة التعليمية (الدروس) باعتماد وسائل بيداغوجية متنوعة ومناسبة للموضوع (صور، خرائط، رسومات، نصوص، جداول إحصائية)** يتم توظيفها ومعالجتها في إطار مسار تعليمي يتمثل في :

- البحث عن معلومات.
- استغلال المعلومات.
- تمارين تطبيقية.
- ملف حول موضوع الوحدة التعليمية.
- التقويم.
- دفتر التلميذ (للإيجاز خارج القسم).

نرجو أن ينال الكتاب رضى التلاميذ وأن يكون وسيلة عمل تساعدكم على تحقيق الأهداف المرجوة.

الـمؤلفون



# موقع عيون البصائر العلمي

elbassaim.net



- يتم توظيف الأدوات البيداغوجية الواردة في الكتاب من طرف التلميذ بمعية الأستاذ لتحقيق الكفاءات التالية :
- التعرف على الخصائص المميزة للقارات من الناحية الطبيعية و السكانية و الإقتصادية.
  - تفسير ظاهرتي التباين و التنوع باعتماد تقاطع المعطيات التاريخية و الطبيعية و الديموغرافية و الإقتصادية و الثقافية.
  - ربط العلاقة بين الإنسان و البيئة وصولاً إلى تقويم الوسط الطبيعي و البشري و التنمية
  - استقراء الخرائط و الصور و البيانات و النصوص في معالجة و وضعيات جغرافية تتعلق بالسكان.
  - توظيف المفردات و المفاهيم و المصطلحات الجغرافية بشكل دقيق.
  - يكون المدخل إلى الوحدة التعليمية في صفحة أو صفحتين مزدوجتين تتضمن مجموعة من الوثائق التحسيسية بالظاهرة الجوربة. بداية بطرح إشكالات عام في سطر أو سطرين. وكذا ترتيب عناوين الدروس و الكفاءات المستهدفة. يتم توضيحها و التوسع فيها في الصفحات الموالية.

### الدروس و المحتويات المعرفية :

هي عبارة عن مقاطع الوحدة (4 دروس x 2 صفحة).

- يتم تقديم المحتوى المعرفي لكل مقطع في صفحتين مزدوجتين بشكل متدرج :
- أ - الصفحة الأولى :** وتتضمن إشكالات بسيطة يعكس فكرة الدرس أو استفسار هادف ثم يتم هيكلة المضامين المعرفية في شكل فقرات نصية بسيطة واضحة و مركزة مع إبراز المفردات أو المصطلحات أو تخصيص مربع جانبي لشرحها.
- ب- الصفحة المقابلة :** وتتضمن مجموعة من الوثائق المناسبة لمعالجة محتويات الدرس أو المقطع. يشار فيها إلى محتوى و طبيعة الوثيقة مع أسئلة وظيفية لها. ويتم التدرج في بقية الدروس على نفس المنوال مع ضمان التوازن المطلوب.

### التمارين التطبيقية :

- يقترح الكتاب مجموعة من التمارين تحت عنوان (تطبيقات) يمكن أن ينجزها المتعلمون في القسم دون المساس بصفحات الكتاب. و تهدف التمارين عموماً إلى عملية الترسخ و التعميم. يتم التدرج فيها من حيث الصعوبة تبعاً لموقع الوحدة التعليمية.

### الملف :

- يقترح الكتاب ملفاً في صفحتين مزدوجتين. يتمحور حول مشكل مختار أو وضعية جغرافية تتضمن نصاً مدخلاً و وثائق متنوعة بجملة من الأسئلة المساعدة على استغلالها تمكن التلاميذ من العمل المستقل لتعميق المحتويات المعرفية و المضامين و الكفاءات المكتسبة أثناء معالجة الوحدة التعليمية.

### التقويم :

يقترح الكتاب تقويماً في شقين :

- أ- تقويم المعارف
- ب- تقويم الكفاءات








# المدخل إلى الوحدة التعليمية

الوحدة التعليمية

الإشكالية

**قارة آسيا**

قارة آسيا أقدم وأوسع القارات في العالم، يشكّل حجم السكان فيها يشكل الحاضر والمستقبل.



**عقد تعليمي**

- في نهاية الوحدة التعليمية قارة آسيا تكون قاراً على:
- التعرف على المناطق الجغرافية
- التعرف على الخدمات والخدمات الحيوية في تشكيل المجتمعات الريفية في آسيا
- التعرف على التنوع والتجان الطبيعي والبشري والاقتصادي في القارة
- تحديد الأقاليم الاقتصادية الكبرى في القارة واستغلال موارثها.

المنطقة المعرفية لقارة آسيا

- 1 قارة آسيا مهد الحضارات والديانات القديمة
- 2 السكان في قارة آسيا
- 3 المناخ والزراعة في قارة آسيا
- 4 التباين الاقتصادي في قارة آسيا
- 5 التباين الجغرافي في قارة آسيا
- 6 التباين الجغرافي في قارة آسيا

ما صوغ قارة آسيا بالنسبة للعالم؟  
ما هي 3 مميزات منطقة التعرف بالقارة؟

المحتويات المعرفية للوحدة

أسئلة وظيفية

السندات



## الجغرافيا السنة الثانية من التعليم المتوسط

### مسار نشاطك

### الوحدة التعليمية

- تتعرف على مميزات القارة تكتشف أثر الحضارات والديانات القديمة في تشكيل المجتمعات الريفية في آسيا.
- تفسر العوامل المتحكمة في توزيع وتطور السكان في قارة آسيا.
- تتعرف على التنوع المناخي في القارة وتكتشف طبيعة المناخ الموسمي الملائم لزراعة الأرز كغذاء أساسي للسكان منذ القدم.
- تحدد الأقاليم الاقتصادية الكبرى في القارة وتستخلص أهم مميزاتهما.
- تحلل وثائق و معطيات تتعلق بظاهرة الفيضانات في آسيا الموسمية.

### الوحدة 1 قارة آسيا

- 1 - آسيا مهد الحضارات و الديانات القديمة
  - 2 - السكان في آسيا
  - 3 - المناخ والزراعة في قارة آسيا
  - 4 - التباين الاقتصادي في آسيا
- ملف : الفيضانات في آسيا

- تتعرف على الطبيعة الجزرية والجزلية لليابان وتربط العلاقة بين السكان و المعيشات الطبيعية.
- تفسر عوامل تطور اليابان القائم على تحويل المواد الأولية المستوردة من الخارج.
- تستخلص متطلبات وأهمية التنظيم من خلال دراسة ظاهرة المدن العملاقة في اليابان (مجمعات مدن).
- تستقرئ نصوصا وصورا للاستدلال على نوعية الصناعة اليابانية.

### الوحدة 2 اليابان

- 1- اليابان المعيشات الطبيعية
  - 2 - السكان في اليابان
  - 3 - اليابان عملاق اقتصادي
  - 4 - مجمعات مدن اليابان
- ملف : نوعية الصناعة اليابانية

- تربط العلاقة بين الواقع السكاني في الصين ومشكلة الغذاء.
- تميز بين الريف والمدينة لتستخلص الفوارق في المستوى المعيشي بين سكان الصين.
- تتعرف على مميزات كل مرحلة من مراحل تطور الصين لتوازن بينها وتستخلص حصيلة التطور.
- تحدد الأقاليم الاقتصادية في الصين وتشرح أهم مميزاتهما.
- تستخلص انعكاسات النزوح الريفي واكتظاظ المدن الصينية.

### الوحدة 3 الصين

- 1 - الصين : حجم السكان
  - 2 - الصين : ريف ومدينة
  - 3 - التحول الاقتصادي في الصين
  - 4 - التباين الإقليمي في الصين
- ملف : المدينة الصينية

- تتعرف على المناطق الجغرافية للقارة ومميزات العامة ومراحل تدميرها.
- تصنف وتشرح العوامل المتحكمة في توزيع السكان في قارة أمريكا.
- تميز بين أقاليم متباينة في قارة أمريكا
- تقارن بين كل من أمريكا الشمالية وأمريكا الجنوبية لتستخلص الفوارق من حيث التطور و المستوى المعيشي.
- تكتشف أهمية التصنيع على طول الحدود بين و.م.أ والمكسيك.

### الوحدة 4 قارة أمريكا

- 1 - أمريكا العالم الجديد
  - 2 - توزيع السكان في أمريكا
  - 3 - تهينة المجال الأمريكي
  - 4 - أمريكا الشمالية وأمريكا الجنوبية
- ملف : إقامة الصناعة في الحدود

- تربط العلاقة بين السكان و ظاهرة التخلف في البرازيل رغم توفره على ثروات طبيعية هائلة.
- تستخلص نتائج تركيز السكان في المدن الساحلية بالبرازيل.
- تتعرف على ملكية الأراضي الزراعية كعائق للتنمية في البرازيل.
- تكتشف مميزات الأقاليم الطبيعية في البرازيل لإستخلاص دورها في التنمية.
- تتعرف على دواعي استصلاح غابة الأمازون في البرازيل.

### الوحدة 5 البرازيل

- 1 - السكان في البرازيل
  - 2 - الأحياء القصدية في البرازيل
  - 3 - الملكية الزراعية في البرازيل
  - 4 - التباين الإقليمي في البرازيل
- ملف : الأمازون



## مخطط الكتاب

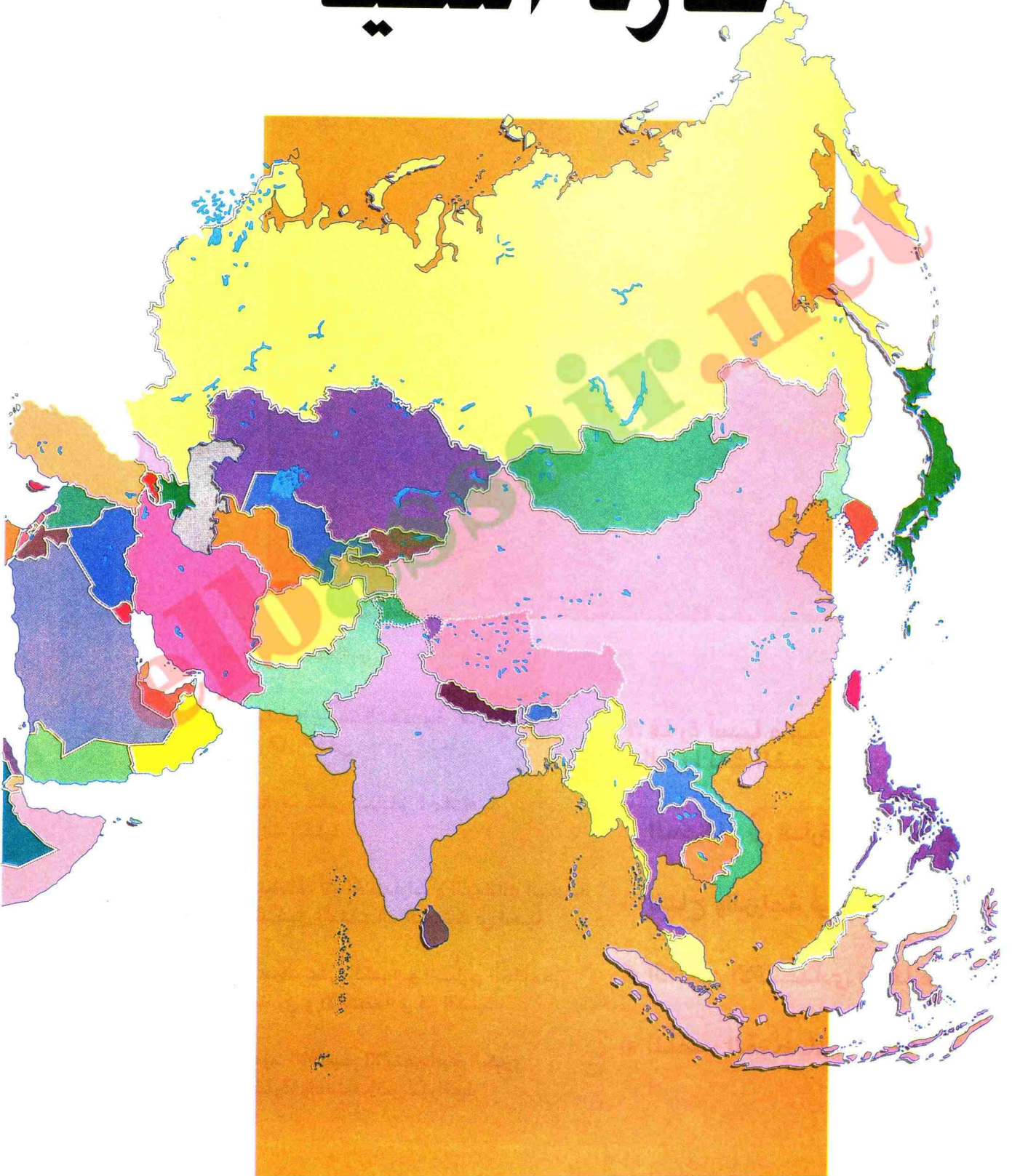
ص	الإسناد	الإسناد	تمارين تطبيقية
12	التقويم	ملف : الفيضان في آسيا الموسمية.	تمارين تطبيقية
30	التقويم	ملف : نوعية الصناعة اليابانية	تمارين تطبيقية
48	التقويم	ملف : المدينة الصينية	تمارين تطبيقية
66	التقويم	ملف : إقامة الصناعة على الحدود	تمارين تطبيقية
84	التقويم	ملف : الأمازون	تمارين تطبيقية



# موقع عيون البصائر العلمي

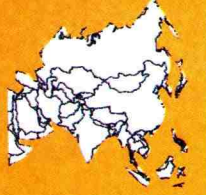
elbassaim.net

# قارة آسيا

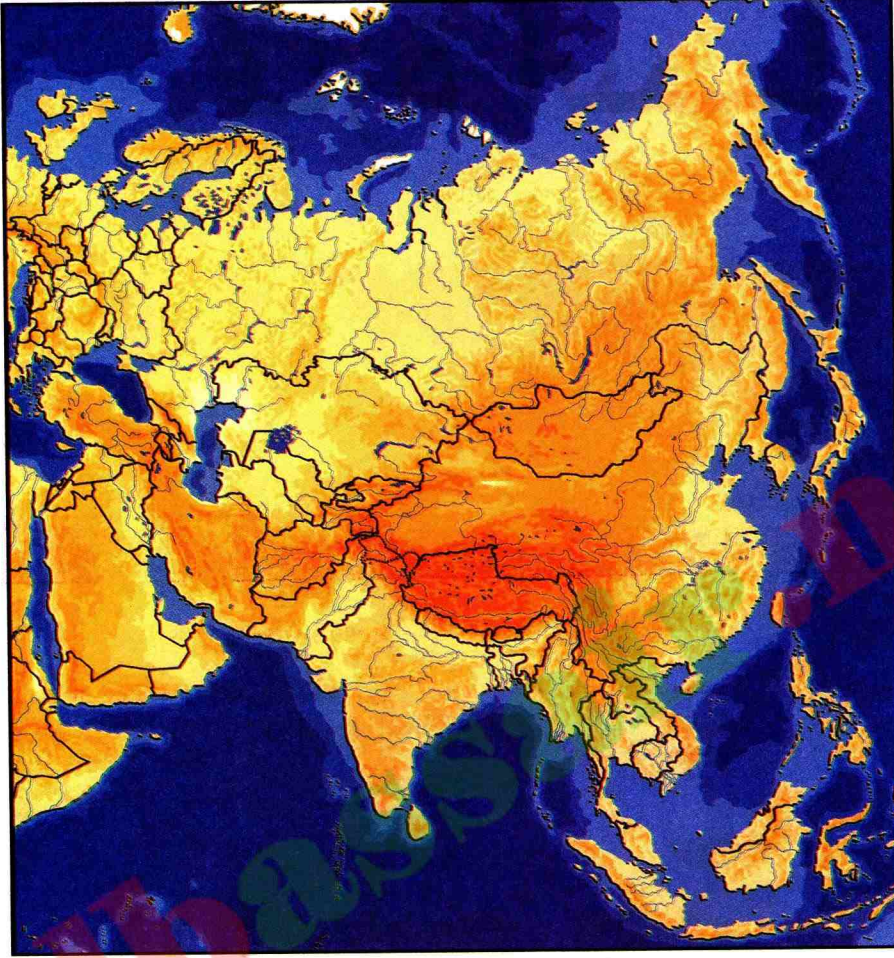




# قارة آسيا



قارة آسيا أقدم و أوسع القارات في العالم.  
يشكل حجم السكان فيها مشكل الحاضر و المستقبل



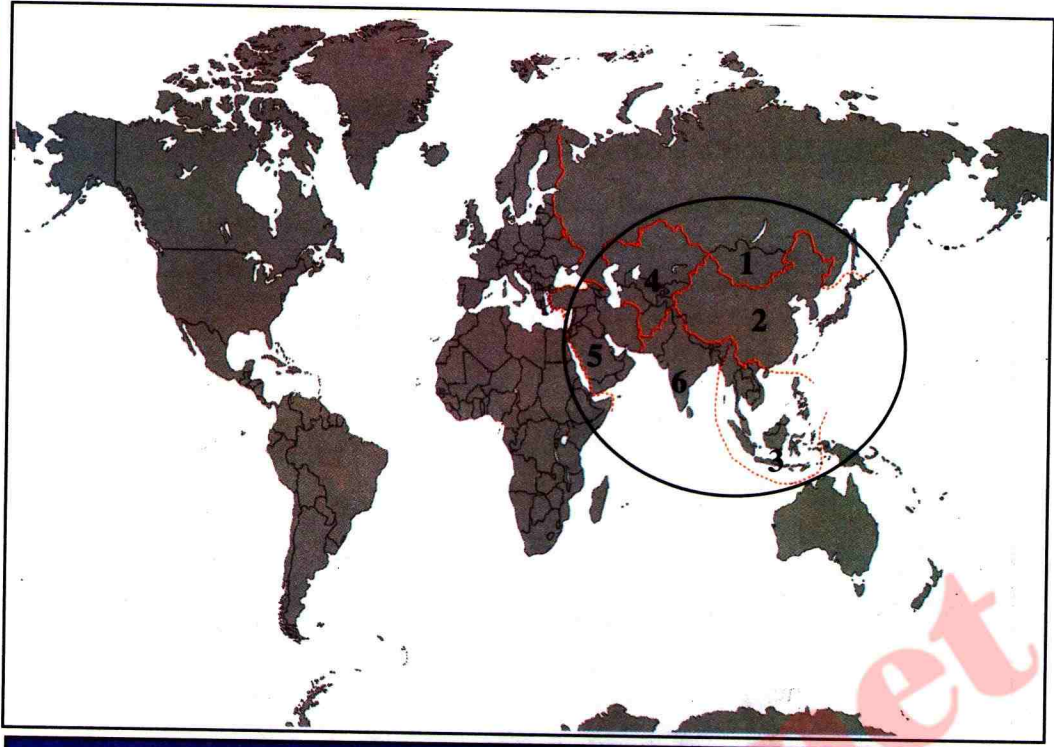
## عقد تعليمي

- 1 قارة آسيا مهد الحضارات و الديانات القديمة
  - 2 السكان في قارة آسيا
  - 3 المناخ والزراعة في قارة آسيا
  - 4 التباين الاقتصادي في قارة آسيا
- الملّف : الفيضانات في قارة آسيا

في نهاية الوحدة التعليمية "قارة آسيا"  
تكون قادرا على :

- التعرف على المناطق الجغرافية و مميزات القارة
- إكتشاف أثر الحضارات و الديانات القديمة في تشكيل المجتمعات الريفية في آسيا.
- التعرف على التنوع و التباين الطبيعي و البشري و الاقتصادي في القارة.
- تحديد الأقاليم الاقتصادية الكبرى في القارة. وإستخلاص مميزاتها.





### المناطق الجغرافية الكبرى في قارة آسيا

- 1 آسيا الشمالية ( سيبيريا وروسيا).
- 2 آسيا الشرقية ( الشرق الأقصى)
- 3 جنوب شرق آسيا
- 4 آسيا الوسطى
- 5 آسيا الغربية ( الشرق الأوسط)
- 6 آسيا الجنوبية ( شبه جزيرة الهند)

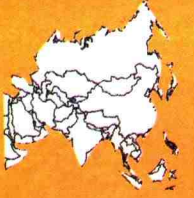
### بطاقة التعريف بقارة آسيا

- المساحة : 44 مليون كلم<sup>2</sup>
- متوسط الحياة : 55 سنة
- عدد السكان : 3,450 ملايين / ن
- الكثافة السكانية : 112 ن / كلم<sup>2</sup>
- نسبة وفيات الأطفال : 65 بالآلف

- ما موقع قارة آسيا بالنسبة للعالم ؟  
- ماهي دلالات معطيات بطاقة التعريف بالقارة ؟



# 1 | قارة آسيا مهد الديانات والحضارات القديمة



1


## مفردات و مصطلحات

الكتب السماوية هي: التوراة، الإنجيل والقرآن.  
البوذية : معتقد ديني (طقوس لتحرير  
الإنسان من آلامه). و مؤسسه بوذا.  
الهندوسية : معتقد ديني ظهر في الهند  
يؤمن بتناسخ الأرواح.

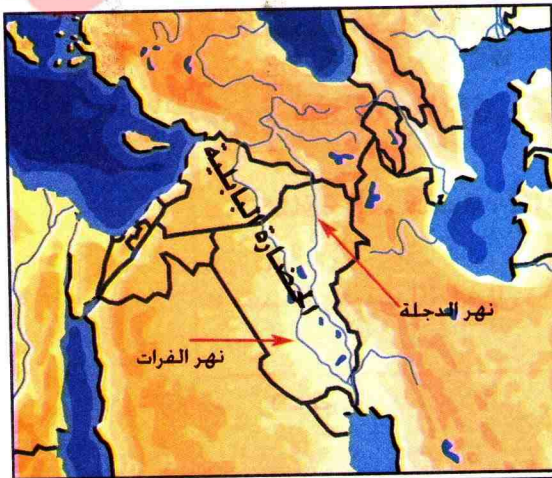
## ماهو تأثير الديانات والحضارات القديمة على المجتمعات الآسيوية ؟



قصر الأباطرة القديم



مظهر عمراني في التبت



بلاد الرافدين

## أ | الحضارات القديمة في آسيا

ساعد التحكم في المياه على  
ضفاف الأنهار في آسيا على  
ظهور وتطور الزراعة، وقيام الحضارات،  
منها حضارة وادي الرافدين،  
الحضارة الهندية، والحضارة الصينية.  
في حين سادت زراعة الأرز في آسيا  
الشرقية و الجنوبية، وارتبطت  
بالسلطة السياسية والدينية.

والإعتقاد السائد أن الأباطرة هم  
همزة وصل بين السماء (الإله) من  
جهة ، وبين الأرض والماء والشعب  
من جهة أخرى. فبقدرما تكون  
المياه غزيرة و الأرض خصبة، بقدرما  
تكون سلطة الحكام قوية.

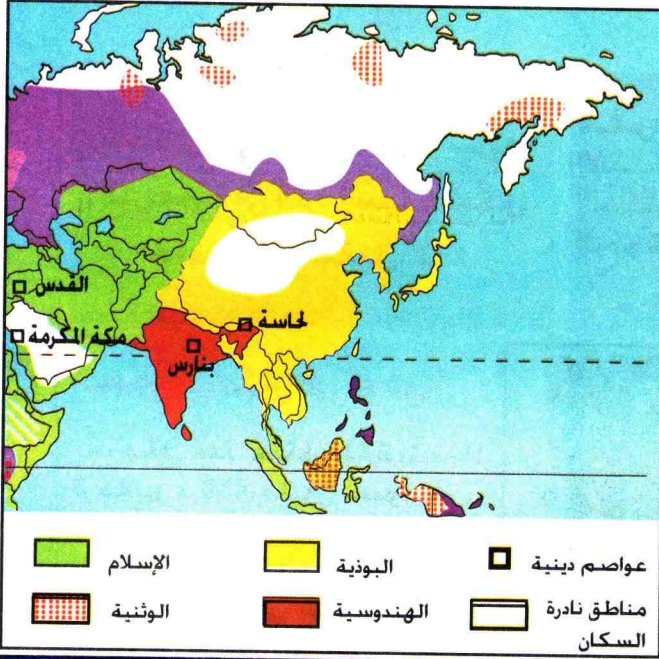
## ب | الديانات في آسيا

نزلت في آسيا الغربية الكتب  
السماوية الثلاثة : التوراة، الإنجيل  
والقرآن، أي الديانات التالية :  
اليهودية، المسيحية والإسلام . ومنها  
انتشرت إلى بقية العالم.  
في حين تعتبر الهند أرض ديانة  
الهندوسية والبوذية التي انتشرت بعد  
القرن 6م في شرق وجنوب شرق آسيا.  
بالإضافة إلى ديانات أخرى محلية.

- تفسّر الحضارات والديانات في قارة  
آسيا جوانب من حياة السكان. ماهي ؟  
- لماذا تعتبر الحضارات القديمة في  
آسيا حضارات ريفية ؟



## من المظاهر الدينية في آسيا




الديانات في قارة آسيا


تعتبر آسيا مهد الديانات القديمة، كالهندوسية والوثنية والبوذية، و فيها ظهرت الديانات السماوية الثلاث، اليهودية، المسيحية والإسلام، مما أدى إلى تنوع وتعدد مظاهر الحياة الدينية في القارة.



التبرك بمياه نهرالغانج



معتقد بوذي



مكة المكرمة

- إلى ماذا يؤدي في نظرك تنوع الديانات

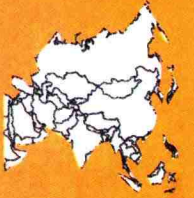
في قارة آسيا ؟

- ماهي أوجه الخلاف بين الديانات

في قارة آسيا ؟



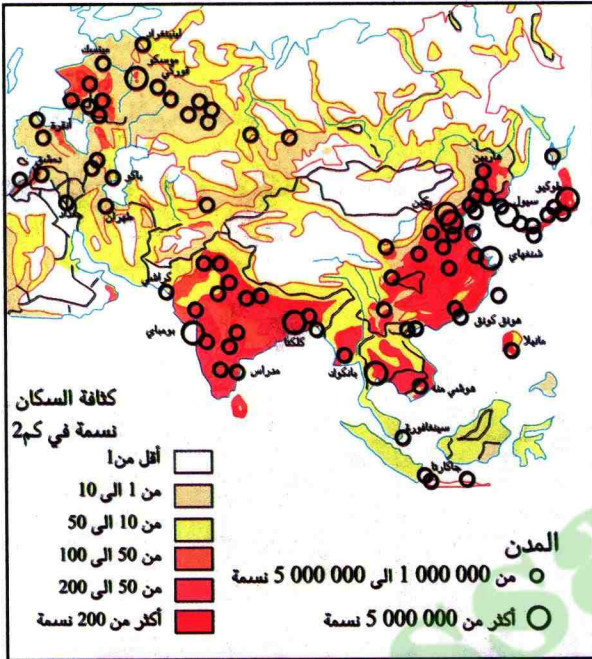
## 2 | السكان في قارة آسيا



2

**مفردات و مصطلحات**  
 الانفجار السكاني : زيادة سريعة لعدد السكان في فترة قصيرة.  
 النمو الديمغرافي : الزيادة الطبيعية للسكان

**يشكل حجم السكان و تباين توزيعهم في قارة آسيا مشكل الحاضر والمستقبل. لماذا ؟**



توزيع السكان في آسيا

### أ | حجم السكان في آسيا

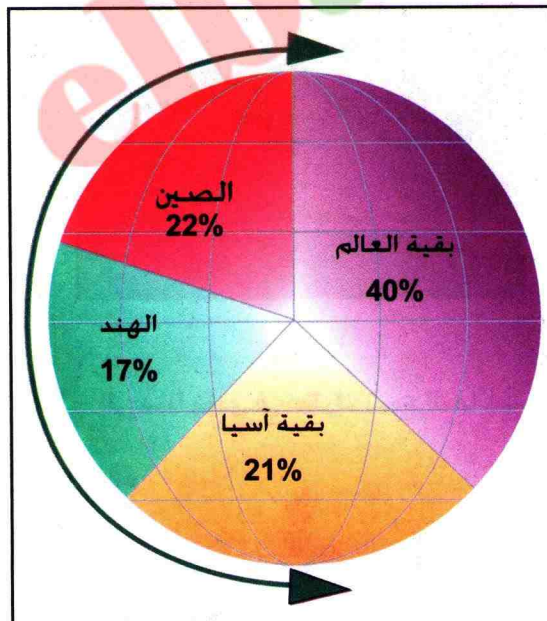
يبلغ عدد سكان قارة آسيا 3 ملايين و 450 مليون نسمة في مساحة تقدر 44 مليون / كلم<sup>2</sup>. يغلب عليهم الجنس الأصفر و الجنس الهندي في شرق و جنوب القارة. و الجنس الآسيوي (عربي) في غرب القارة.

يتركز أغلبهم في المنطقة الشرقية و الجنوبية الشرقية التي تعتبر أول مركز للتجمع السكاني في العالم بكثافة تصل إلى 200 ن / كلم<sup>2</sup>. و فيها مدن تتجاوز 5 ملايين نسمة و مدن أخرى عملاقة ( مجمعات مدن) مثل طوكيو، يوكوهاما.

### ب | الانفجار السكاني في آسيا

تمتاز قارة آسيا بالنمو السكاني السريع، ويتراوح معدل هذا النمو ما بين 25% و 35%. و هي تشكل أكثر من نصف سكان العالم.

و قد نتج عن ذلك اختلال في التوازن بين الإنتاج والإستهلاك، و ارتفاع الكثافة السكانية، و ازدحام المدن.



سكان آسيا بالنسبة للعالم

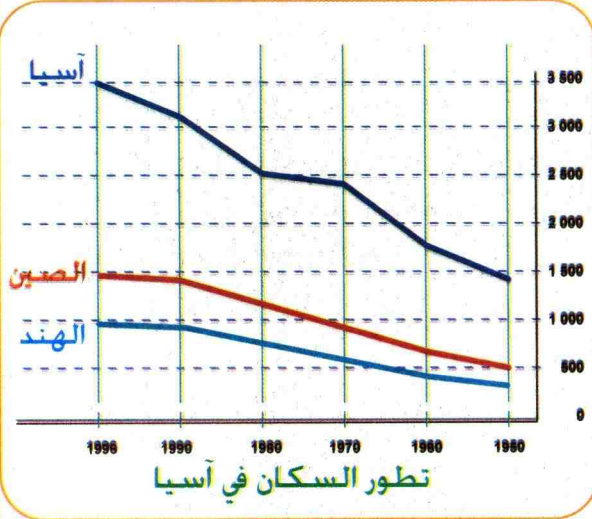
- ما هي المناطق التي يتركز فيها السكان بشكل عام في آسيا ؟
- سمّ المدن التي يزيد عدد سكانها على 5 ملايين نسمة ؟
- علّق على نسبة السكان العالمية في كل من الصين و الهند ؟
- يطرح هذا الحجم الكبير للسكان عدة مشاكل، ماهي ؟





| 2 |


## مشكل النمو الديمغرافي في آسيا



عرف تطور السكان في آسيا زيادة مستمرة من 1مليار و 300 مليون نسمة سنة 1950، الى 3 ملايين و 450 مليون نسمة سنة 1996.

و يبلغ عدد سكان آسيا الشرقية 1 مليار و 500 مليون نسمة، و آسيا الجنوبية 1 مليار و 400 مليون نسمة، يتركزون في المناطق السهلية.

- أحسب تزايد السكان في كل 10 سنوات في قارة آسيا و في كل من الصين و الهند؟



شارع في مدينة صينية

من نتائج الانفجار السكاني في آسيا توسع و إكتظاظ المدن، و هو من أهم المشاكل التي تعاني منه بعض المناطق من آسيا، و تسبب النزوح الريفي الى المدن في إنشاء أحياء قصديرية بضواحي المدن التي تشهد تطورا صناعيا.

- علق على الصورة .

- ما هو أهم مشكل تعاني منه قارة آسيا ؟ ولماذا ؟  
- بم تفسر تركيز السكان في هذه المناطق ؟



# 3 | المناخ والزراعة في قارة آسيا

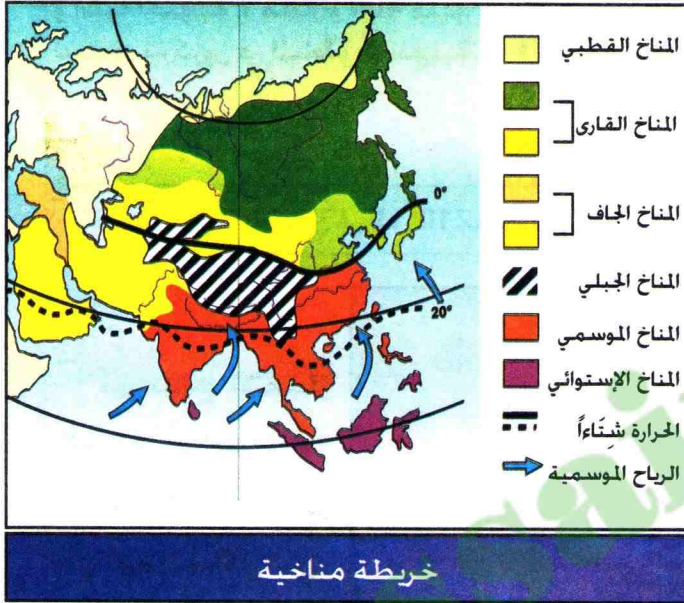


3

## مفردات و مصطلحات

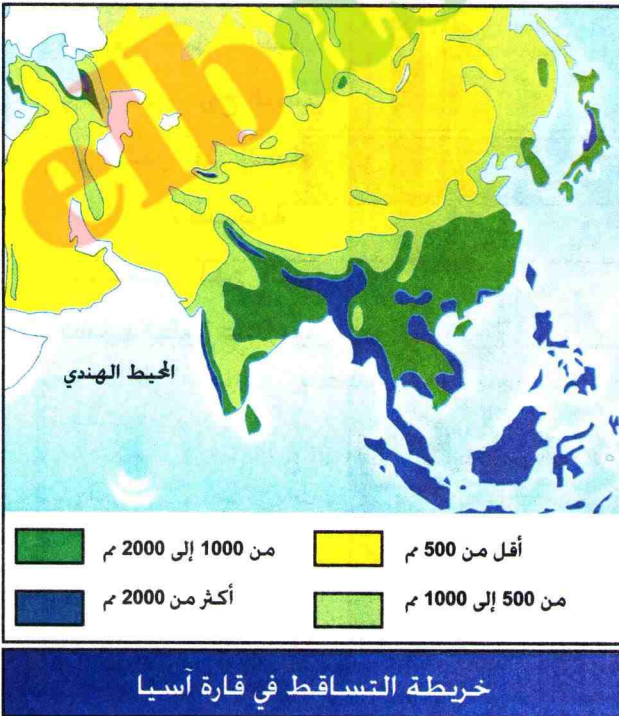
منسوب المياه : كمية المياه في النهر.  
الزراعة المروية : الزراعة المسقية بواسطة  
الآبار او السدود و هي عكس الزراعة المطرية.

لماذا تعرف السهول و الدلتات  
النهرية في آسيا الجنوبية  
و الشرقية اكتظاظا بالسكان ؟



## أ | المناخ في قارة آسيا

تنوع الأقاليم المناخية في قارة آسيا بسبب الامتداد من خط الاستواء جنوبا الى المنطقة القطبية شمالا. و يتميز المناخ الموسمي في القارة بالجفاف شتاءً و بغزارة الأمطار صيفا. بداية بشهر ماي. حيث تهب رياح رطبة من المحيطات باتجاه القارة من الجنوب الشرقي. تتسبب غزارة الأمطار في ارتفاع منسوب مياه الأنهار محدثة فيضانات عارمة و مدمرة.



## ب | زراعة الأرز في قارة آسيا

تحتاج زراعة الأرز إلى الحرارة والمياه الكثيرة و هي بذلك تناسب المناخ الموسمي كحجوب تنمو في التربة المغمورة بالماء.

اهتم المزارع الآسيوي بإقامة الحواجز و تهيئة الأرض و تكثيف الأعمال الزراعية. بالإضافة الى إقامة السدود و القنوات و حفر الآبار و التوسع في الزراعة المروية و استعمال الأخصبات حتى يسجل زيادة في الإنتاج و يحقق محصولين في السنة.

- كيف يمكن للمزارع الآسيوي أن يواجه حاجيات السكان الغذائية ؟





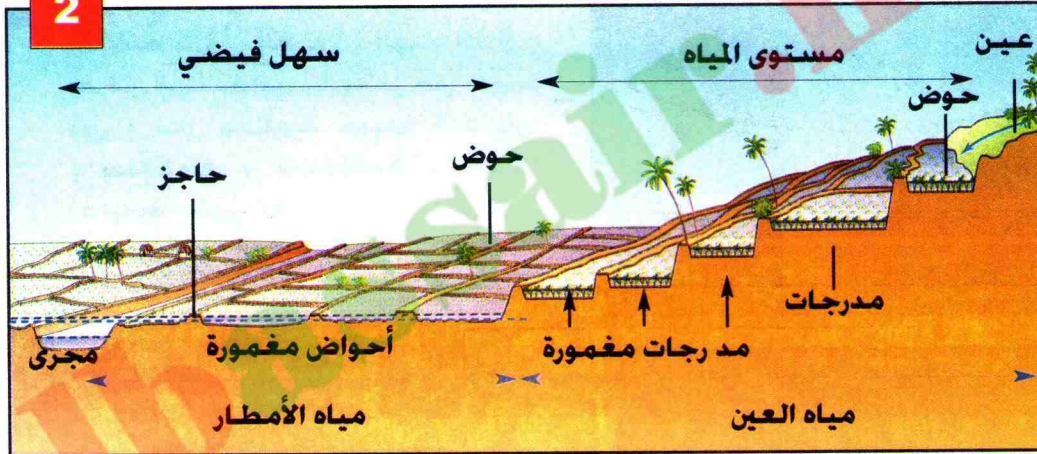
## زراعة الأرز في قارة آسيا

1



زراعة الأرز

2



مخطط إستغلال المياه

3

إنّ التحكم في استغلال المياه في قارة آسيا منذ زمن بعيد كان ضروريا للزراعة خاصة في فصل الشتاء. و يتطلب ذلك تسير المياه بما يضمن امكانية الحصول عليها في الوقت اللازم. تبدو المرزات (مزارع الأرز) بقطعها المسطحة و أشكالها المتنوعة كأحواض تحيط بها حواجز و تغذيها قنوات في منظر أخضر يعوم في المياه.

إستغلال المياه

- قارن بين الصورة (رقم 1) و مخطط استغلال المياه والنص (رقم 3.2) في زراعة الأرز. و رتب ملاحظتك في شكل فقرة.



# 4 | التباين الاقتصادي في قارة آسيا




4

## مفردات و مصطلحات

**التنمية :** توجيه الجهود في مجال الاقتصاد لزيادة الانتاج  
**الانطلاقة الاقتصادية:** النهوض الاقتصادي السريع

في قارة آسيا بلدان فقيرة و بلدان أخرى تعرف بداية تطوراقتصادي سريع في حين يعتبراليابان نموذج التطور والنمو في القارة. إلى ماذا يعود هذا التباين ؟



حي قصديري في بومباي (الهند)

## أ | التفاوت في التنمية في آسيا

لا تزال بعض البلدان الفقيرة في آسيا تعتمد على الطرق التقليدية. و تتصف بارتفاع عدد الفلاحين. و مظاهر الفقر مثل : البنغلاديش والكامبودج. بينما تشهد بلدان أخرى عصنة الزراعة و قيام صناعات في ضواحي المدن . حيث اليد العاملة رخيصة مثل : الصين و الهند اللتان تعرفان انطلاقة اقتصادية. في حين ظهرت دول و مدن صناعية جديدة كطايبان و هونغ كونغ و سنغافورة و كوريا الجنوبية التي غزت أسواق العالم بمنتجاتها.

## ب | الأقاليم الاقتصادية في آسيا

### 1- اقليم آسيا الوسطى والغربية

منطقة غنية بالبتروال والغاز الطبيعي كدول الخليج وايران. وهي لا تعرف استقرارا بكتنها من الانطلاقة الاقتصادية لأسباب مختلفة.

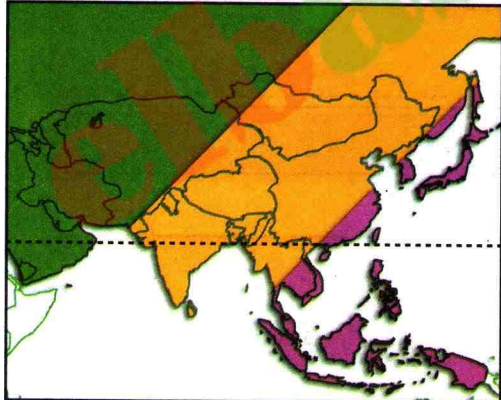
### 2- اقليم آسيا الموسمية

يضم 90% من سكان آسيا. يشهدحاليا تطورا وعصنة قائمين على اتساع الصناعات المتنوعةمثل الصين والهند.

### 3- اقليم الشرق الأقصى

توجد به دول صغيرة بحرية تشكل قوى صناعية وتجارية كاليابان ثاني قوة اقتصادية في العالم وكذا التينينات الأربعة (كوريا الجنوبية طايبان - هونغ كونغ - سنغافورة). توسعت مدننا الساحلية لتصبحمجمعات مدن عملاقة مثل طوكيو التي تعتبرأهم مركز إقتصادي في آسيا و العالم.

- ما هي اسباب التفاوت الاقتصادي في آسيا ؟  
- بين أوجه الخلاف بين الأقاليم المذكورة .



1- اقليم آسيا الوسطى والغربية 2- اقليم آسيا الموسمية 3- اقليم الشرق الأقصى  
--- مدار السرطان



# 4 | التباين الاقتصادي في قارة آسيا




4

## مفردات و مصطلحات

**التنمية :** توجيه الجهود في مجال الاقتصاد لزيادة الانتاج  
**الانطلاقة الاقتصادية:** النهوض الاقتصادي السريع

في قارة آسيا بلدان فقيرة و بلدان أخرى تعرف بداية تطوراقتصادي سريع في حين يعتبراليابان نموذج التطور والنمو في القارة. إلى ماذا يعود هذا التباين ؟



حي قصديري في بومباي (الهند)

## أ | التفاوت في التنمية في آسيا

لا تزال بعض البلدان الفقيرة في آسيا تعتمد على الطرق التقليدية. و تتصف بارتفاع عدد الفلاحين. و مظاهر الفقر مثل : البنغلاديش والكامبودج. بينما تشهد بلدان أخرى عصرنة الزراعة و قيام صناعات في ضواحي المدن . حيث اليد العاملة رخيصة مثل : الصين و الهند اللتان تعرفان انطلاقة اقتصادية. في حين ظهرت دول و مدن صناعية جديدة كطايوان و هونغ كونغ و سنغافورة و كوريا الجنوبية التي غزت أسواق العالم بمنتجاتها.

## ب | الأقاليم الاقتصادية في آسيا

### 1- اقليم آسيا الوسطى والغربية

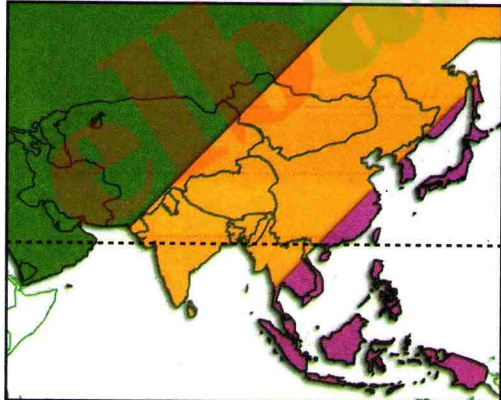
منطقة غنية بالبتروول والغاز الطبيعي كدول الخليج وايران. وهي لا تعرف استقرارا بكنها من الانطلاقة الاقتصادية لأسباب مختلفة.

### 2- اقليم آسيا الموسمية

يضم 90% من سكان آسيا. يشهدحاليا تطورا وعصرنة قائمين على اتساع الصناعات المتنوعةمثل الصين والهند.

### 3- اقليم الشرق الأقصى

توجد به دول صغيرة بحرية تشكل قوى صناعية وتجارية كاليابان ثاني قوة اقتصادية في العالم وكذا التينينات الأربعة (كوريا الجنوبية طايوان - هونغ كونغ - سنغافورة). توسعت مدننا الساحلية لتصبحمجمعات مدن عملاقة مثل طوكيو التي تعتبرأهم مركز إقتصادي في آسيا و العالم.



1- اقليم آسيا الوسطى والغربية 2- اقليم آسيا الموسمية 3- اقليم الشرق الأقصى  
--- مدار السرطان

- ما هي اسباب التفاوت الاقتصادي في آسيا ؟

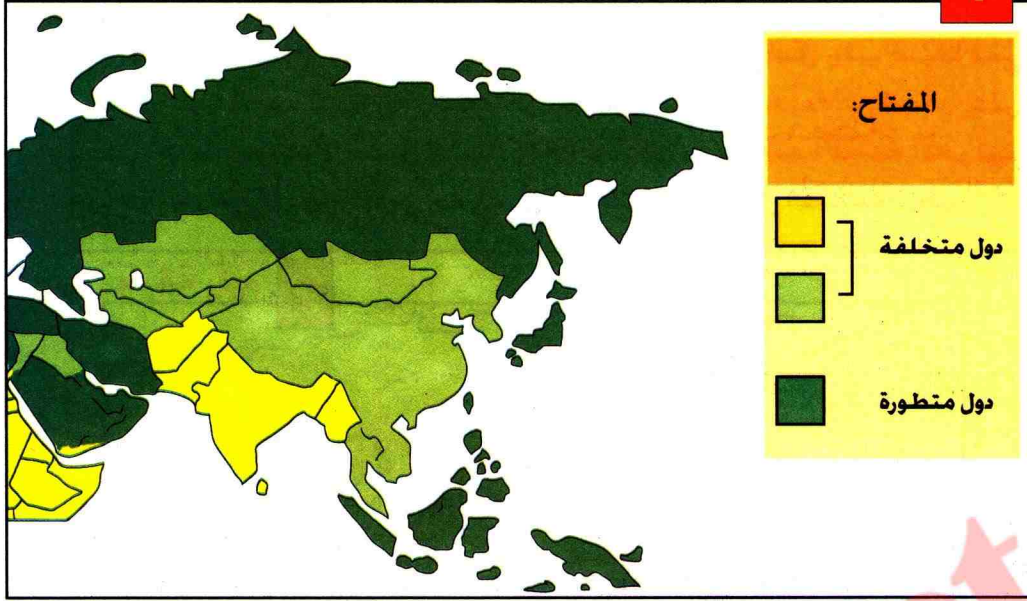
- بين أوجه الخلاف بين الأقاليم المذكورة .





## مظاهر التفاوت الاقتصادي في آسيا

1



التطور البشري في آسيا

3



إقامة مصانع عائمة في الماء

2



آبار بترول في الخليج

4

يعتبر اليابان أكثر بلدان آسيا تطورا و غنى. حيث أصبح يحقق أرباحا طائلة من صناعة تحويلية قائمة على استيراد المواد الأولية. يتصف اليابان بارتفاع المستوى المعيشي ( الأجور أولوية التعليم. انخفاض نسبة وفيات الأطفال. إرتفاع متوسط الحياة ) وبذلك يشكل نمودجا لبقية بلدان قارة آسيا.

- اعتمادا على الخريطة و الصورة (رقم 1, 2). إستنتج التفاوت الإقتصادي بين الدول المنتجة للبتروول و باقي دول آسيا.
- اربط بين الصورة والنص (رقم 3, 4).

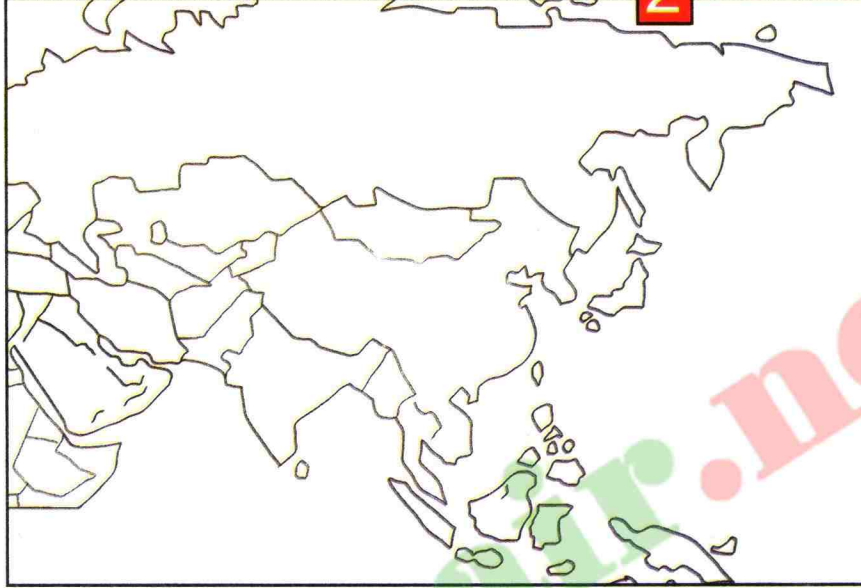


# تطبيق

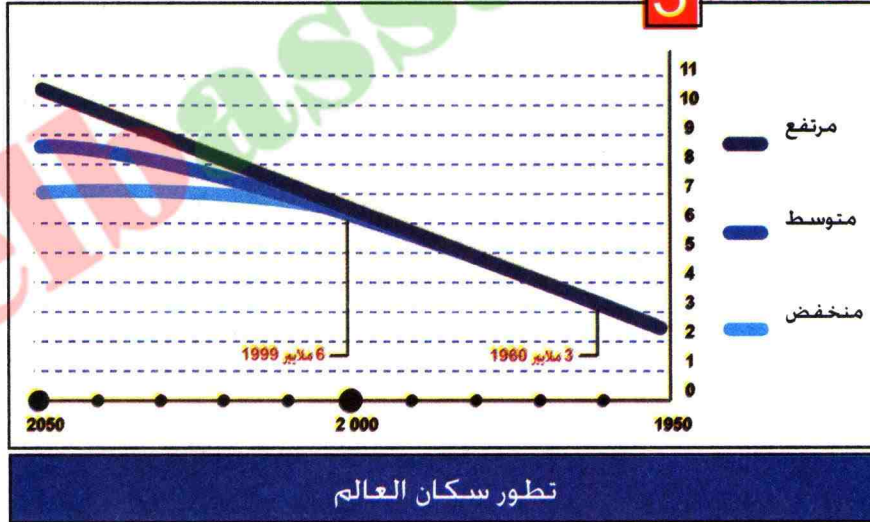
## وثيقة رقم 1

في مناطق المناخ الموسمي فصلان فصل جاف شتاء وفصل رطب صيفا ففي شمال غرب الهند تهب رياح جافة من الشمال الشرقي بعيدا عن البحر على مدى نصف السنة أي فصل الشتاء الجاف ثم على مدى نصف السنة الآخر تهب رياح البحر من الجنوب الغربي حاملة أمطارا غزيرة أي فصل الصيف الرطب.

## وثيقة رقم 2



## وثيقة رقم 3



- 1 - انقل الخريطة (الوثيقة رقم 2) ولون المنطقة المقصودة حسب (الوثيقة رقم 1) ثم ضع مفتاحا لها.
- 2 - تتوقع الأمم المتحدة أن ينمو عدد سكان العالم من 6 مليارات نسمة عام 1999 إلى ما يتراوح بين 07 و 10 مليارات نسمة بحلول عام 2050. وحسب الوثيقة الحالية لتزايد السكان. فإن 60% منهم يوجدون في قارة آسيا :  
أ- احسب عدد سكان قارة آسيا في سنة 2050.  
ب - ماهي أهم المشاكل التي يطرحها الانفجار السكاني في آسيا ؟ ولماذا ؟



## وثيقة رقم 4

عرفت كوريا الجنوبية تطورا ملحوظا منذ ما يقرب 40 سنة. بحيث ارتفع الدخل الفردي فيها من 20 دولار الى 6000 دولار في سنة 1995. و أصبحت من الدول الغنية بفضل تصنيعها السريع على غرار دول أخرى من المنطقة. و انعكس ذلك على إزدهار الحياة الإجتماعية.

جريدة العالم (Le Monde).  
8 جانفي 1997

## وثيقة رقم 5



## وثيقة رقم 6



ساحة في سيول ( كوريا الجنوبية )

- 1 - حدّد الموقع الجغرافي لكوريا الجنوبية (الوثيقة رقم 5)
- 2 - ما الذي يدل على تطور كوريا الجنوبية من خلال الوثيقتين رقم 4 و رقم 6 ؟

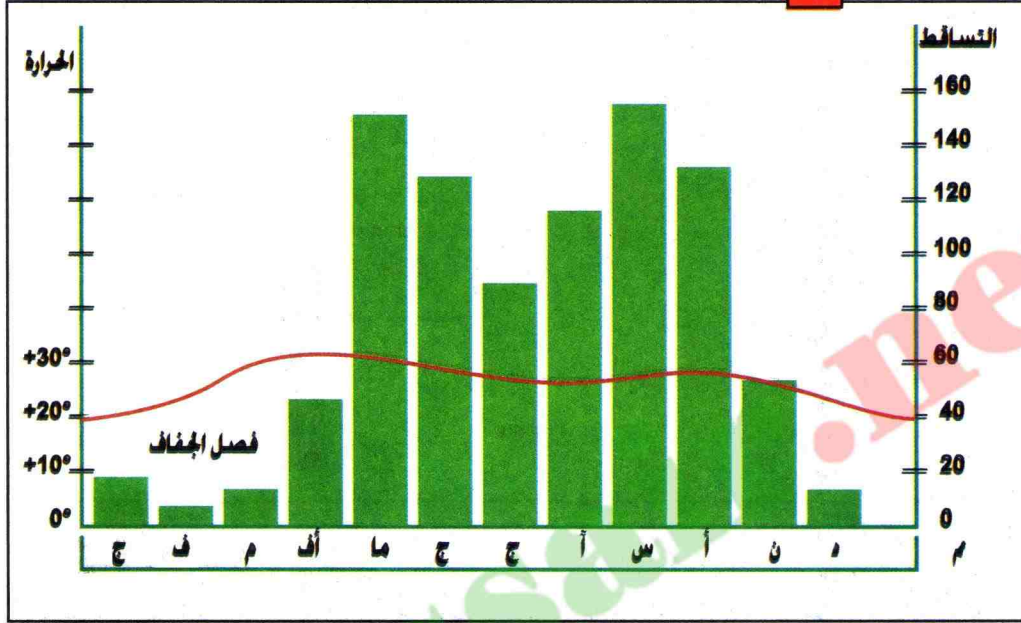


# ملف

## الفيضانات في قارة آسيا

كيف تحدث الفيضانات في قارة آسيا ؟

### وثيقة رقم 1



الحرارة والتساقط في قارة آسيا الموسمية

### وثيقة رقم 2



فيضانات في إحدى مدن الهند






### وثيقة رقم 3

تصل الرياح الموسمية الحاملة للأمطار الى شبه الجزيرة الهندية من الجنوب الغربي، فتسقط بغزارة على المنطقة المواجهة للمحيط. ثم تتوجه نحو الشمال الغربي مرورا بخليج البنغال وسهل الغانج فتصطدم بالحاجز الجبلي للهمالايا فتزداد غزارة متسببة في فيضانات عارمة.

### وثيقة رقم 4

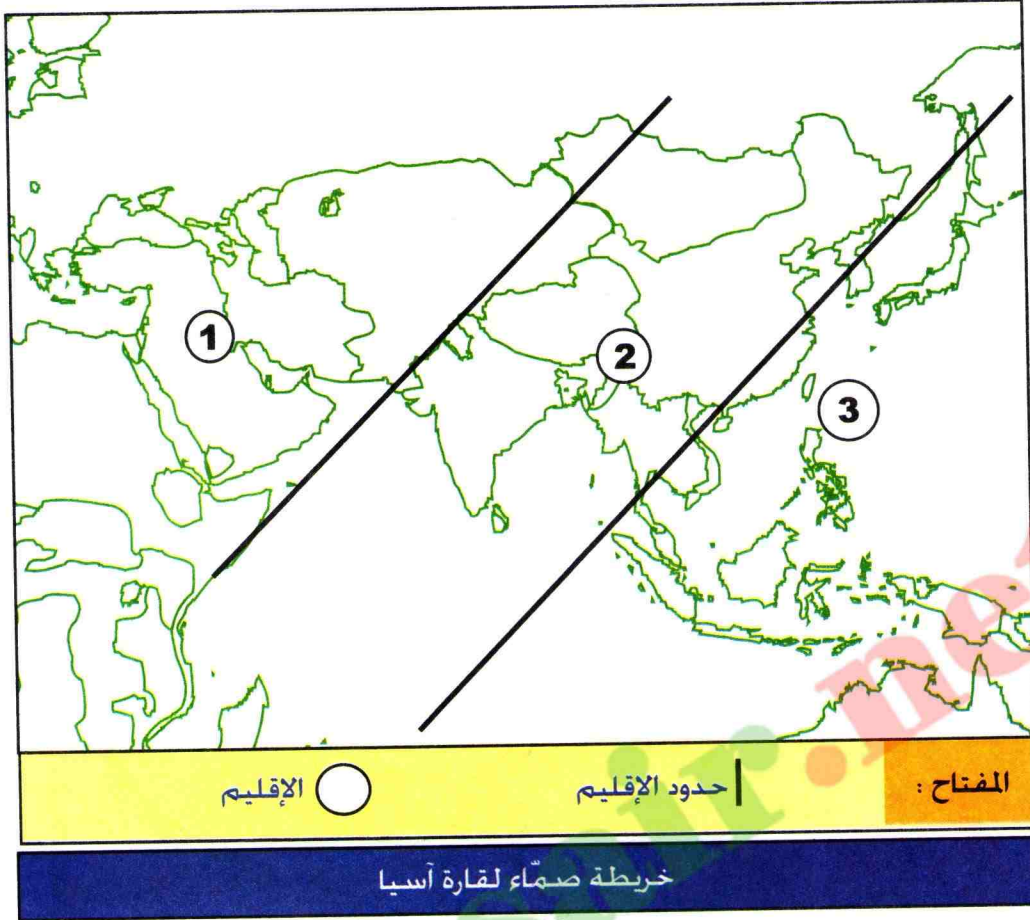


فيضانات في نهر الغانج

- من خلال الوثائق المعطاة، أكتب فقرة تبين فيها أسباب الفيضانات و آثارها على المنطقة.



# التقويم



هناك ثلاث أقاليم اقتصادية كبرى في قارة آسيا :

- إقليم يقوم تطوره على صناعات جديدة تعتمد اليد العاملة الرخيصة.
- إقليم يقوم تطوره على تصدير البترول .
- إقليم يقوم تطوره على تحويل المواد الأولية المستوردة .

1 - أذكر الأقاليم المقصودة بكل رقم من الخريطة

2 - ضع جدولاً ترتب فيه مميزات كل إقليم ما يلي:

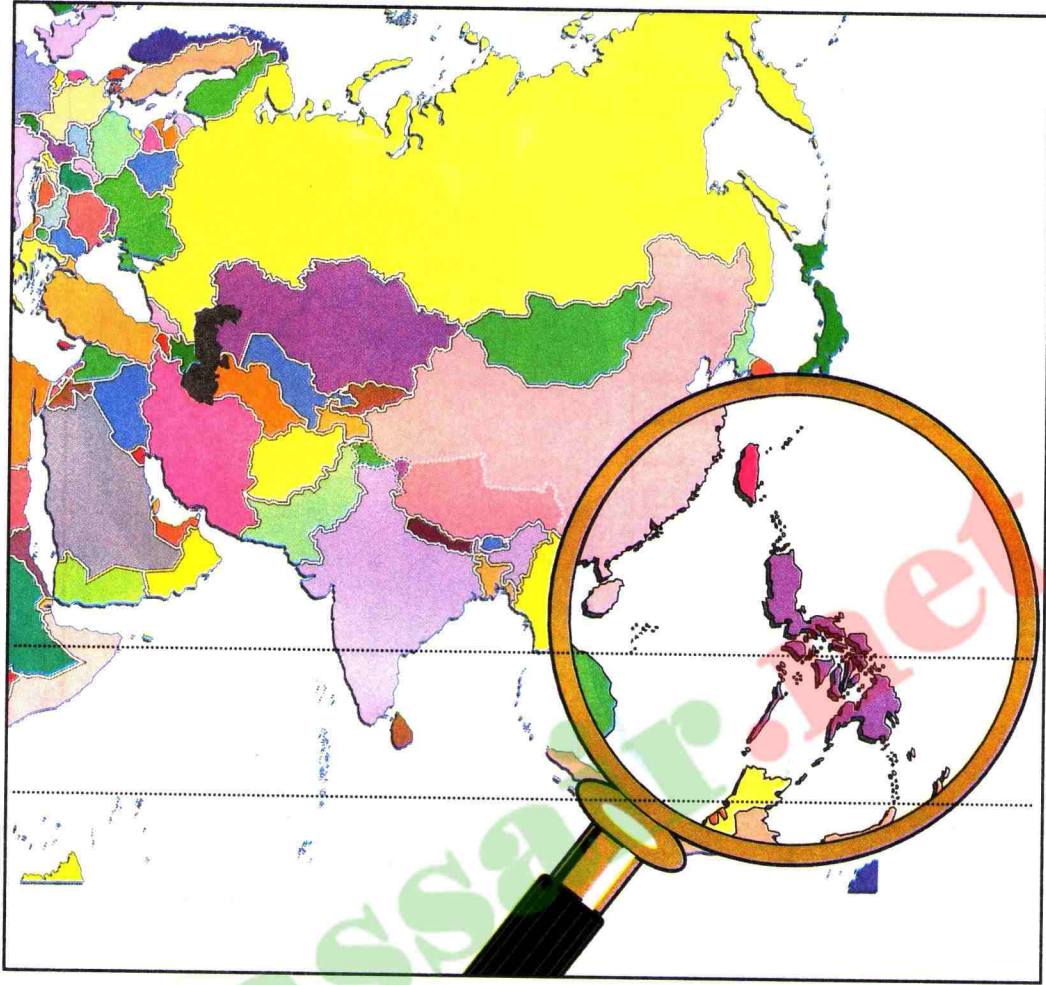
- تركز 90% من سكان القارة - القرب من أوروبا - تطوير العادات والتقاليد لفائدة العصرية.
- بها التنينات الأربعة - بها طريق الحرير قديماً.
- استيراد المواد الأولية و تحويلها. - استخراج البترول وتصديره.
- اعتماد يد عاملة رخيصة.

3 - أرسم خريطة آسيا على كراسك :

- أ : لَوْن بالأصفر كلا من الصين و الهند و بالأحمر اليابان.  
ب : حدّد بدائرة المناطق الكبرى للتركز السكاني في آسيا.



# للإجاز خارج القسم



## نص للمطالعة الفلبين

### نبذة تاريخية

لا نعلم إلا القليل عن تاريخ الفلبين قبل وصول الأسبان في القرن السادس عشر، وربما كانت الجزر في أوقات مختلفة جزءاً من الإمبراطوريات الصينية، الهندية والعربية. وكان الأسباني « ميغيل دي ليغاسبي » هو الذي جعل « مانيل » عاصمة لها، لكن العاصمة الرسمية اليوم هي مدينة كويزون Quezon الملاصقة لمانيل. لقد حكم الأسبان هذه البلاد أكثر من 300 سنة. و أصبحت في عام 1898 مستعمرة أمريكية نتيجة للحرب الأسبانية الأمريكية. ثم منحتها استقلالاً داخلياً عام 1935. بعدها احتلت الجيوش اليابانية البلاد من عام 1942 إلى عام 1945، ثم طردهم الأمريكيون بقيادة الجنرال « دوغلاس ماك آرثر » ( Douglas Mc Arthur ). وأصبحت الفلبين جمهورية مستقلة في اليوم الرابع من جويلية عام 1946.

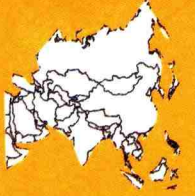
موسوعة المعرفة الجزء 18

- أكتب فقرة من 10 أسطر تبين فيها أهم مميزات قارة آسيا.



# للمطالعة

## آسيا قارة الأبعاد القصوى



يمكن للانسان السفر بالطائرة من نيويورك الى أوروبا في 07 ساعات، ولكنه يحتاج الى 20 ساعة للسفر بالطائرة من القاهرة إلى طوكيو في اليابان.  
الرحلة عن طريق البحر من مصر إلى يوكوهاما في اليابان تستغرق 24 يوما. إن مساحة آسيا تبلغ حدا من الإتساع بحيث أن المسافر ينبغي أن يقضي 10 ايام في القطار من حدودها الغربية إلى اليابان.




زراعة الأرز في الصين

يعتبر الأرز أهم منتجات آسيا الزراعية، إذ يقدر محصوله في القارة بـ : 93 % من مجموع ما ينتج من الأرز في العالم. و تأتي أمريكا الجنوبية في الدرجة الثانية بعد آسيا في إنتاج الأرز.

تنتشر حقول الأرز في السهول الشاسعة الممتدة شرقي آسيا، من الصين حتى الهند. و هي زراعة تعتمد على الأمطار الموسمية، و تتطلب عناية خاصة. وقد إعتد سكان تلك المناطق في معيشتهم على الأرز بشكل خاص حتى عرفت حضارتهم بحضارة الأرز.




# اليابان





# اليابان

كيف تفسّر القوة الإقتصادية لليابان كبلد جزري،  
صغير المساحة، كثير المعيقات الطبيعية ؟



## عقد تعليمي

- 1 اليابان: المعيقات الطبيعية
  - 2 السكان في اليابان
  - 3 اليابان عملاق إقتصادي
  - 4 مجمّعات مدن في اليابان
- في نهاية الوحدة تكون قادرا على:
  - ربط العلاقة بين السكان والمعيقات الطبيعية.
  - تفسر عوامل تطور اليابان .
  - إستخلاص متطلبات وأهمية التنظيم العمراني ( مجمّعات مدن ).
- الملف : نوعية الصناعة اليابانية





## بطاقة تعريف اليابان

المساحة : 378.000 كلم<sup>2</sup>.

السكان : 127,6 مليون نسمة. 2004

معدل الكثافة السكانية :

333 ن/كلم<sup>2</sup>.

العاصمة : طوكيو .

نسبة الولادات : 10 بالألف.

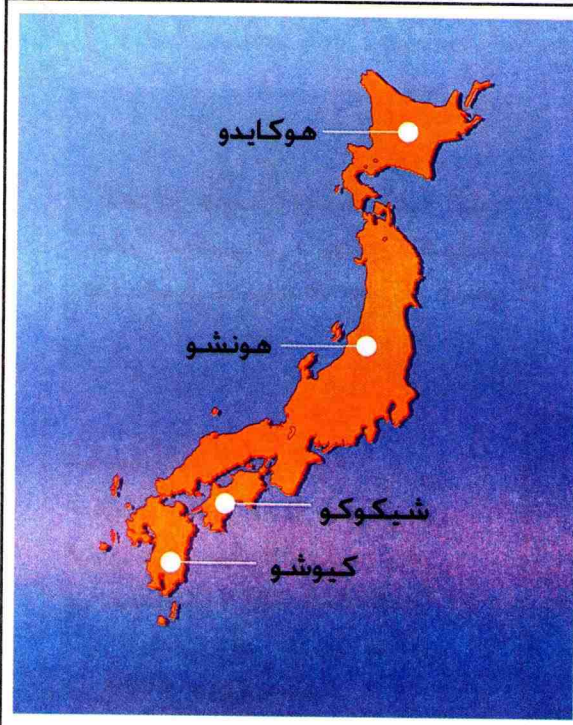
نسبة الوفيات : 07 بالألف.

متوسط الحياة : 77 سنة.

مؤشر التنمية البشرية : المرتبة

08 عالميا.

صورة إقتصاد العالم 2006



### الجزر الرئيسية في اليابان

- اليابان بلد جزري . قليل المساحة لكنه يعتبر قوة إقتصادية عالمية . لماذا ؟



### التهيئة الإقليمية في سهل ساحلي ضيق في اليابان

- لاحظ و حدّد مكونات الصورة. ماذا تستخلص من ذلك ؟



# 1 | المعوقات الطبيعية لليابان



1

## مفردات و مصطلحات

تسونامي : عاصفة ومد بحري يعقبان الزلازل  
التيفون : إعصار موسمي مدمر.  
المجال الجغرافي : الرقعة التي يتمتع بها البلد  
من يابس و ماء.

لفرض قوته الإقتصادية كان  
على اليابان أن يتجاوز معوقات  
طبيعية عديدة ما هي؟ و كيف؟



## المعوقات الطبيعية

البحر أوسع مجال جغرافي في  
اليابان. يعيش حوالي 130 مليون ياباني  
في مساحة : 378.000 كلم<sup>2</sup>.  
لأن اليابان بلد جزري يتكون  
من 4000 جزيرة أهمها:  
-جزر هونشو و هوكايدو  
-جزر كيوشو و شيكوكو.  
تغطي الجبال 5/4 سطح  
اليابان في حين تتصف السهول  
الساحلية بالضيق و بكثافة  
سكانية عالية.  
يعزل البحر اليابان عن بقية  
آسيا و العالم، لكنه يعتبر  
مصدر غذاء و مجال واسع  
للنقل و إقامة منشآت عائمة.

- ما هو المظهر التضاريسي الغالب  
على سطح اليابان؟
- ما هي مميزات السهول اليابانية؟



مطار عائم في اليابان

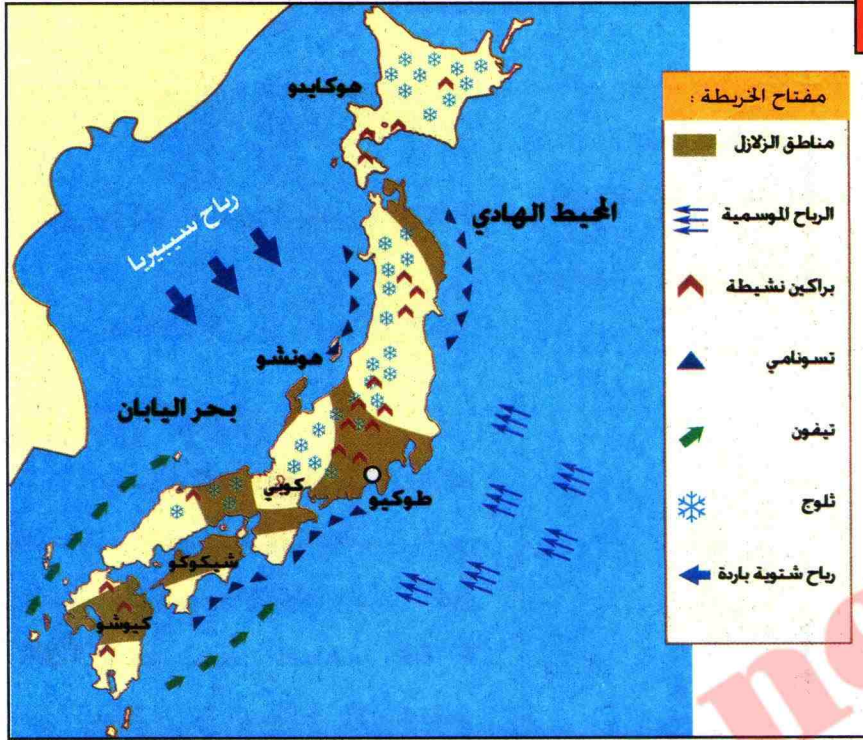
المطار الحديث بأوزاكا، تم إنجازه  
في عرض البحر لمجابهة مشكل  
الإنزعاج من صوت الطائرات  
و نقص المساحة.

- لماذا لجأ اليابانيون إلى البحر لإقامة منشآتهم؟



## الأخطار الطبيعية في اليابان

1



خريطة الأخطار الطبيعية في اليابان

2



صورة لزلازل كوبي

تسبب زلزال كوبي يوم 17 جانفي 1996 في مقتل 6300 شخص و أحدث خسائر فادحة في الأحياء القديمة و المنشآت.

- يتعرّض اليابان لمجموعة من الأخطار الطبيعية. أذكر هذه الأخطار.
- فسّر أسباب ذلك.
- علّق على الصورة (زلزال كوبي).



## 2 | السكان في اليابان

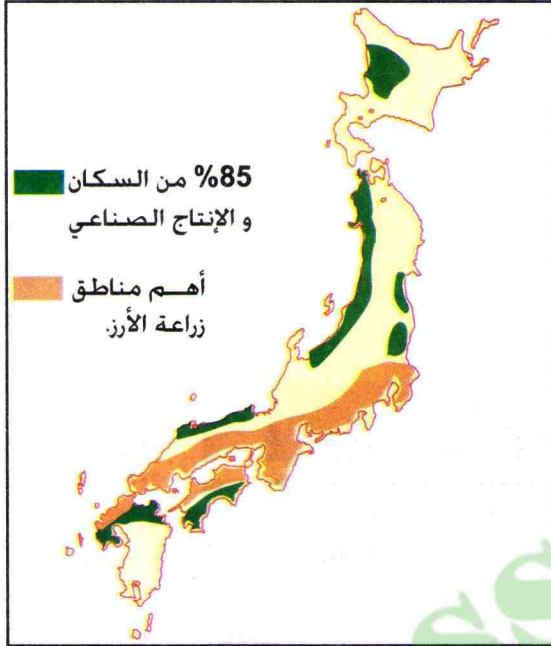


2

### مفردات و مصطلحات

تركز السكان : إرتفاع عددهم و كثافتهم في المكان.  
مجمع مدن : مدن عديدة متصلة ببعضها.

أين يتركز سكان اليابان ، و لماذا ؟




نشاط السكان في اليابان

### أ | سكان اليابان

يتركز سكان اليابان في الشريط الساحلي الجنوبي بكثافة عالية جدا بين مدينة طوكيو وفكيوكا. على طول 1200 كلم. تضم المنطقة 85 % من السكان و النشاط الإقتصادي. وهي عبارة عن مجمع مدن متصلة ببعضها ، ومن أنشطها في العالم. يتمتع موقعها بمزايا طبيعية و إقتصادية بالغة الأهمية.

### ب | نتائج التركيز السكاني في اليابان

- ترتب على التركيز السكاني الكبير في الشريط الساحلي الياباني عدة نتائج:
- استغلال السطح الضيق في الصناعة و الزراعة و السكن.
  - ارتفاع أسعار قطع الأرض ارتفاعا كبيرا.
  - التلوث البيئي.
  - مشاكل التنسيير و تخص :
  - شبكة الطرق.
  - حماية البيئة.
  - الحاجة إلى أرض لإقامة المنشآت المتنوعة.



مركب صناعي في عرض البحر ( مدينة كيو باليابان )

- كيف عالج اليابانيون مشكل قلة الأراضي لإقامة المنشآت الإقتصادية ؟

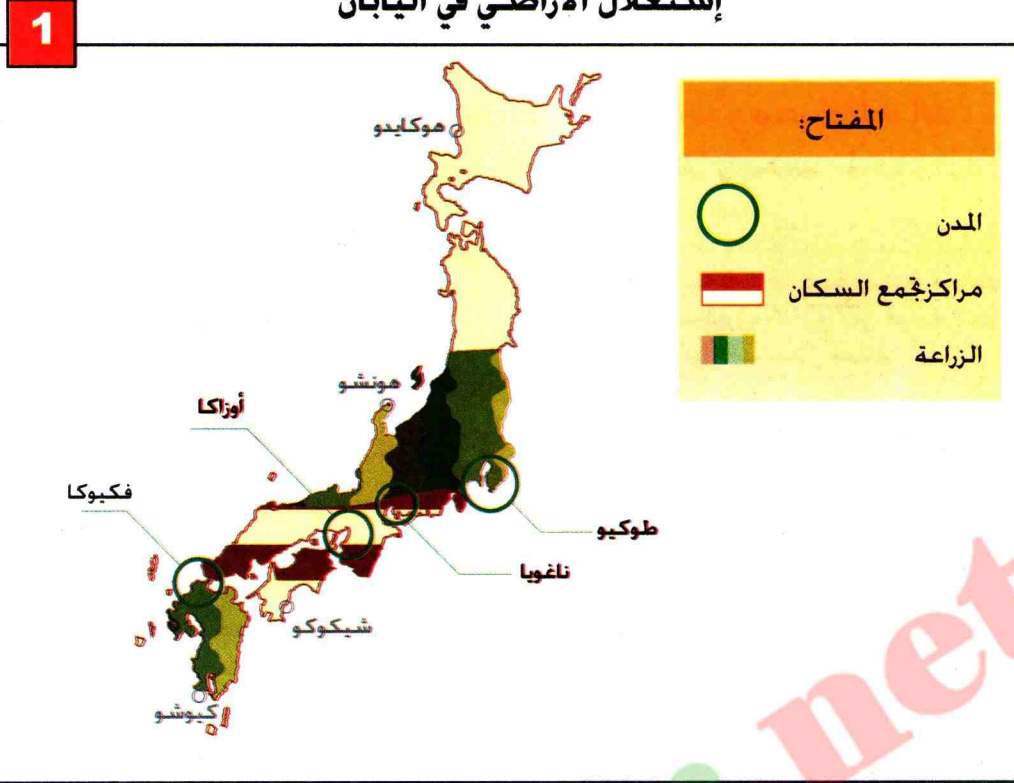






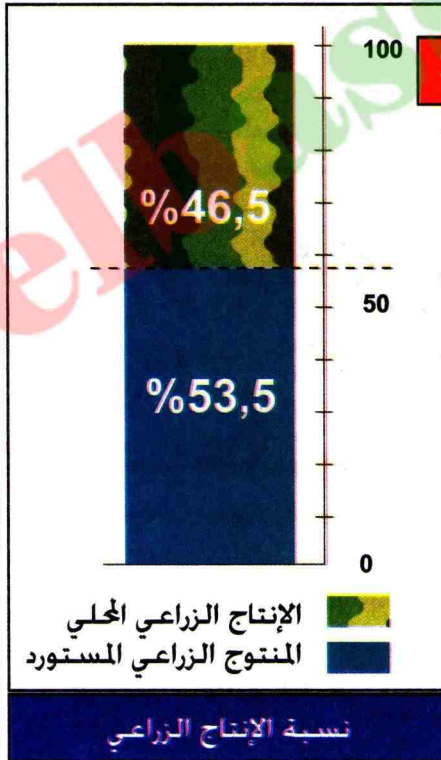
2

## إستغلال الأراضي في اليابان



### تركز السكان في اليابان

لاحظ الخريطة وفسّر أسباب تركيز سكان اليابان في المناطق الجنوبية.



2

تم تهيئة السهول في اليابان بهدف المحافظة والإقتصاد في الأراضي و تسهيل عملية التنقل. كما تم بناء ناطحات السحاب في وسط المدن، و شق طرق مزدوجة في شكل طبقات. في حين تتوجه الجهود حاليا إلى تجسيد إجراءات حماية البيئة و تشجيع إقامة بعض الصناعات في المناطق الداخلية.

تاريخ و جغرافية 1995 HACHETTE

- كيف يقتصد اليابانيون في الأراضي ؟ ولماذا ؟  
- كيف يحقق اليابانيون استهلاكهم الغذائي ؟



# 3 | اليابان عملاق إقتصادي




3

## مفردات و مصطلحات

**الإستثمار:** تخصيص مبالغ مالية لتحقيق مشاريع تنموية.  
**التخطيط:** وضع برنامج تنموي لمشاريع مختلفة. يحقق في مدة زمنية محددة.  
**الميزان التجاري:** الفرق بين قيمة الصادرات وقيمة الواردات خلال سنة.

## كيف تحول هذا البلد الصغير إلى عملاق إقتصادي؟

### أ | اليابان ثاني بلد صناعي في العالم



الصناعة الالكترونية ( الروبو أو الرجل الآلي ) الذي يعوض العامل في المصنع

إستمد اليابان مكانته العالمية بالإعتماد على الصناعة الثقيلة القائمة على تحويل المواد الأولية المستوردة فهو أول منتج للحديد والصلب في العالم وثالث قوة في تكرير البترول. أول منتج للسيارات و يساهم بـ 40% من الإنتاج العالمي للسفن.

### ب | سر نجاح اليابان

يكمن سر نجاح اليابان في عدة عوامل:  
 - طبيعة الفرد الياباني: تقديس العلم والعمل.  
 - التخطيط: تخطط الدولة بمعية المؤسسات الإقتصادية الكبرى كل سياسة في خدمة القوة الصناعية - التوجيه و المساعدات : تقدم الدولة توجيهات و مساعدات للإستثمار داخل وخارج البلاد.  
 - الإشهار : إنتاج النوعية الجيدة وترويجها للسيطرة على الأسواق.  
 - قوة الاستثمارات في الخارج: إقامة مصانع في كل أرجاء العالم وجذب الحواجز الجمركية.

### ج | اليابان ثالث قوة تجارية في العالم

المرتبة العالمية	نوع النشاط	المؤسسة
05	السيارات	طويوتا
20	إلكترونيات	طوشيبا
12	السيارات	نيسان
19	الكهرباء	طوكيو كهرباء

يسجل الميزان التجاري الياباني ربحا سنويا و ذلك بتصدير المواد المصنعة و وضع قيود جمركية على المواد المصنعة الأجنبية ، وبذلك يساهم بـ 7% من التجارة العالمية.

- ماهي أنواع النشاط الصناعي في اليابان ؟  
 - لماذا يسجل الميزان التجاري ربحا سنويا ؟

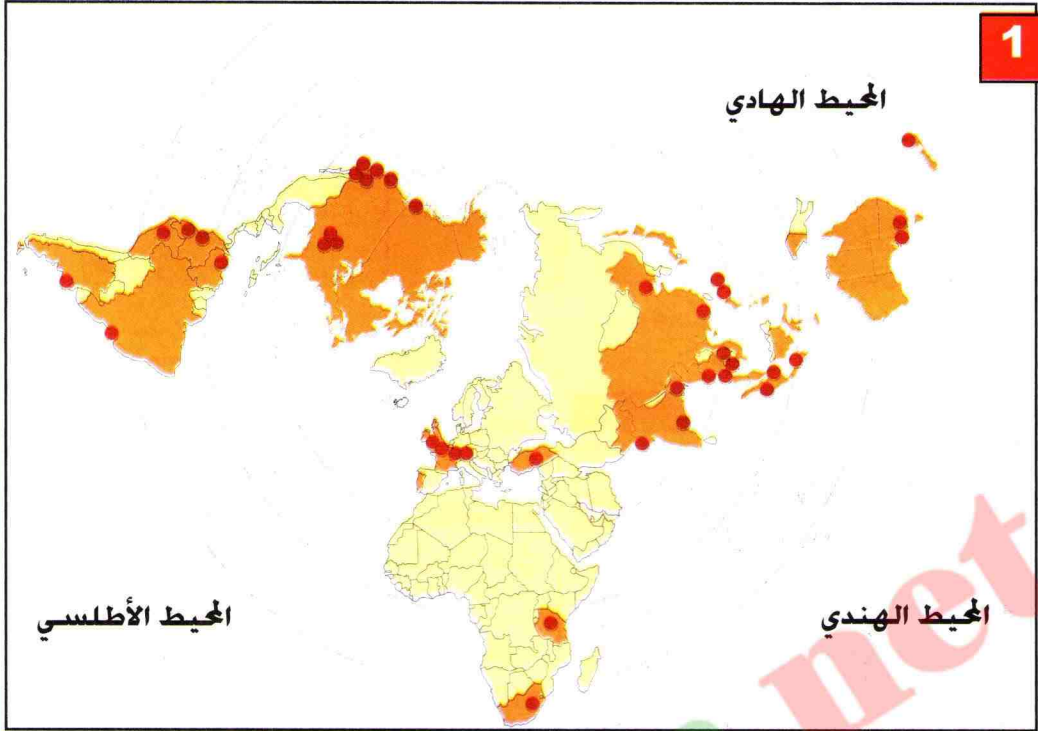







3

## الصناعة اليابانية في العالم



### الصناعة اليابانية في العالم

- المفتاح:
- إنشاء مصانع طويوطا خارج اليابان
  - المدن التي توجد بها مصانع طويوطا



مركب صناعي في عرض البحر بأوزاكا

- قارن بين الخريطة و الصورة ( رقم 1 و 2 ) . أين تتواجد الصناعة اليابانية؟ لماذا في رأيك؟



# 4 | مجتمعات مدن في اليابان



## 4

### مفردات و مصطلحات

الادخار: توفير الأموال  
أزمة مالية : مشكل مالي (ضائقة مالية)  
البورصة : السوق المالية


### كيف تكيف اليابانيون مع صغر المساحة ؟

#### الموانئ الكبرى في العالم

الموانئ الكبرى في العالم	البلد	البضائع مليون/طن 1995
سنغافورة	سنغافورة	305
روتterdam	هولندا	291
شيبا	اليابان	176
شنقهاي	الصين	166
ناقويا	اليابان	143
يوكاهاما	اليابان	131

#### البنوك الخمس (05) الأولى في العالم

البنك	البلد
دوتش بنك	ألمانيا
البنك الصناعي	اليابان
سانوا بنك	اليابان
ميتشو بيشي بنك	اليابان
بنك الفلاحة	فرنسا



البورصة في اليابان

## أ طوكيو مدينة مالية عالمية

طوكيو عاصمة اليابان. مجمع مدن مالية منذ سنة 1980. كانت مساحة المكاتب فيها تمثل 1/5 من المساحة المبنية سنة 1975. و أصبحت تمثل 1/2 المساحة المبنية سنة 1990.

تضم المدينة 1/4 سكان البلاد. بها 50% من الطلبة الجامعيين. و 1/2 المؤسسات الصناعية والإعلامية بالبلاد. وكذا مؤسسات الخدمات العمومية. و فيها أيضا 1/3 مقرات المرافق الإجتماعية للمؤسسات الكبرى. تمثل نسبة المؤسسات المالية الأجنبية فيها 85% و نسبة المعاملات المالية 60%. لذا يعتبر اليابان أول دولة مالية في العالم. له 06 من 10 البنوك العالمية و يعود ذلك إلى:

- الادخار الكبير لليابانيين.
- ربح الميزان التجاري الياباني.
- الإستثمار الياباني في العالم.

## ب اليابان عملاق مالي هش

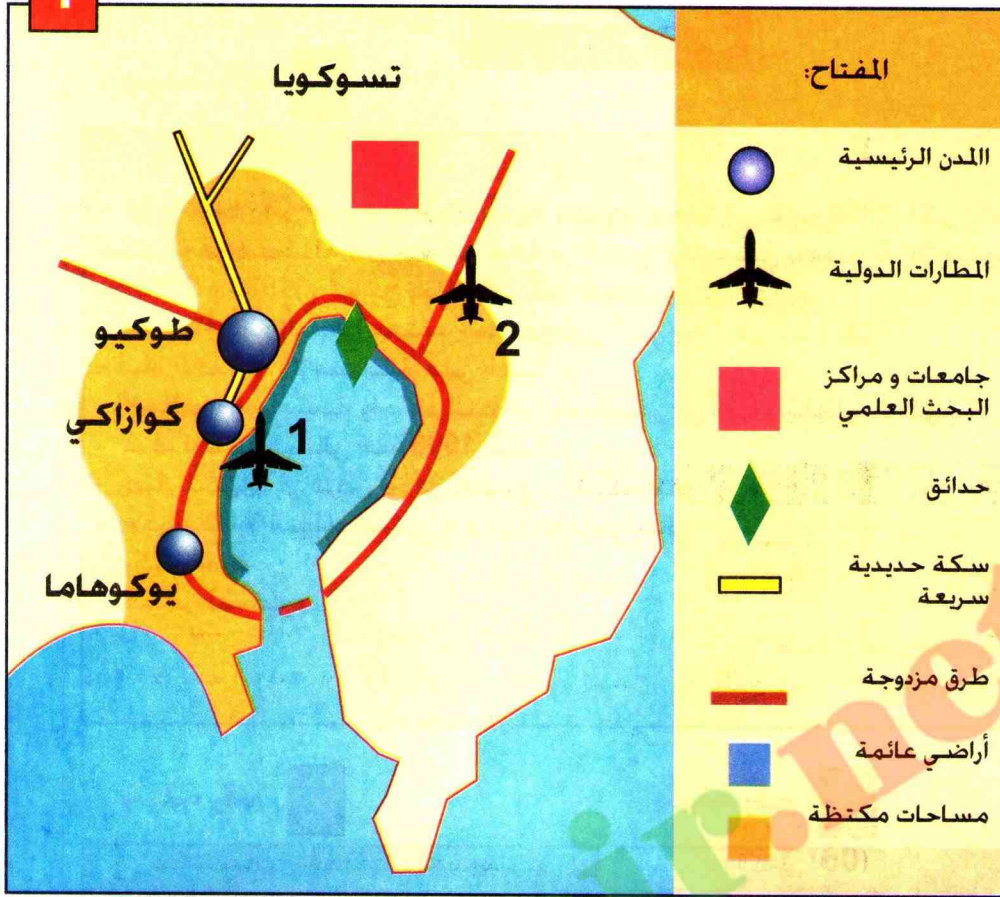
عرف اليابان أزمة مالية حادة 1998. حيث انهارت بورصة نيويورك مما تسبب في خسارة مؤسسات اليابان في الداخل و الخارج وإستدانة البنوك و انخفاض عملة اليابان (الين).

- ما هي العناصر التي تجعل من طوكيو مدينة عالمية ؟



## طوكيو مجمع مدن

1



مجمع مدن و ميناء طوكيو

- لماذا تعتبر طوكيو مجمع مدن ؟  
- ما هي المرافق التي يتضمنها مجمع طوكيو من خلال الخريطة (رقم 1) ؟

2



طوكيو عاصمة اليابان

- كيف تظهر أحياء رجال الأعمال والمؤسسات في الصورة (رقم 2) ؟



# تطبيق


## وثيقة رقم 1

- خرج اليابان من الحرب العالمية الثانية مهزوما محتلا إلى غاية 1950. لكن إرادته في استعادة قوته مكنته من زيادة مرتفعة في النمو الإقتصادي بنسبة 15% سنويا.
- بين 1955 و 1973. و أصبح بذلك ثاني قوة إقتصادية في العالم.
- يسود المجتمع الياباني معتقد الكونفوشي الذي يتلخص فيما يلي :
  - قيام العلاقات الإجتماعية على العمل :
  - الإخلاص للمؤسسة واحترام النظام التسلسلي في الحياة العائلية و المهنية؛
  - عرف المجتمع الياباني منذ 1990 مشاكل عديدة :
  - رغبة الشباب في فرص أوسع للتمتع و الاستجمام.
  - رفض قساوة النظام التربوي و غلاء التعليم العالي.
  - مكانة المرأة.
  - تفهقر السكان.

تاريخ و جغرافية HACHETTE


3 eme 1995

## وثيقة رقم 3



طلبة التعليم الثانوي

## وثيقة رقم 2



شاطئ إصطناعي

- 1- ما هي الفترة التي تطور فيها اليابان بشكل سريع ؟
- 2- ما هي نسبة النمو الإقتصادي التي حققها سنويا ؟
- 3- للمعتقد الياباني دور هام في البناء و التقدم. لماذا ؟
- 4 - أربط العلاقة بين الوثيقتين رقم 1 و 2 ؟





## There are Sakura branches extending throughout the world

Sakura Bank was formed through a merger of the Mitsui and Taiyo Kobe banks. Today, it is like a thriving sakura, or Japanese cherry tree, with deep roots in its native soil and branches reaching out in every direction to create a network of more than 100 offices in 30 countries.

- In the Americas, we were the first Japanese bank to offer investment banking services. Our strong U.S. presence is buttressed by offices in Canada, Mexico, Brazil, Colombia and other markets.
- In Europe and the Middle East, we serve a growing clientele in nine countries from the U.K. to Turkey.
- And we are one of the world's best-positioned banks to support international investors in Asia, including China and Vietnam.



# SAKURA BANK

إشهار : ساكورة بنك وفروعها في العالم

- 5- كيف تصنّف مشاكل اليابان بعد 1990 ؟
- هل هي إجتماعية - أم إقتصادية - أم سياسية ؟ اشرح ذلك ؟
- 6 - إلى ماذا يعود تفهقر السكان في اليابان ؟
- 7 - ما هي العلاقة بين الوثيقتين رقم 3 و4 ؟
- 8 - أكتب فقرة تبين فيها علاقة العلم بالثروة و المال من خلال نموذج اليابان.



# ملف

## نوعية الصناعة اليابانية


استطاع اليابان أن يقتحم و يغزو أسواق العالم  
بمنتجاته الصناعية ذات الجودة العالية.

1




سيارة من نوع طويوتا

3



ورشة للتكوين الصناعي

2



إشهار لمجموعة  
ميتسوبيتشي الصناعية

4

جدول المقارنة بين ساعات و أيام العمل و الراحة و الإضرابات

البلد	ساعات العمل	أيام الراحة	أيام الإضراب
اليابان	1900	20	03
الولايات المتحدة الأمريكية	1950	18	43
فرنسا	1530	35	30





5

### الصناعة الإلكترونية

افتحمت الصفحة  
الإلكترونية كل ميادين  
النشاط البشري من  
صناعة وإعلام واتصال  
وخدمات عمومية  
وأجهزة منزلية.

فحص مجهري لصفحة إلكترونية



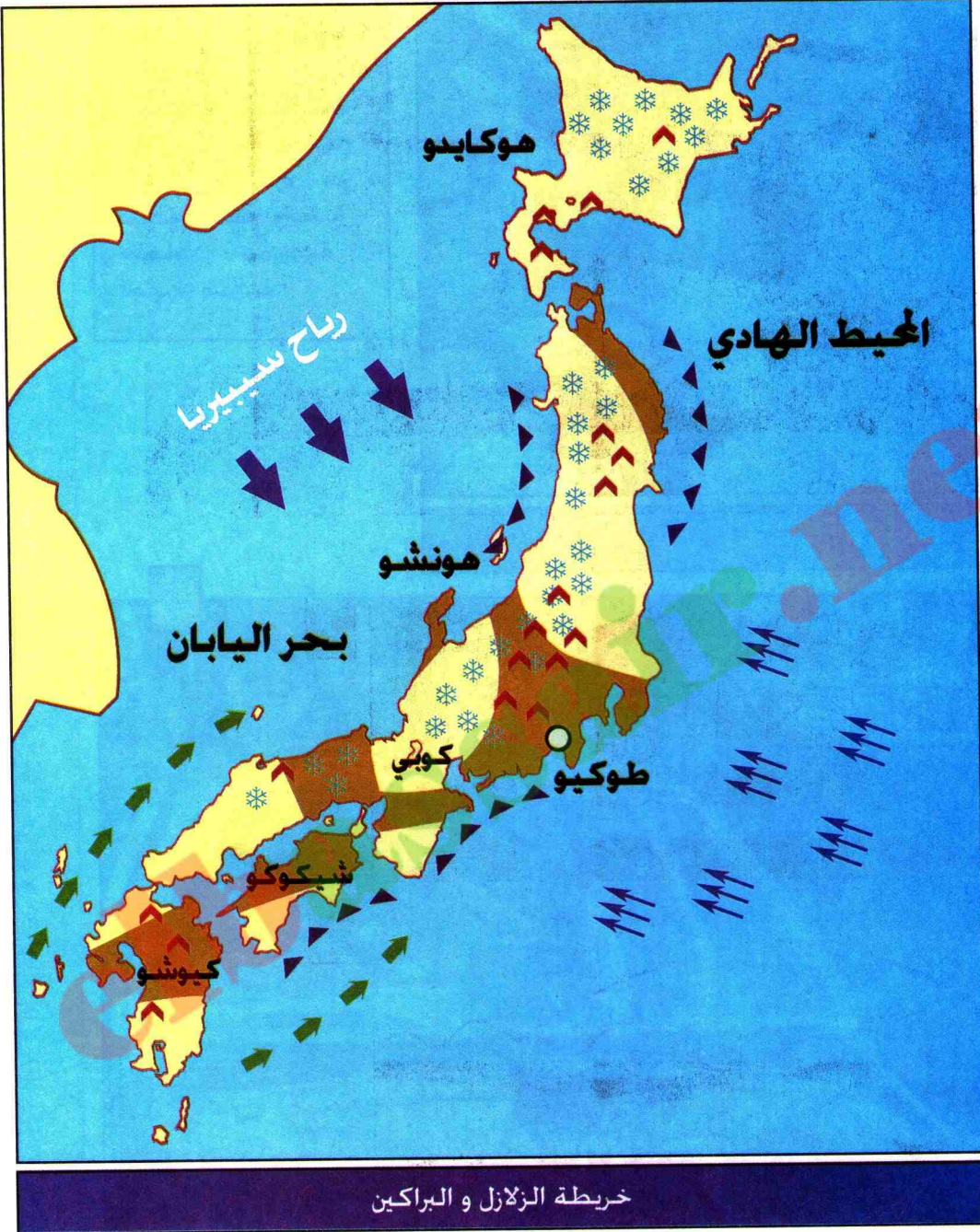
6

إدخال الروبو ( الانسان الآلي ) في صناعة السيارات

من خلال الوثائق المقدمة أكتب فقرة تبين فيها سر غزو اليابان للأسواق العالمية.



# التقويم



- 1 - صنف الأخطار الطبيعية التي يتعرض إليها اليابان حسب الخريطة.
- 2 - ما هي عوامل نجاح الإقتصاد الياباني ..
- 3 - لماذا يعتبر اليابان عملاقا إقتصاديا و ماليا هشئا (ضعيفا) ؟






# للإيجاز خارج القسم

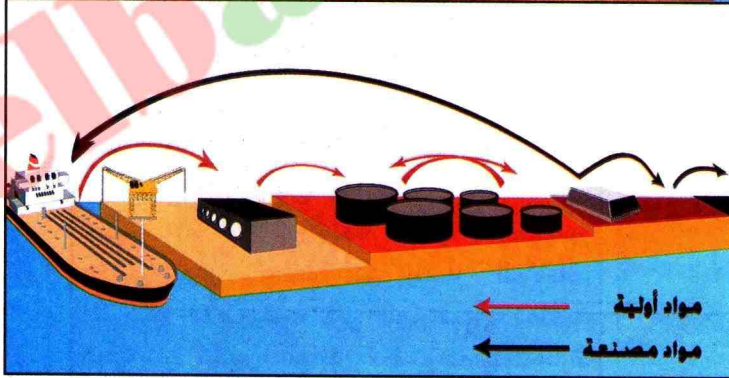
وثيقة رقم 1



وثيقة رقم 2



وثيقة رقم 3



يبين المركب الصناعي في كيو في اليابان الطريقة المعتمدة في تحويل المواد الأولية المستوردة من الخارج.

- وضح الطريقة المعتمدة في تحويل المواد الأولية المستوردة من خلال الوثائق المعطاة. (رقم 1,2,3)




# للمطالعة

## من تاريخ اليابان



إن إسم اليابان مشتق من كلمة زابانجو وهي الكلمة التي صاغها الرحالة ماركو بولو. لترجمة منطوق تعبير: جيم-بن-كو. الذي إستخدمه الصينيون للإشارة إلى جزر اليابان. والعبارة في اللغة الصينية، تعني البلاد التي تشرق فيها الشمس. يرمز العلم الياباني إلى تلك التسمية، فهو أبيض اللون، وبه دائرة حمراء في وسطه، وعبارة أخرى فهو الشمس المتألقة التي تشرق في سماء الفجر الباهتة. (المعرفة : المجلد الأول)




...كان حلفاء نوبوناغا أقل تسامحا حيال المسيحية، إذ بعد سنوات كثيرة من الإضطهاد، إضطرت البعثات التبشيرية الأوروبية في النهاية إلى مغادرة اليابان عام 1638، كما طلب إلى التجار أيضا أن يرحلوا، و أصبحت اليابان بعد ذلك معزولة عن العالم طوال المائتي سنة الموالية، فلم يكن يسمح لأي ياباني بالسفر إلى الخارج، ولم يكن في مقدور أي أجنبي أن يأتي إلى اليابان، حتى عام 1854، حينما حمل الكومودور ماتيو بيرى رسالة من رئيس الولايات المتحدة الأمريكية إلى اليابانيين، تطلب فيها أن تكون اليابان مفتوحة للتجارة، وكان النجاح حليف بعثة بيرى، فأصبح الأجانب أحرارا في دخول اليابان و الخروج منها، بل انهم بدأوا في إقامة الصناعات هنالك، وعلى تعاقب السنوات إستطاعت اليابان أن تبني أسطولا بحريا كبيرا كان سببا في تقدمها.


(المعرفة : المجلد الأول) بتصرف







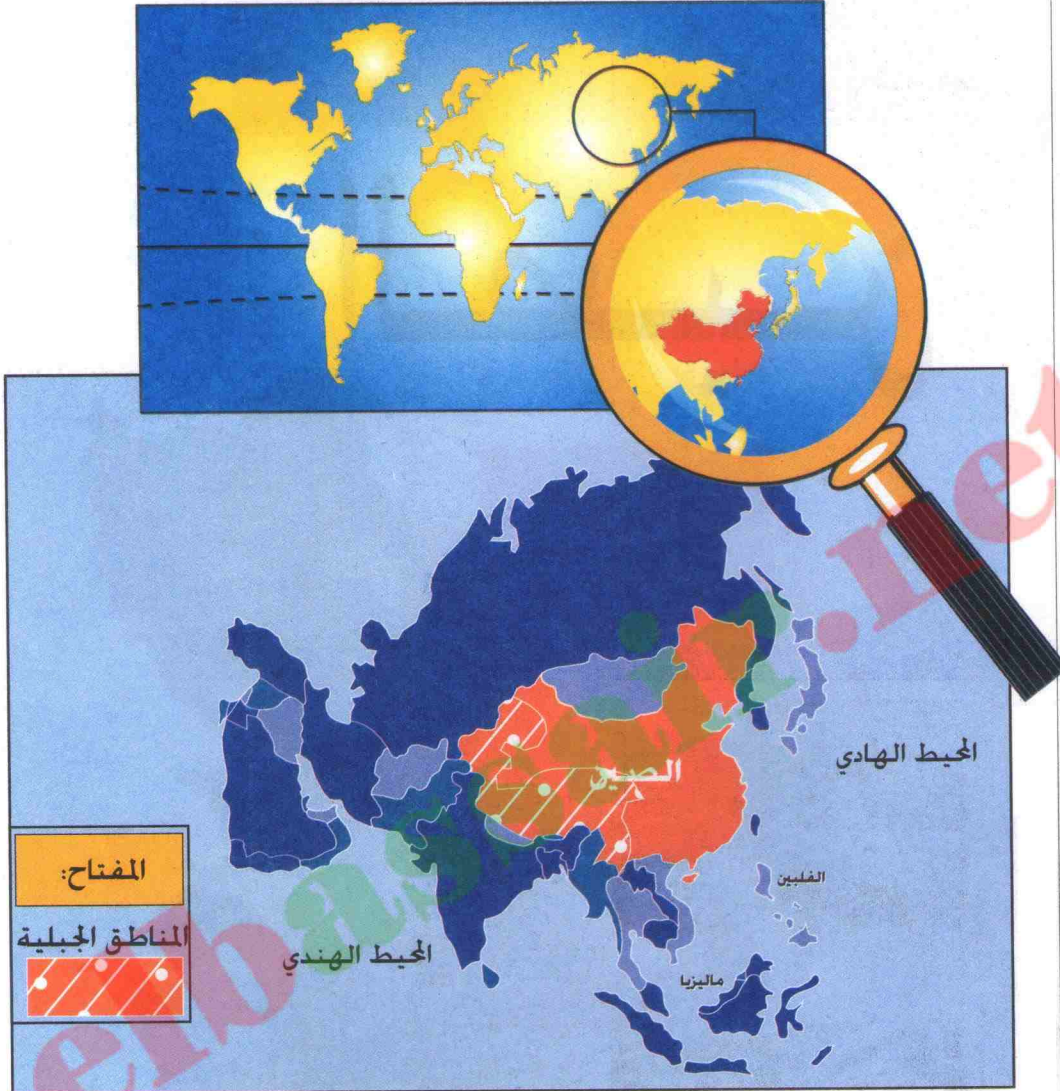
الصين





# الصين

الصين من أقدم بلدان العالم و أكثرها سكانا ومساحة. ساهمت حضاراتها القديمة في تشكيل وتوحيد البلد الذي ظل معزولا عن العالم زمنا طويلا. يشهد حاليا تحولات اقتصادية عميقة بفضل انفتاحه على الخارج.



## عقد تعليمي

- في نهاية الوحدة التعليمية (الصين) تكون قادرا على :
- ربط العلاقة بين حجم السكان وحاجياتهم الغذائية.
  - التمييز بين الريف والمدينة لاستخلاص الفوارق في المستوى المعيشي بين السكان.
  - التعرف على مميزات كل مرحلة من مراحل تطور الصين .
  - تحديد الأقاليم الاقتصادية في الصين وشرح أهم مميزاتهم.
- 1 الصين (حجم السكان).
  - 2 الصين (ريف ومدينة).
  - 3 التحول الاقتصادي في الصين.
  - 4 التباين الاقليمي في الصين.
- الملف : المدينة الصينية.



## بطاقة تعريف الصين

المساحة :

9.6 مليون كلم<sup>2</sup>.

الكثافة السكانية:

130 نسمة / كلم<sup>2</sup>.

السكان (1999) :

1,250 000 000 مليار نسمة

وفيات الأطفال :


31 بالآلاف

متوسط الحياة :

69 سنة .

الانتاج الوطني الخام

للفرد سنويا: 530 دولار.



مدينة شينزن (هونغ كونغ)

تقع مدينة شينزن الصينية قرب هونغ كونغ. وهي مثال لعالمية المبادلات. نشأت وتوسعت بسرعة بعد انفتاح الصين على التجارة الخارجية.

- ماهي العناصر الدالة على المظاهر التقليدية ومظاهر العصرية في الصورة ؟



# 1 | الصين (حجم السكان)

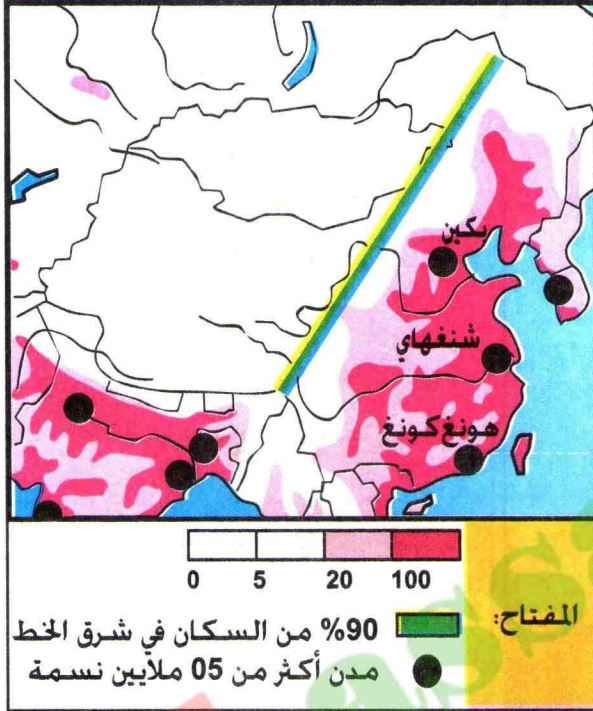


# | 1 |

## مفردات و مصطلحات

**تحديد النسل** : هو التوقف عن الولادة بعد عدد معين من الأطفال.  
**الإكتظاظ** : هو كثرة السكان وتزاحمهم في مساحة صغيرة.

لماذا ينفرد الصين بحجم سكانه الكبير في آسيا والعالم ؟  
 ماذا يترتب على ذلك ؟



توزيع السكان في الصين



أطفال المدارس

## أ تطور سكان الصين

تضاعف عدد سكان الصين خلال 40 سنة بزيادة 15 مليون نسمة سنويا. و هو أمر مقلق. تطلب سنة 1980 الشروع في تحديد النسل (طفل واحد لكل أسرة).

يعيش أغلب السكان في الأرياف. في حين تزداد المدن اتساعا و إكتظاظا لمواجهة حاجيات السكان الغذائية المتزايدة بات من الضروري العمل على رفع الإنتاج أكثر فأكثر.

## ب توزيع السكان في الصين

رغم مساحة الصين الكبيرة . فهي اليوم تواجه كثافة سكانية من أعلى الكثافات على سطح الأرض أي 1/5 سكان العالم بكثافة عامة تبلغ 200 نسمة في الكلم<sup>2</sup>. يتركز معظم سكان الصين في السهول و على ضفاف الأنهار. ويقل السكان في الداخل. وبصورة نادرة في غرب الصين بسبب الجفاف والطبيعة القاسية.

- أين يتركز سكان الصين ؟

- لماذا تقل الكثافة السكانية في المنطقة الغربية ؟

- علام تدل الصورة ؟



## تحديد النسل في الصين



إشهار لتحديد النسل

## الأسرة السعيدة

يمنح مكتب التخطيط العائلي بطاقة (الطفل الواحد) للأسر التي تتعهد بعدم الجاب أكثر من مولود واحد. وتتمتع الأم بعطلة أمومة تمتد الى 06 أشهر مدفوعة الأجر.

كما يكون لحامل هذه البطاقة الأولوية في التسجيل برياض الأطفال و المدارس و الحصول على التمويل في المراكز التجارية. كما تكون الأولوية خاصة عند شراء اللحوم والأسماك والألبان.

جريدة العالم 1982/04/23

- اربط بين النص و الصورة.

النوع	1970	1980	1995
نسبة ولادات الأطفال بالألف	33	21,3	17
نسبة وفيات الأطفال بالألف	15,3	7,4	07
معدل الخصوبة	5,8	2,8	1,8

- بلغ عدد سكان الصين 1,3 مليار نسمة.

أحسب الزيادة الطبيعية حسب معدل الخصوبة لسنة 1995. وماذا

تستنتج ؟

- ماهو أهم مشكل تعاني منه الصين ؟ لماذا ؟



## 2 | الصين (ريف و مدينة)

# 2

### مفردات و مصطلحات

الريف : هي المناطق الداخلية والجبلية خارج المدينة.

### كيف يجمع المجتمع الصيني بين الريف والمدينة ؟

### المجتمع الصيني




زراعة الأرز

تتميز الحضارة الصينية بقدورها جمع بين الريف و المدينة و تكامل مع المعتقدات البوذية . تبدو مظاهرها الريفية في ممارسة زراعة الأرز ثم زراعة القمح و ممارسة طقوس ترتبط بالمياه والخصوبة و زيادة المحصول . وكذا احترام العادات و التقاليد و تقد يس الأجداد إلى حد العبادة.

لعبت المدينة في حضارة الصين قديما دورا هاما. فهي مركز السلطة السياسية و الدينية و مراقبة الإقليم.. و هي في الوقت الحاضر قطب لجلب السكان إلى حياة التمدن نظرا لتحسن ظروف المعيشة في المدن. بفضل تنوع الخدمات فيها خاصة قطاع التجارة.

أما سكان الأرياف فمستواهم المعيشي جد منخفض. حيث يعانون من البؤس والفقر وهذا ما دفعهم إلى الانتقال إلى المدن بحثا عن حياة أفضل.



سور الصين العظيم

- لماذا تعتبر الحضارة الصينية حضارة الريف و المدينة في نفس الوقت ؟

- لماذا تم بناء سور الصين العظيم قديما؟



## النزوح الريفي في الصين.

1



بناء أحياء جديدة في بكين

2

يعيش ثلث (1/3) سكان الصين في المدن (400 مليون نسمة) وقد أدى التخلي عن سياسة الحد من توسع المدن و تسارع وتيرة تصنيع وحريرالتجارة إلى تزايد النزوح الريفي و إكتظاظ المدن.

3



الريف الصيني

- لماذا ظهرت الأحياء الجديدة في المدن الصينية الكبرى؟

- ماهي النشاطات الإقتصادية التي يمارسها سكان الريف؟

- ما القصد بالنزوح الريفي؟

- ماذا ترتب على ذلك؟

- كيف عالجت الصين مشكل النزوح الريفي؟



# 3 | التحول الاقتصادي في الصين

# 3 |

## مفردات و مصطلحات

التخطيط المركزي : اشراف الدولة على اعداد الخطط من اجل التنمية الاقتصادية و الإجتماعية.  
الإقطاع : هو استيلاء فئة قليلة من الأغنياء على الاراضي الزراعية يسخرون فيها الفلاحين.

تشهد الصين تحولا اقتصاديا كبيرا منذ 1980. ماهو؟ وكيف؟

## المراحل الكبرى في تطور اقتصاد الصين



عمال في طريقهم إلى المصنع



مركب صناعي في منشوريا

1- مرحلة ما قبل الثورة الصينية (1949) وتميز بـ :

- سيطرة الإقطاع على معظم الأراضي الزراعية. واستخدام الوسائل التقليدية في الزراعة و استغلال الفلاحين استغلالا بشعا من قبل الاقطاعيين.  
- إنتشار الفقر و المجاعة و عزلة المجتمع الصيني.

2- مرحلة ما بعد الثورة و تتميز بـ :  
- إلغاء النظام الإقطاعي و تنفيذ الإصلاح الزراعي قصد تطوير الريف و النهوض بالزراعة وذلك بتطبيق النظام التعاوني و استخدام الأساليب الزراعية الحديثة.  
- إتباع سياسة التخطيط المركزي  
- إقامة المصانع في المناطق الداخلية  
- لحد من توسع المدن و النزوح الريفي.

3- مرحلة الإنفتاح على الخارج و تتميز بـ :  
- تحرير السوق الخارجية.  
- إعادة الأراضي إلى الفلاحين.  
- الإستثمارات الأجنبية و الخاصة.

- بم تميّزت المراحل الأخيرة من مراحل تطور الصين ؟  
- ما الفائدة من الإنفتاح على الخارج ؟  
- ماذا تستخلص من الصورتين ؟





## الصين بين الصناعة الحديثة و الصناعة التقليدية

1



بناء مصنع الحديد و الصلب في سنة (1958)

2



صناعة الحرير التقليدية

3

المدينة	الريف	دخل الفرد السنوي بالين
660	191	1980
1 148	397	1985
1 544	686	1990
3 890	1 578	1995

- ما الفرق بين الصورتين (رقم 1، 2) ؟ عتّل ذلك.  
 - الى ماذا يعود التباين في المستوى المعيشي بين الريف والمدينة ؟ (رقم 3)



# 4 | التباين الإقليمي في الصين

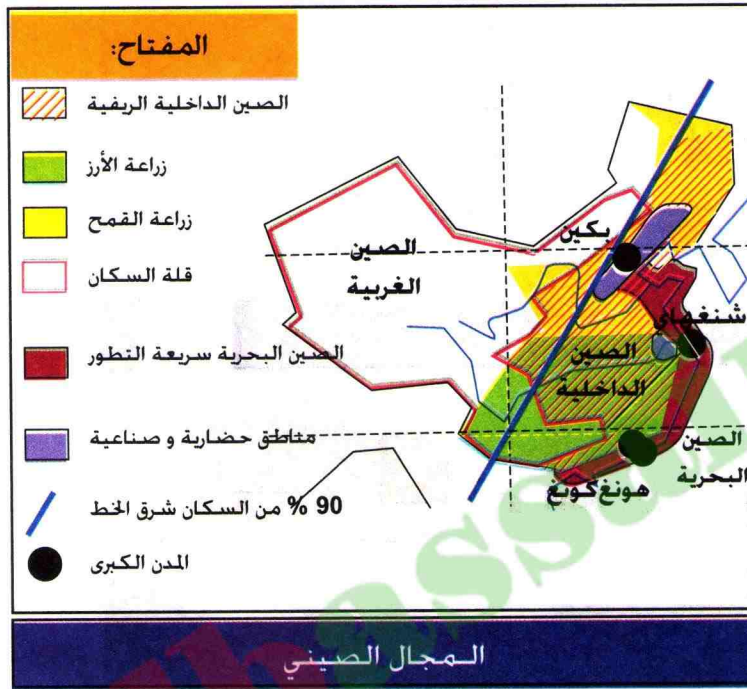
# 4

## مفردات و مصطلحات

مناطق اقتصادية خاصة : مناطق نشأت فيها الصناعة حديثا.  
مركبات صناعية : مجمع صناعي.

تعرف التحولات الاقتصادية الحالية في الصين أثرا كبير على تباين التنمية فيه. فيم يتمثل ذلك ؟

يمكن ملاحظة 3 أقاليم كبرى في خريطة الصين الإقليمية.



## أ الصين البحرية

هي ذات كثافة سكانية عالية، و تتركز فيها أهم المدن الصينية، مثل شنغهاي و هونغ كونغ نشأت فيها مناطق اقتصادية خاصة.

## ب الصين الداخلية

و هي ريفية و زراعية، أقل سكانا من المنطقة الساحلية، غنية بالمواد الأولية و الطاقة، مثل تشونغ كنج و سيان شهدت قيام مركبات صناعية هامة بعد ثورة 1949.

## ج الصين الغربية

و هي منطقة قليلة أو نادرة السكان، تعاني من نقص شبكة المواصلات و هي متأخرة اقتصاديا، تقع فيها منطقة التبت.

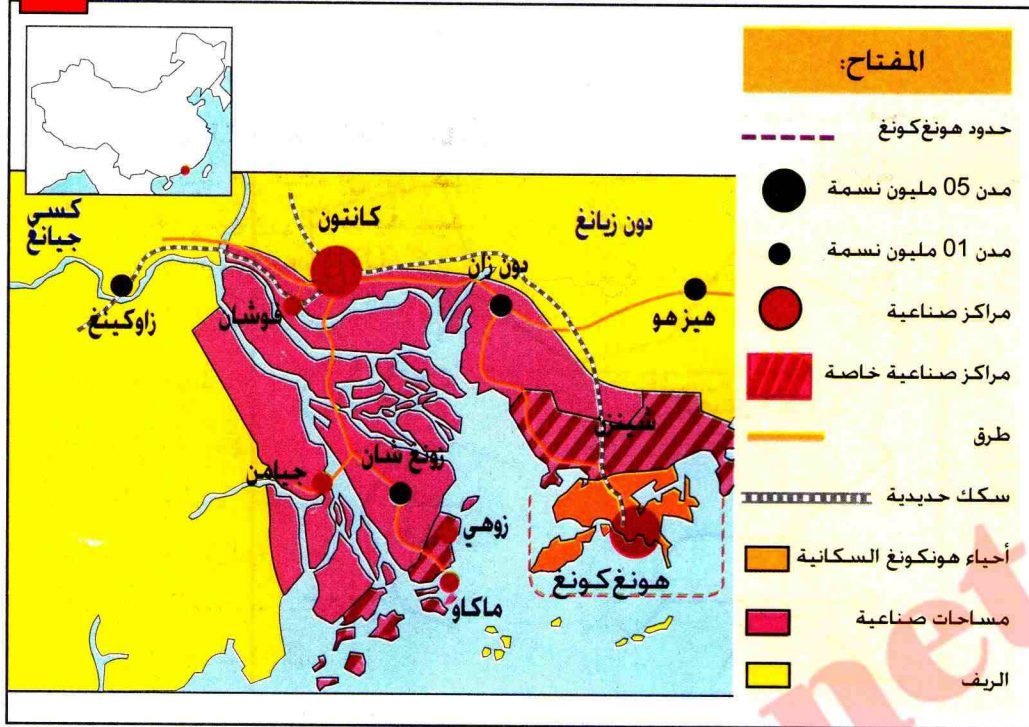
الإقليم	الإقليم	الإقليم	الأقاليم
الغربي	الداخلي	الساحلي	النوع
23%	36%	41%	نسبة السكان
57%	29%	14%	نسبة المساحة
48	143	353	الكثافة السكانية في كلم <sup>2</sup>

- أربط بين الخريطة و الجدول.  
- ماذا تستخلص من الجدول ؟ علّل ذلك.




## توسع المدن الصينية

1



دلتا هونغ كونغ

3



مدينة هونغ كونغ

2

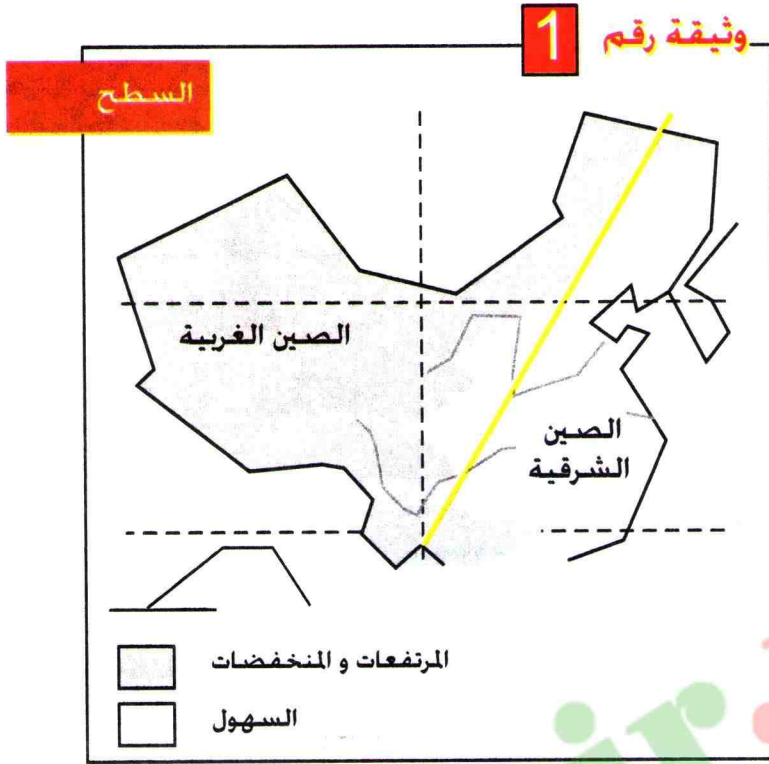
يعود تطور هونغ كونغ الى موقعها الجغرافي كميناء طبيعي في جنوب الصين، وهي مركز استقطاب في أوج ازدهاره. ما فتئت علاقاتها الاقتصادية تزداد تطورا في اطار ادماج اقليم الصين الجنوبية بفضل استثماراتها ومصانعها (180 ألف مصنع). أصبحت منطقة هونغ كونغ خلال 10 سنوات مجالا حيويا للمدينة .

جانفيل أبريل 1996

- فيم تتضح أهمية مدينة هونغ كونغ ؟
- استعن بالنص والصورة (رقم 2، 3) لشرح عوامل تطور المدينة.
- ما القصد بالجمال الحيوي للمدينة ؟



# تطبيق



1- إستمعن بالوثيقتين رقم 1 و 2 لرسم خريطة الصين للسطح و السكان . ثم علّق عليها.





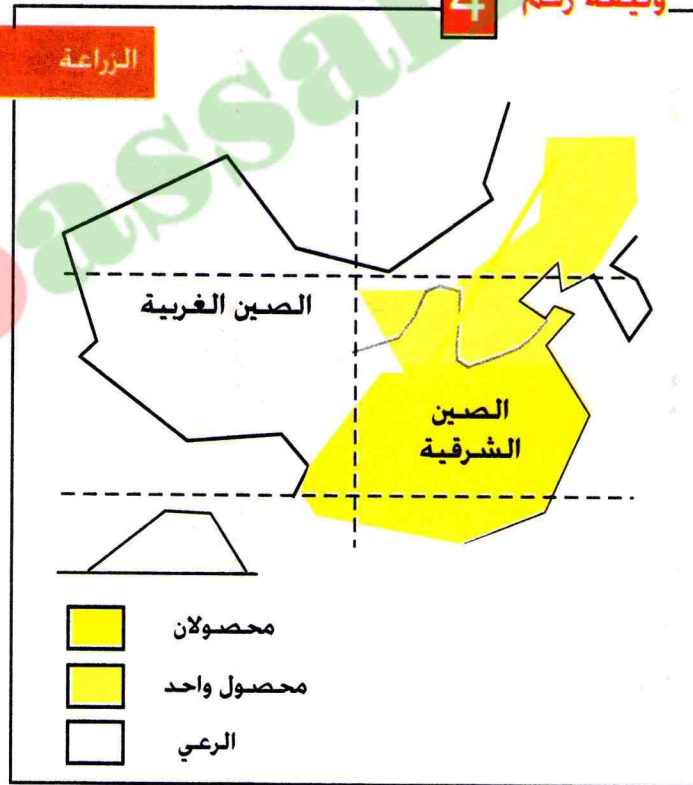
### وثيقة رقم 3

#### الصناعة



### وثيقة رقم 4

#### الزراعة



2- إستمعن بالوثيقتين رقم 3 و 4 لرسم خريطة الصين الإقتصادية.

3- ماذا تستخلص من المقارنة بين الوثائق المختلفة؟



# ملف

## المدينة الصينية

وثيقة رقم 1

أدى توسع المدن الصينية الساحلية وقيام الصناعة فيها الى جلب سكان الريف، وقد بلغ عدد النازحين من الأرياف الى المدن بحثا عن العمل 30 مليون نسمة 1980. وحوالي 150 مليون نسمة في الوقت الحاضر. ترتب على ذلك مشاكل عديدة في المدن الكبرى الصينية، أهمها: السكن والنقل والأمن.  
العالم الديبلوماسي 1995.

وثيقة رقم 2



النزوح الريفي



وثيقة رقم 3



وثيقة رقم 4

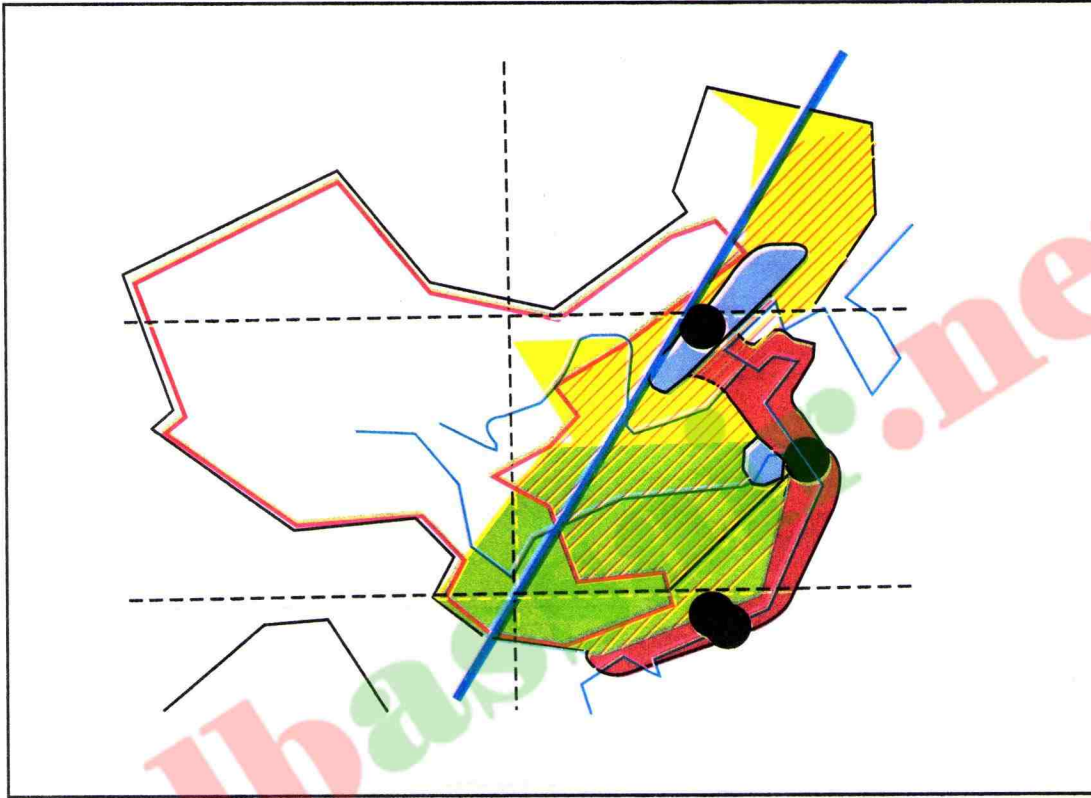


- من خلال الوثائق المعطاة، أكتب فقرة تبين فيها المشاكل المترتبة عن النزوح الريفي في الصين .



# التقويم

- 1 - ماهو عدد سكان الصين حاليا ؟
- 2 - لماذا يقل السكان في المنطقة الغربية من الصين ؟
- 3 - أين يتركز معظم سكان الصين؟ ولماذا ؟
- 4 - ماهو أهم مشكل يطرحه سكان الصين في القارة الآسيوية والعالم ؟
- 5 - ما القصد بالإنفتاح على الخارج ؟ ماذا حقق للصين ؟



الصين البحرية  
سريعة التطور

مناطق حضرية  
و صناعية

90 % من السكان شرق الخط

المدن الكبرى

الصين الداخلية الريفية

زراعة الأرز

زراعة القمح

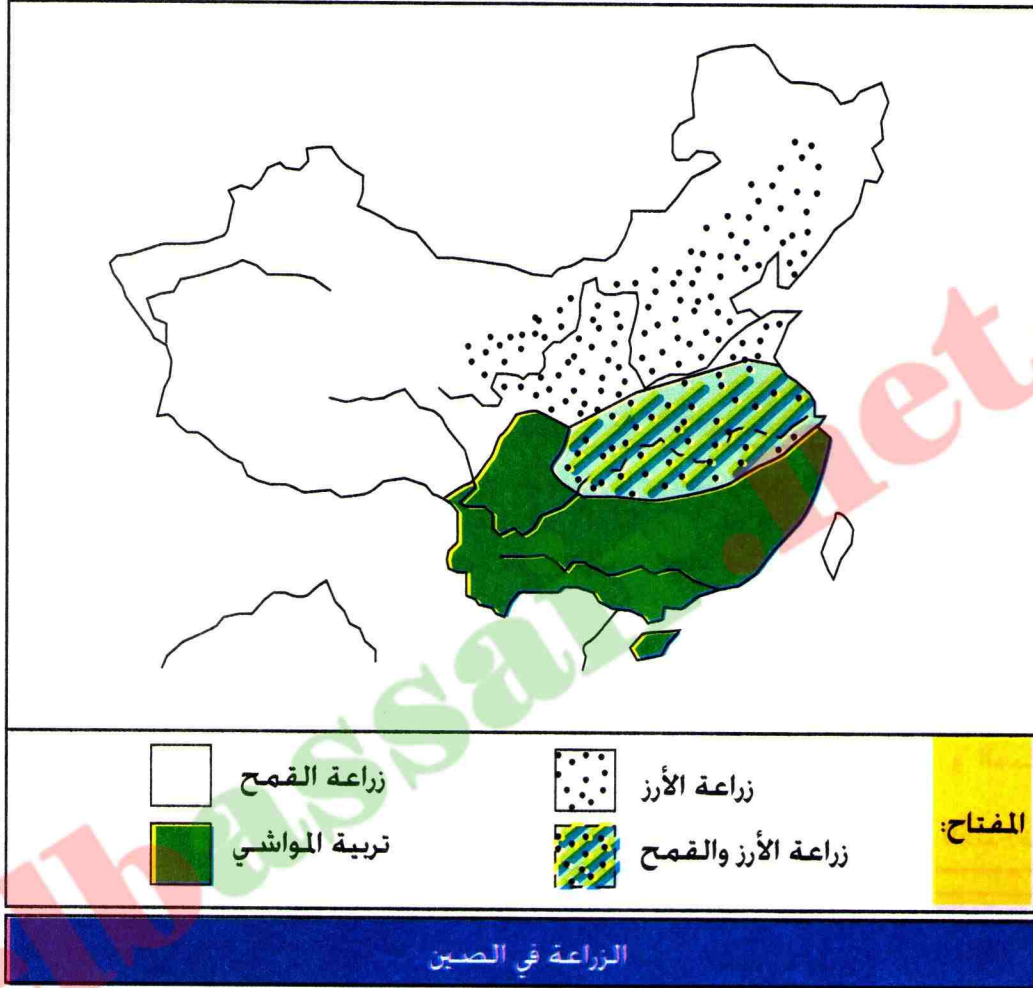
قلة السكان

13:12

- إستعن بالخرطة لتحديد الأقاليم الإقتصادية الكبرى في الصين.
- ماهو الإقليم الأكثر أهمية إقتصاديا في نظرك ؟ ولماذا؟



# للإيجاز خارج القسم



1- استعن بالخريطة لشرح العوامل الطبيعية والبشرية المؤثرة في النشاط الزراعي في الصين.

2- كيف يمكن تلبية حاجيات السكان الغذائية في الصين؟



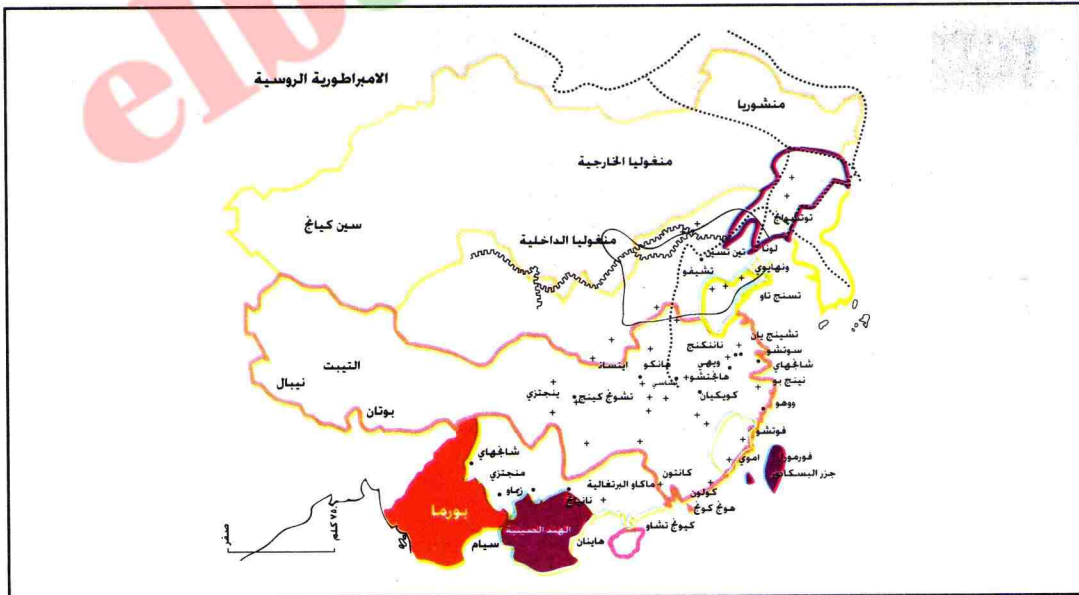
# للمطالعة

## من تاريخ الصين



تهيأ للصين في ظل الأباطوريين القويين كاخ هسي الذي دام حكمه من عام 1662 الى 1722. وتشيين لنج الذي حكم من عام 1736 الى عام 1796 - تهيأ لها أن تصبح أعظم قوة ما كانت في أي وقت مضى من تاريخها. فقد امتد حكم الصين حتى شمال منشوريا و منغوليا وسين كيونغ و التبت. و كانت الجزية تؤدي للأباطور من قبل حكام النيبال و بورما و لاوس و سيام و انام و كوريا. و في القرن 18 كانت للصين أعظم امبراطورية في العالم. و قد شهد ذلك العهد تزايداً سريعاً في عدد السكان. الذي بلغ في نهاية القرن 300 مليون نسمة. و قد أطلق المنشويون علي سلالة أسرته اسم شنج. و هو يعني ( المشرق ) ما بلغته تلك السلالة من عظيم القوة و السلطان. فسرعان ما اذنت شمسهم بالأفول.

المعرفة : (المجلد الخامس).

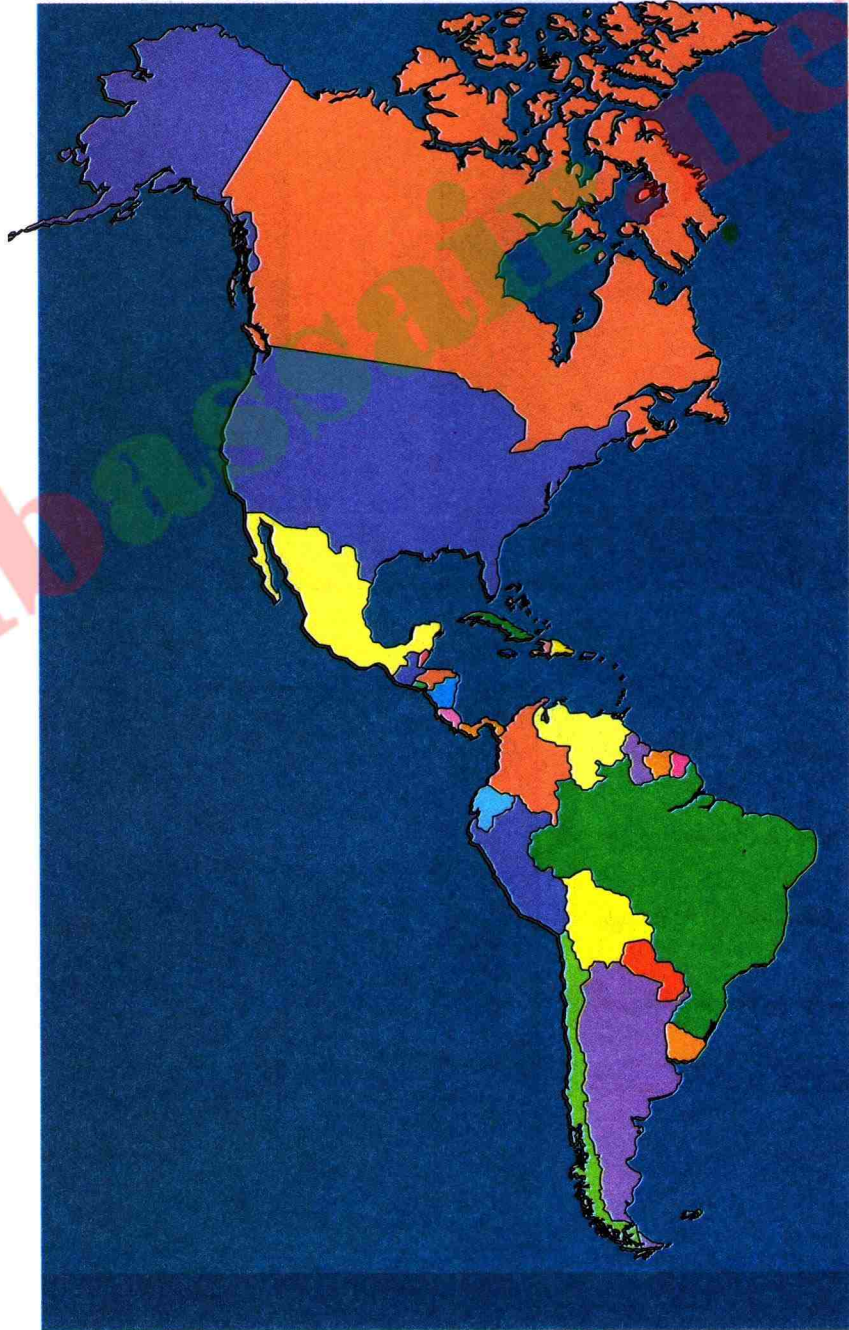


### الأمبراطورية الصينية في أوج اتساعاتها

بهجة المعرفة (المجلد الثالث)



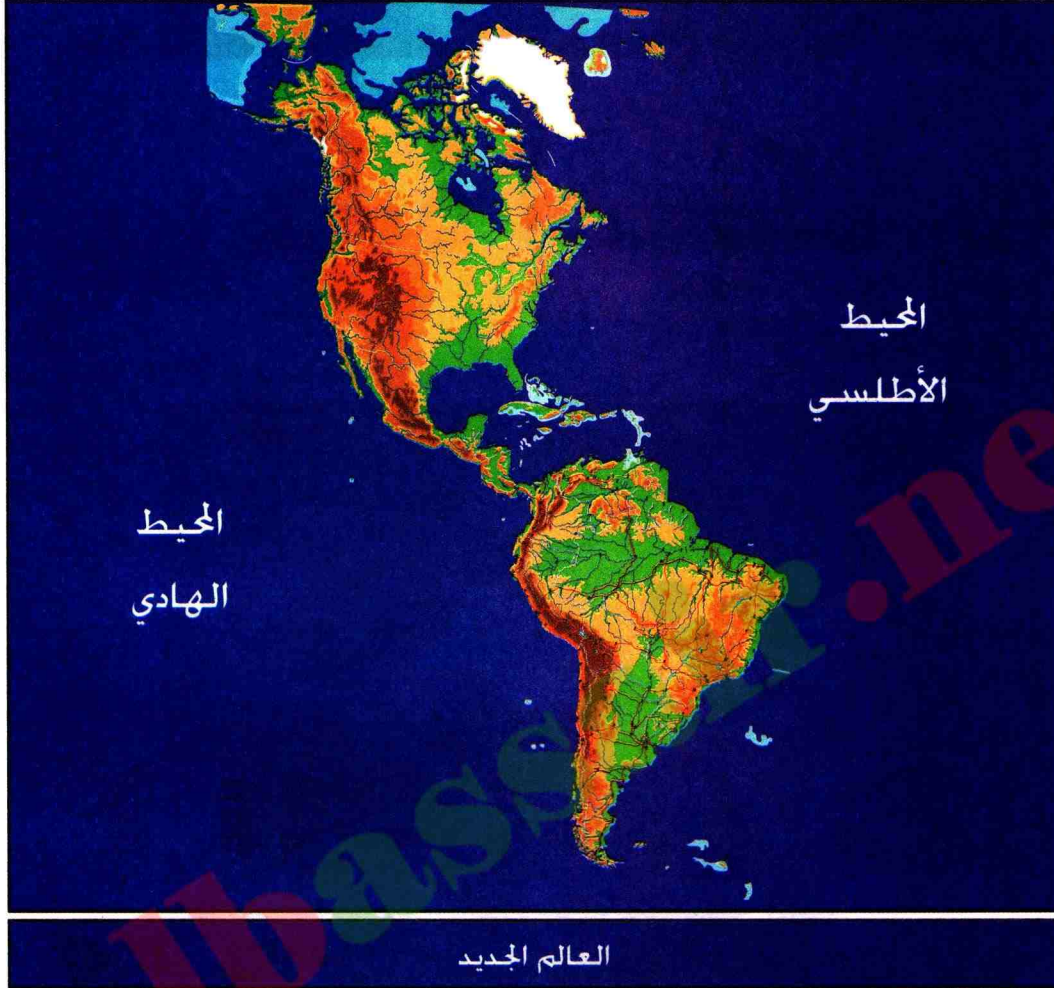
# قارة أمريكا





# قارة أمريكا

هناك تباين كبير في ميدان التنمية في قارة أمريكا  
بين شمالها وجنوبها. لماذا؟



## عقد تعليمي

- 1 أمريكا (العالم الجديد).
  - 2 توزيع السكان في قارة أمريكا.
  - 3 تهيئة المجال الأمريكي
  - 4 أمريكا الشمالية وأمريكا الجنوبية.
  - الملف : إقامة الصناعة على الحدود.
- في نهاية الوحدة التعليمية (قارة أمريكا) تكون قادرا على :
  - تحديد المناطق الجغرافية للمقارنة والتعرف على مميزات العامة.
  - اكتشاف مراحل تعمير القارة.
  - شرح تنوع و تباين توزيع السكان.
  - التعرف على الفوارق بين أمريكا الشمالية وأمريكا الجنوبية.
  - تحديد وشرح التباين الإقليمي في القارة.





نيل أمسترونك الأمريكي مشى على القمر 1969.

## بطاقة تعريف قارة أمريكا

■ المساحة : 42 مليون كلم<sup>2</sup>.

■ الكثافة السكانية : 20 ن / كلم<sup>2</sup>.

■ متوسط الحياة : 76 سنة في

الشمال . 68 سنة في الجنوب.

■ نسبة وفيات الأطفال بالألف :

09 بالألف في الشمال

45 بالألف في الجنوب.

■ السكان : 786 مليون نسمة.



مدينة ساوباولو (البرازيل)

- تعرف القارة الأمريكية فوارق . لماذا ؟



## 1 | أمريكا (العالم الجديد)

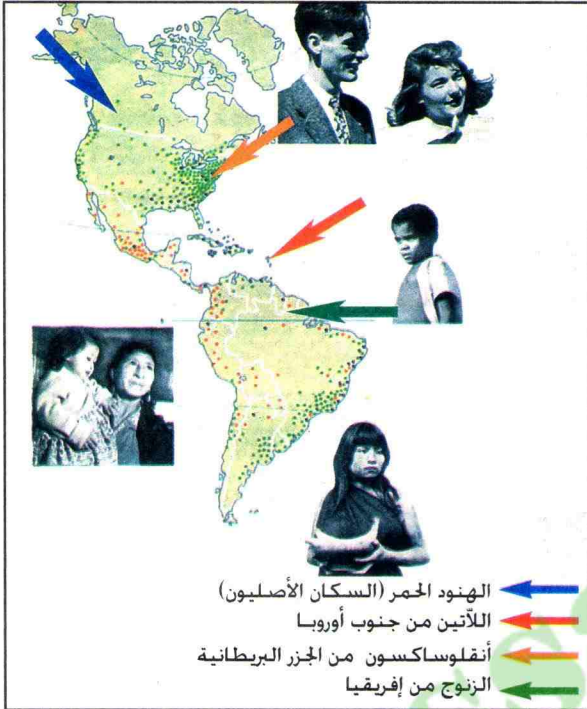


1

## مفردات و مصطلحات

المعادن الثمينة : الذهب خاصة.  
الأنقلوساكسون : سكان الجزر البريطانية.  
اللاتين : سكان أوروبا الجنوبية.

من هم سكان قارة أمريكا  
(العالم الجديد؟)



## أ | إكتشاف القارة

لم تكتشف القارة الأمريكية عمليا إلا في أواخر القرن الخامس عشر عندما قام كريستوف كولومبس برحلة إلى الغرب أملا الوصول إلى الهند عن طريق أقصر من الطريق حول أفريقيا. فوصل إلى أمريكا واكتشفها و لكنه لم يعرف أنه إكتشف قارة جديدة بل ظن أنه وصل إلى الهند. ولذلك سمى الجزر التي وصل إليها جزر الهند. وما تزال هذه الجزر تعرف باسم جزر الهند الغربية. و قد قام بعده بحار إيطالي هو أميركو فسبوتشي . فأعلن أن البلاد المكتشفة هي قارة جديدة. وقد عرفت بعد ذلك باسمه أمريكا.

## أصل سكان أمريكا



نقل العبيد عن طريق البحر

## ب | أصل السكان

يتكون سكان القارة الأمريكية من السكان الأصليين (الهنود الحمر) وهم اليوم أقلية في أمريكا. والجنس الأبيض قدم إلى القارة ابتداء من القرن 16. حيث تم احتلال أمريكا الجنوبية من طرف الأسبان والبرتغاليين بحثا عن المعادن الثمينة. كما تم احتلال أمريكا الشمالية من طرف الواقدين من أوروبا الشمالية الغربية (الأنقلوساكسون). والزنوج تم نقلهم من أفريقيا كعبيد.

- لماذا يعتبر سكان قارة أمريكا مزيجا من شعوب العالم ؟
- لماذا انخفض عدد السكان الأصليين (الهنود الحمر) بشكل مذهل ؟





## تعمير القارة

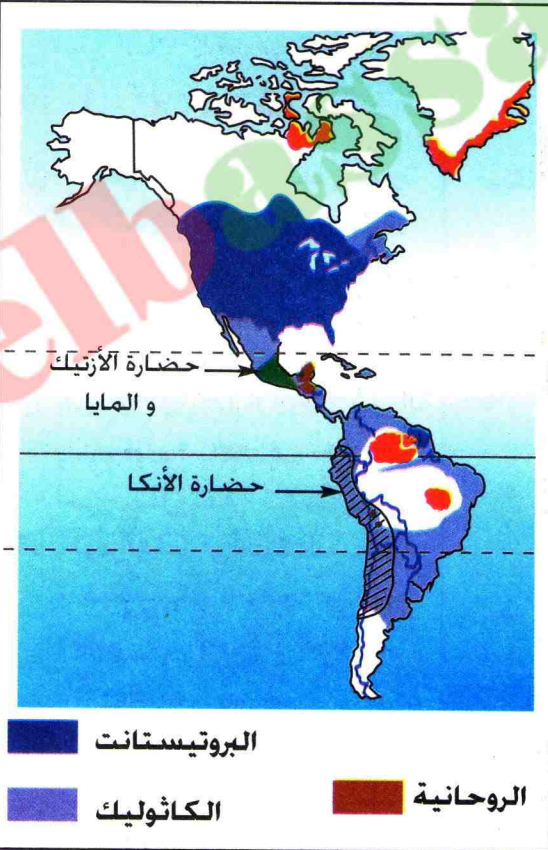


أفراد من قبائل الهنود الحمر

تمّ تعمير قارة أمريكا عبر هجرات قديمة وحديثة .

تتمثل الهجرات القديمة في السكان الأصليين . و قد قدموا إليها من آسيا عبر مضيق بيرنق منذ 40 ألف سنة (الهنود الأمريكيون) . وأسسوا حضارات قديمة متنوعة كحضارة الأنكا والمايا والأزتيك. و من مظاهرها الكتابة و الفخار و بناء المدن في الجنوب .

أمّا في الشمال فكان السكان يعيشون على الصيد مثل قبائل الشيين و الكومانش والسيو.



الحضارات القديمة و الديانات في أمريكا



أهرامات الأزتيك

-لاحظ صورة الهنود الحمر و بيّن نمط معيشتهم من خلال الملابس.

-ماهي الحضارات القديمة في قارة أمريكا و بيّن مواطنها؟

- ماذا ترتّب عن التنوع البشري في قارة أمريكا ؟



## 2 | توزيع السكان في قارة أمريكا



2

### مفردات و مصطلحات

المدن المليونية: هي المدن الكبرى التي يتجاوز عدد سكانها مليون نسمة.

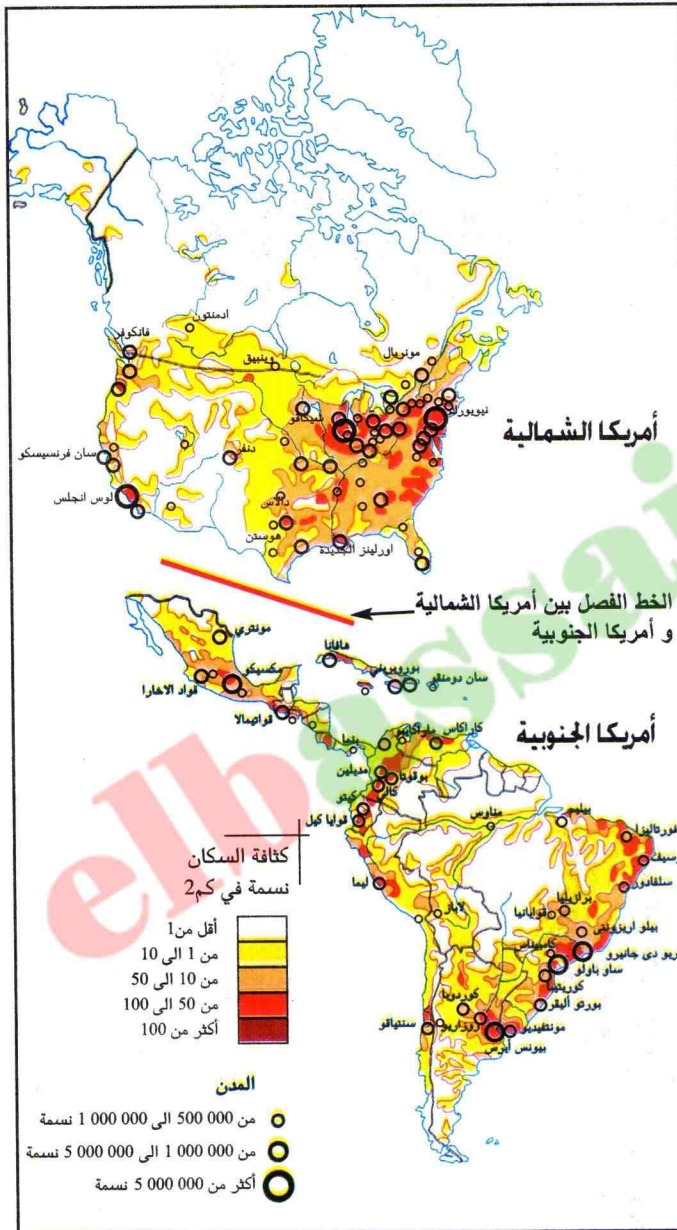
هناك تباين في توزيع السكان في قارة أمريكا. لماذا ؟

### أ | توزيع السكان

يبلغ عدد سكان أمريكا 786 مليون نسمة في مساحة تقدر بـ 42 مليون كلم<sup>2</sup>. غير أن الكثافة لا تعبر على التوزيع الحقيقي لسكان القارة، ويعود ذلك إلى عوامل تاريخية وطبيعية وإقتصادية. لذا يتركز أغلب السكان في الشريط الساحلي الشرقي، حيث بدأ التعمير منذ اكتشاف القارة وفي الساحل الغربي مع مرور الزمن.

### ب | المدن في أمريكا

يعيش أغلب سكان القارة في المدن الكبرى (المليونية) في الساحل الشرقي للو.م.أ. وفي الشريط الساحلي الشرقي للبرازيل (ريو دي جانيرو وساباولو). بالإضافة إلى مدن أخرى مثل سان فرانسيسكو ولوس أنجلس في أمريكا الشمالية، وميكسيكو وبوقوتا وماديلين وكالي في أمريكا الوسطى والجنوبية.



التوزيع السكاني في أمريكا

لماذا لاتعبر الكثافة السكانية العامة على التوزيع الفعلي للسكان في قارة أمريكا ؟  
لماذا تسمى المدن الأمريكية بالمدن المليونية ؟





## عوامل توزيع السكان في القارة

1



مدينة نيويورك

هناك عدة عوامل تتحكم في توزيع السكان في قارة أمريكا. يمكن تصنيفها إلى:

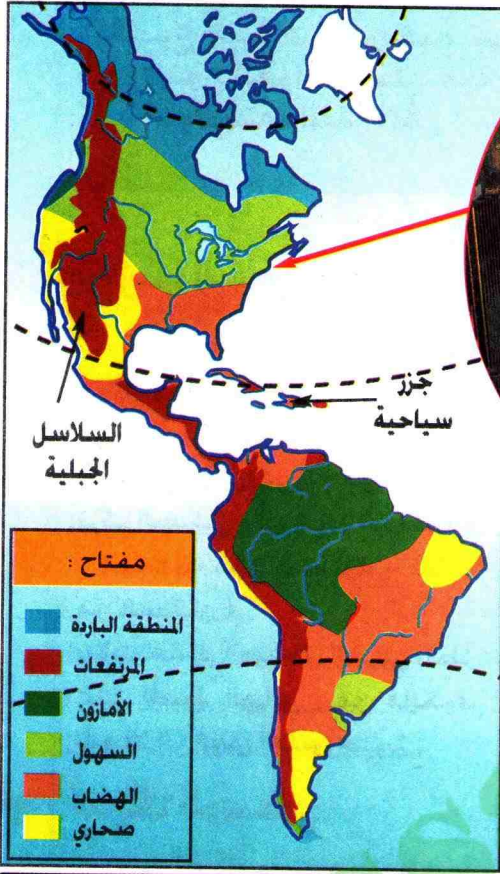
أ-العوامل الجاذبة للسكان :

- السهول الداخلية الواسعة.
- السهول الساحلية.
- المناطق المعتدلة والمدارية والمتوسطية.
- المعادن والطاقة (الحديد . الفحم . البترول).

ب-العوامل الطاردة للسكان :


- امتداد السلاسل الجبلية.
- الشمال البارد والمتجمد.
- الإقليم الإستوائي (غابة الأمازون).

2



بيئات متنوعة في قارة أمريكا

3



غابة الأمازون

- إعتقادا على الفقرة و الخريطة. حدّد وسمّ أهم المناطق الآهلة بالسكان في قارة أمريكا. مع التعليل .
- قارن بين الصورتين (رقم 3,1).

2



# 3 | تهيئة المجال الأمريكي



3

## مفردات و مصطلحات

الواجهة : الساحل المشرف على المحيط.  
الجبال الصخرية : سلسلة الجبال الغربية في قارة أمريكا الشمالية.

تنوع البيئات الأمريكية تبعا لتنوع العوامل الطبيعية والإقتصادية، ماهي؟

## أ أمريكا الشمالية

تتضمن الواجهة الأطلنطية وإقليم البحيرات و السهول العظمى شرق سلسلة الجبال الصخرية (الروكي). و هي منطقة تركيز السكان و النشاط الإقتصادي (مجمعات مدن صناعية - 50% من السكان).

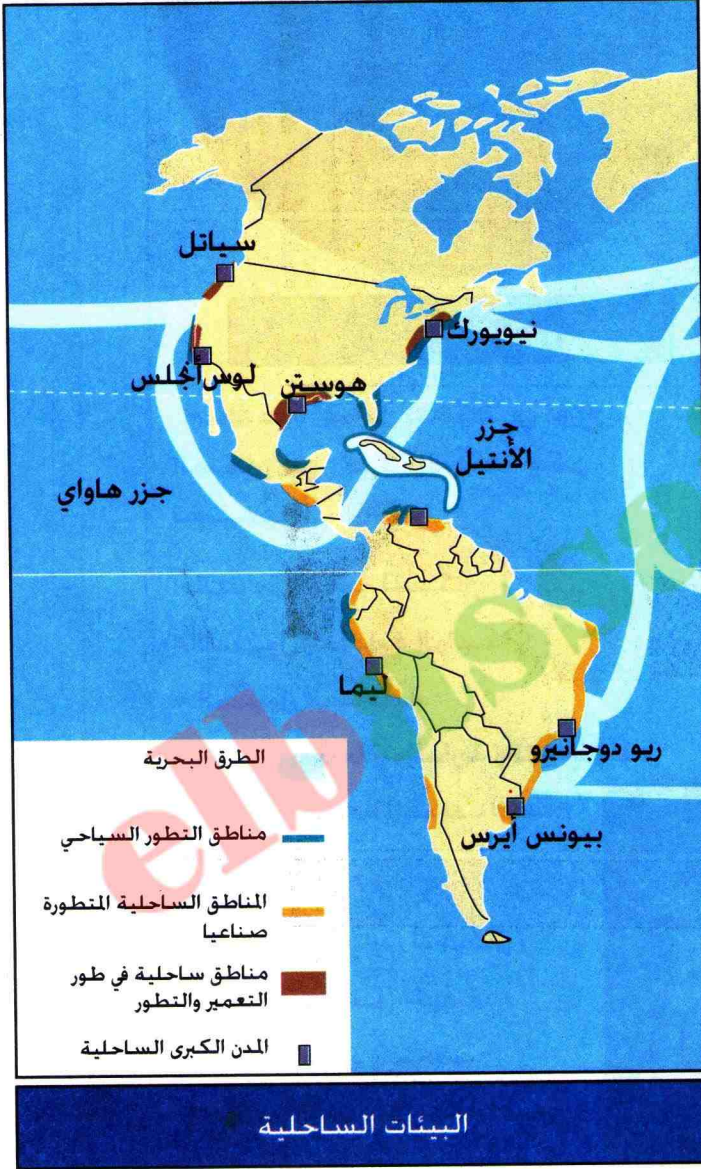
بالإضافة إلى الساحل الغربي المطل على المحيط الهادي، من فانكوفر شمالا إلى لوس أنجلس جنوبا.

## ب أمريكا الوسطى

هي منطقة اتصال بين الشمال و الجنوب وبين الشرق والغرب عبر قناة بناما. و من أهم الدول فيها المكسيك و قواتيمالا وجزر الأنثيل: كوبا وهايتي السياحية.

## ج أمريكا الجنوبية

من أهم الدول فيها البرازيل بمساحته الكبيرة و ثرواته الهائلة. حيث يتركز السكان والنشاط الإقتصادي فيها في الساحل الشرقي. و الأرجنتين و فنزويلا الغنيتين ببتولهما حيث يتركز السكان و النشاط الإقتصادي في الساحل. أما بقية الدول فيها فهي صغيرة و فقيرة.



- فيم تتمثل حيوية البيئات الساحلية في قارة أمريكا؟





3

## بيئات متنوعة في قارة أمريكا

1



السهول العظمى و السلسلة الجبلية

2



المنطقة الباردة

3



جزر الأنتيل

- ماهي البيئة التي تبينها
- كل صورة (رقم 3.2.1) ؟
- اذكر الخصائص الطبيعية لكل بيئة .



# 4 | أمريكا الشمالية وأمريكا الجنوبية

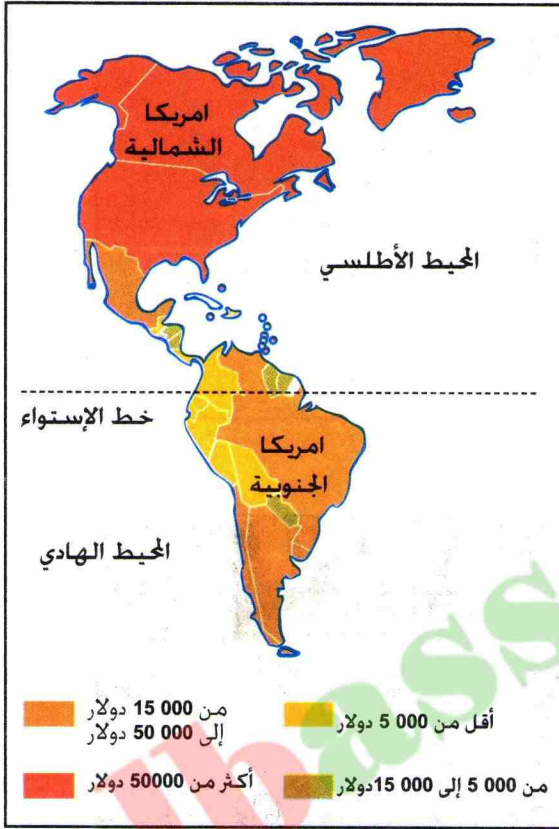


## 4

### مفردات و مصطلحات

الدخل الوطني (القومي) : هو القيمة النقدية للسلع و الخدمات المنتجة خلال فترة زمنية معينة (سنة).  
 \$ : رمز الدولار الأمريكي.

كيف تفسر الفوارق في ميدان التنمية بين كل من أمريكا الشمالية وأمريكا الجنوبية ؟



### الدخل الوطني الخام بالدولار

الصناعة في الوم.أ تحتل المرتبة الأولى عالميا				
الصناعة الإلكترونية	صناعة السيارات	صناعة الطائرات	صناعة الحديد و الصلب	الصناعات
2	2	1	1	المرتبة العالية

الفئة العمرية للسكان في الوم.أ ( 1999 )		
من 0 إلى 14 سنة	من 15 إلى 64 سنة	من أكثر 64 سنة
21%	66,1%	12,9%

### بين الشمال والجنوب

يتكون شمال القارة من دولتين متقدمتين اقتصاديا. هما كندا والوم.أ. في حين يتكون الجنوب من مجموعة من الدول المتخلفة و السائرة في طريق النمو . أكبرها البرازيل و المكسيك. و يتضح ذلك من المثالين التاليين :

#### أ-الشمال : كندا

تعتبر دولة كندا من الدول المتطورة، وهي من بين المومنين العالميين الأوائل بالنسبة للقمح و الخشب و البترول و الغاز...الخ. و هي أيضا متقدمة جدا في الصناعات الآتية :  
 صناعة المحروقات،  
 صناعة الخشب،  
 الصناعة المعدنية،  
 بها فروع من صناعات حويلية مثل :  
 صناعة السيارات،الصناعة الكيماوية.  
 يسجل ميزانها التجاري ربحا سنويا معتبرا.

#### ب-الجنوب : المكسيك

يعتبر المكسيك من الدول السائرة في طريق النمو. يعد البترول الثروة الأساسية فيه و هو من كبار المنتجين العالميين له. الى جانب الثروات الأخرى المنجمية من فضة و نحاس و حديد، و من الحوامض و قصب السكر و البين و القطن و الذرة. عرفت مدنه تضخما كبيرا بسبب الزيادة السكانية و النزوح الريفي (2/3 السكان في المدن).

- استخراج المضمون الفوارق بين أمريكا الشمالية وأمريكا الجنوبية.
- كيف تفسر الفوارق في الدخل الوطني الخام في قارة أمريكا؟
- أوجد العلاقة بين شيخوخة سكان الوم.أ. و التقدم التكنولوجي.



## التباين الإقتصادي و الإجتماعي في قارة أمريكا

1

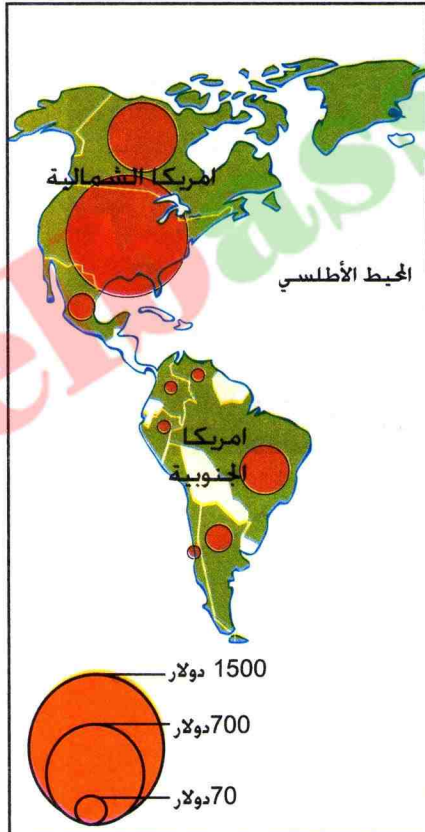


سيليكون فالي (كاليفورنيا)

## سيليكون فالي

سيليكون فالي (وادي الأضواء). تضاعف عدد سكانها أربع مرات بين عامي 1950 و 1980. يتميزون بارتفاع مستواهم الثقافي والعلمي و كثرة الاستهلاك. يوجد بها أكثر من 1/4 العلماء الذين تحصلوا على جائزة نوبل. تنصف المدينة لجنة الذكاء، حيث تصنع حبيبات السيليكون التي توضع في الأجهزة الالكترونية. وقد أحدثت بذلك انفجارا صناعيا وثقافيا هائلين.

3



حجم الدخل الصناعي الخام

2



حي الفقراء (فافيلا)


- ماهي المؤسسات التي تتضمنها الصورة رقم 1 ؟
- بم تتميز الصورة رقم 2 ؟
- قارن بين الدخل الصناعي الخام في كل من أمريكا الشمالية وأمريكا الجنوبية.

4



# تطبيق

وثيقة رقم 2



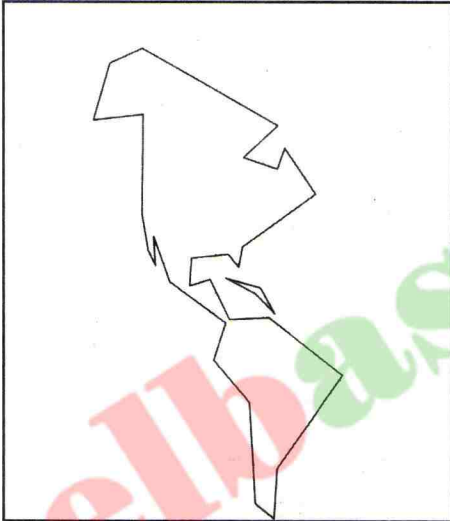
مدينة نيويورك

وثيقة رقم 1




مدينة ريو دي جانيرو

وثيقة رقم 4



خريطة صماء

وثيقة رقم 3



شارع في مدينة ميكسيكو

وثيقة رقم 5

عدد السكان (مليون/ن)	المدن
11,5	نيويورك
11,9	مكسيكو
11	ريودي جانيرو
2,7	واشنطن
24	ساوباولو

1 - انقل الوثيقة رقم 4 وحدد عليها المدن الواردة في الوثائق رقم 1, 2, 3, 5.

2 - ماهي الأسباب التي أدت إلى إكتظاظ هذه المدن؟



إليك الجدول التالي يمثل الدخل الوطني والدخل الفردي في بعض دول قارة أمريكا

### وثيقة رقم 6

الدول	الدخل الوطني (مليار دولار)	الدخل الفردي (دولار)
و.م.أ	25 000	6387
كندا	20 000	574
البرازيل	3 000	471
الأرجنتين	7290	244
المكسيك	3750	324

3 - علق على معطيات الجدول ( وثيقة رقم 6 )

4 - ماذا تستنتج من ذلك ؟

- إليك الجدول التالي يبين نصيب الفرد من الناتج المحلي الإجمالي ومتوسط معدل النمو الاقتصادي السنوي في قارة أمريكا

### وثيقة رقم 7

المنطقة	نصيب الفرد من الناتج المحلي الإجمالي \$ (الدولار)	متوسط معدل النمو الاقتصادي السنوي %
أمريكا الشمالية	24479	2.3
أمريكا الوسطى	3354	1.4
أمريكا الجنوبية	3562	1.6

5 - لاحظ الجدول وعلق عليه ( وثيقة رقم 7 )

### وثيقة رقم 8

تختلف درجة التطور في القارة الأمريكية بين شمالها وجنوبها. حيث نجد دول شمال القارة في مقدمة الدول الصناعية. على المستوى العالمي. محتكرة التكنولوجيا والأموال. كما تسيطر على اقتصاد أمريكا الجنوبية بواسطة شركات كبرى تمارس نشاطها عن طريق الاستثمار المباشر فيها. بإقامة شركات فرعية تابعة للشركة الأم. متسترة وراء قناع التعاون ونقل التكنولوجيا لتطوير أمريكا الجنوبية.

6 - اعتمادا على النص ( وثيقة رقم 8 ) استخلص وسائل سيطرة أمريكا الشمالية على أمريكا الجنوبية.



# ملف

## إقامة الصناعة على الحدود

ظل المكسيكيون يعبرون (ريوغراندي) على الحدود بين الو.م.أ. والمكسيك زمنا طويلا. حتى تم إقامة مصانع أمريكية على طول الحدود لتشغيل هؤلاء المهاجرين كيد عاملة متجددة. وتسمى تلك المصانع بـ (ماكيلادورس). توسعت إثر ذلك مدن على طول الحدود مثل: (سانتياغو، ألباسو، تيجوانا).

### وثيقة رقم 1



تم إنشاء أكثر من 2000 مصنعا على طول الحدود بين الولايات المتحدة الأمريكية والمكسيك (3000 كلم). تشغل نصف مليون عامل. فمثلما تساهم في تخفيض البطالة في المكسيك فإن المؤسسات الأمريكية تحافظ على السبق الصناعي في منأى عن قوانين حماية البيئة. أصبحت بذلك المنطقة الحدودية تعاني من التلوث. ويعتبر (ريوغراندي) أكبر مجرى للنفايات في الهواء الطلق.

تقرير نيو أندرولد الأمريكية ماي 1991


الحدود بين و.م.أ. و المكسيك

### وثيقة رقم 2



المنطقة الحدودية





مغتربون من المكسيك في كاليفورنيا



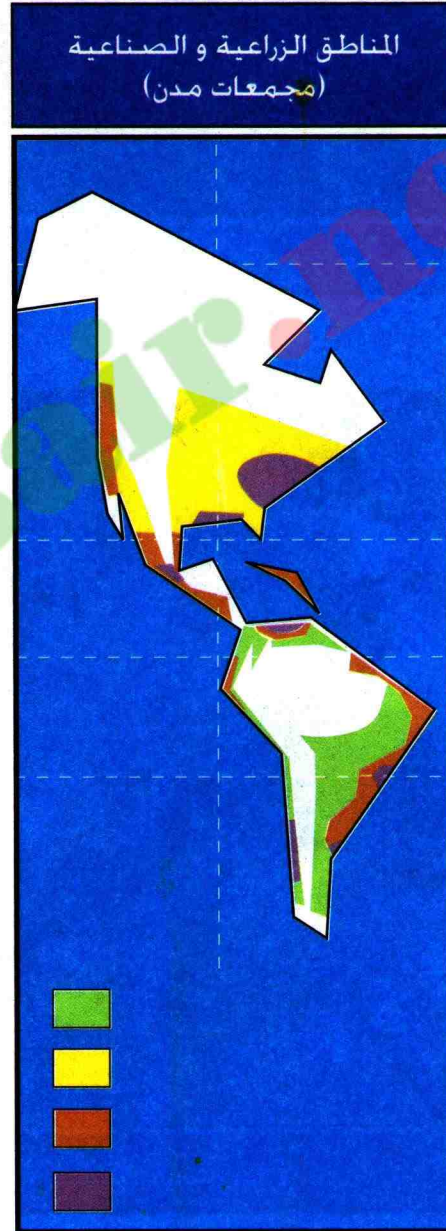

حي قصديري في ميكسيكو

- من خلال الوثائق المعطاة رقم (4.3.2.1) أكتب فقرة تبين فيها أسباب ونتائج إقامة الصناعة على الحدود بين المكسيك و الو.م.أ.



# التقويم

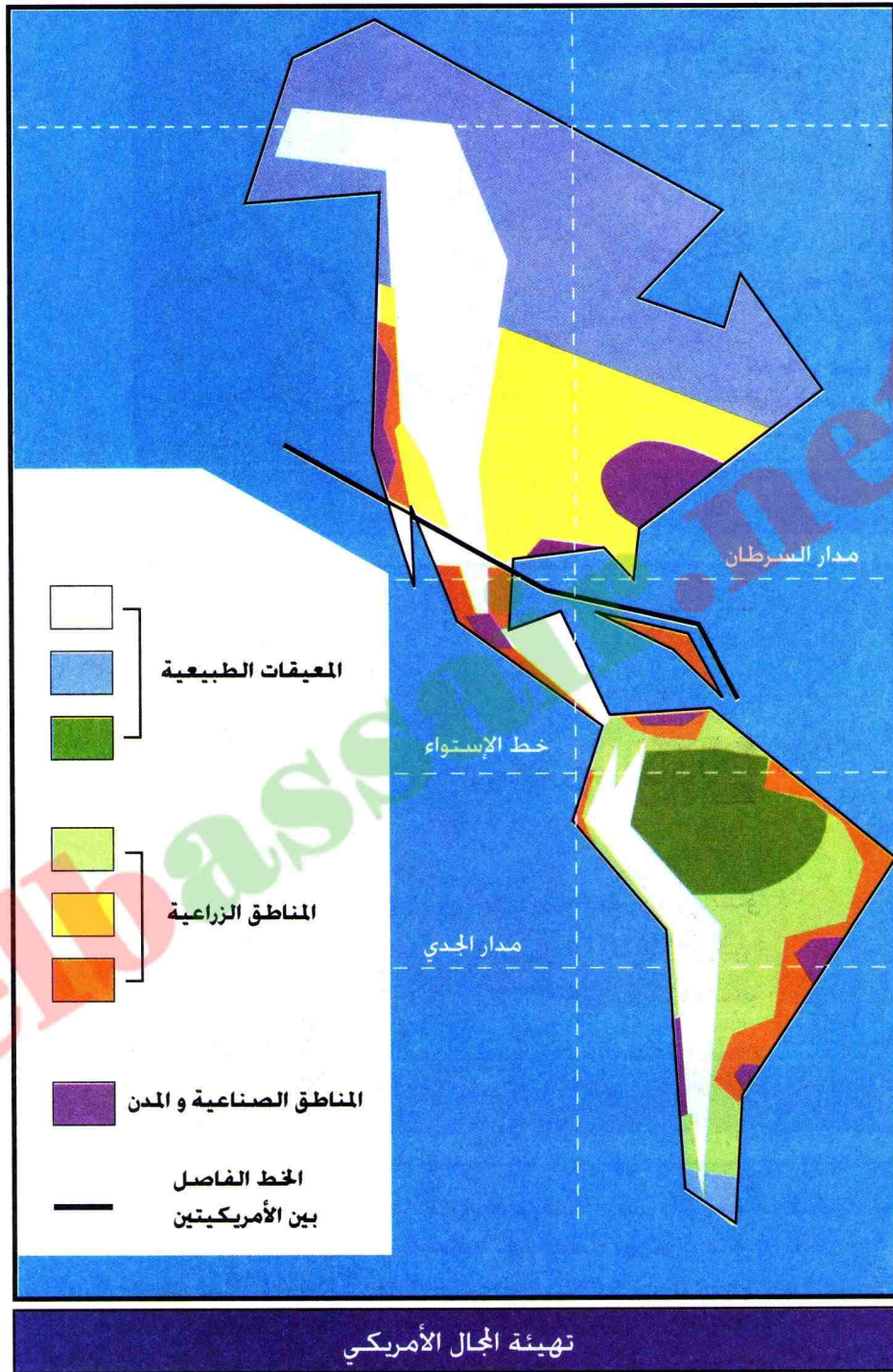
- 1 - أذكر الدول المتقدمة في قارة أمريكا.
- 2 - أذكر بلدين متخلفين في أمريكا الجنوبية.
- 3 - إلام يعود ارتفاع عدد السكان في أمريكا؟
- 4 - حدّد وأشرح مراحل تعمير القارة.



- 5- أنقل الخريطين واكمّل مفتاحيهما.



# للإيجاز خارج القسم

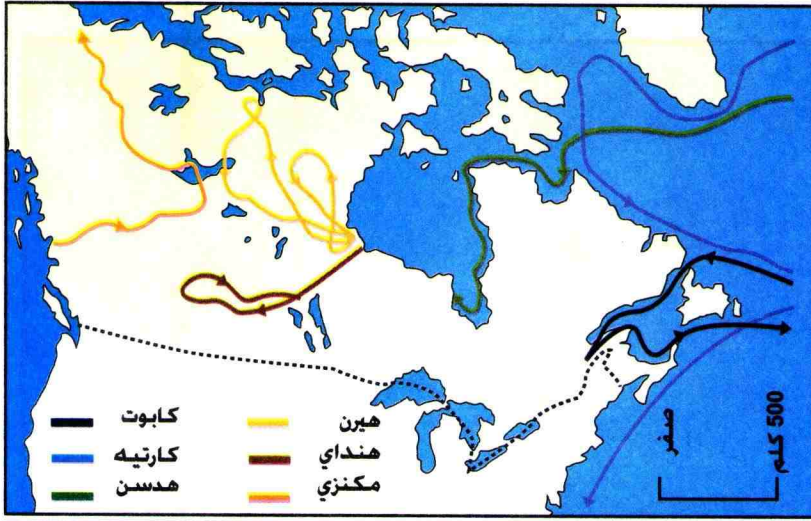


- أكتب فقرة تشرح فيها معطيات الخريطة حسب المفتاح.

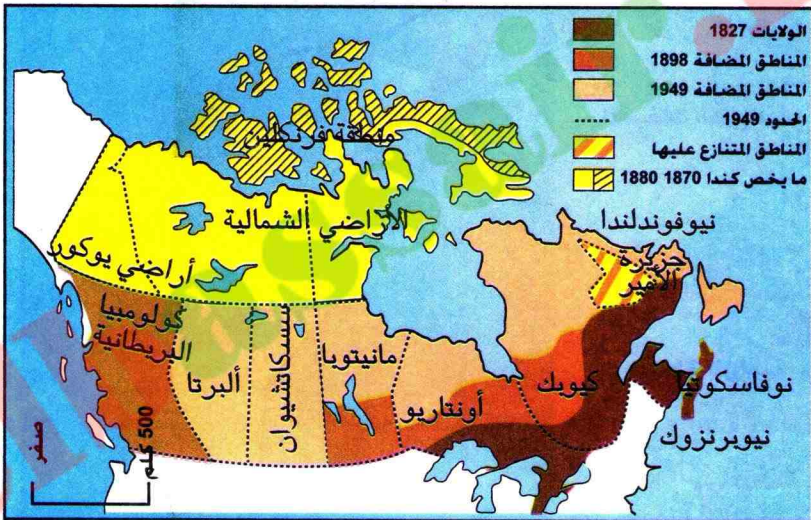


# للمطالعة

## المستكشفون الأوروبيون في أمريكا الشمالية



المستكشفون الأوروبيون في كندا



كندا الإتحادية

تبين الخريطة أن الإكتشافات الأوروبية في كندا، وهي التي بدأها كابوت باستكشافه الساحل الشرقي، وكارتيه باستكشافه نهر سنت لورنس سنة 1610. دخل هكسن 1611 الخليج الذي أصبح يحمل اسمه وكان صموئيل هيرن 1745 - 1792 أول رجل أبيض يجتاز الأرض الممتدة من خليج هكسن إلى المحيط المتجمد الشمالي، ووصل أنطوني هندي إلى جبال روكي، و عبر أليكساندر مكنزي، إلى ساحل المحيط الهندي في سنة 1793.

ظهرت كندا الإتحادية إلى الوجود سنة 1867، إذ وحدت كندا العليا (أونتاريو)، وكندا السفلى (كيبيك)، ونوفاسكوتيا، ونيوبرنزوك.

( بهجة المعرفة ( المجلد الثالث )



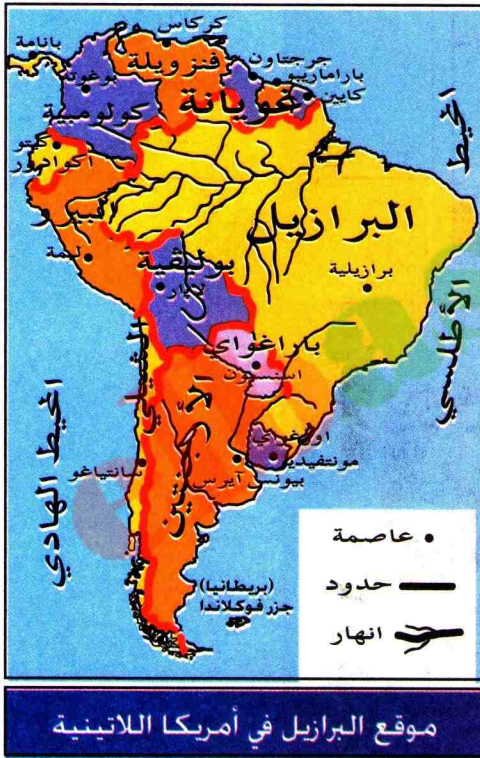
# البرازيل





# البرازيل

البرازيل بلد التناقضات فهو عملاق بمساحته، غني بموارده، لكنه يعاني من التخلف. لماذا؟



هنود الأمازون

## عقد تعليمي

في نهاية الوحدة التعليمية (البرازيل) تكون قادرا على :

- ربط العلاقة بين السكان و ظاهرة التخلف.
- استخلاص نتائج تركيز السكان في المدن.
- التعرف على ملكية الأراضي الزراعية كعائق للتنمية في البرازيل.
- اكتشاف مميزات الأقاليم الطبيعية في البرازيل واستخلاص دورها في التنمية.

- 1 السكان في البرازيل.
  - 2 الأحياء القصدية في البرازيل.
  - 3 الملكية الزراعية في البرازيل.
  - 4 التباين الإقليمي في البرازيل.
- الملف : الأمازون



1



مدينة ريودي جانيرو (البرازيل)

## بطاقة تعريف البرازيل

- عدد السكان :  
160 مليون نسمة.
- المساحة :  
8.5 مليون / كلم<sup>2</sup>.
- العاصمة :  
برازيليا .
- الكثافة السكانية :  
19.5 نسمة / كلم<sup>2</sup>
- نسبة وفيات الأطفال :  
42 بالآلف
- متوسط الحياة :  
66 سنة

2



كارنفال ريودي جانيرو

- ماهي التناقضات التي يعرفها البرازيل ؟



# 1 | السكان في البرازيل



1

## مفردات و مصطلحات

خليط من الأجناس :

- الهنود الحمر (الأصليون)
- اللاتين (البرتغال)
- الزنوج (أفريقيا)
- الوافدون من مناطق مختلفة من العالم.

لماذا يتركز سكان البرازيل

في الساحل الشرقي  
والجنوب الشرقي للبلاد؟

## أ أصل سكان البرازيل

يعتبر المجتمع البرازيلي خليطاً من الأجناس البشرية . إذ تم في مراحل التعمير الأولى توافد الأوروبيين و على الأخص منهم البرتغاليين الذين جلبوا الأفارقة السود لإستغلالهم في مزارع قصب السكر.

## ب توزيع السكان

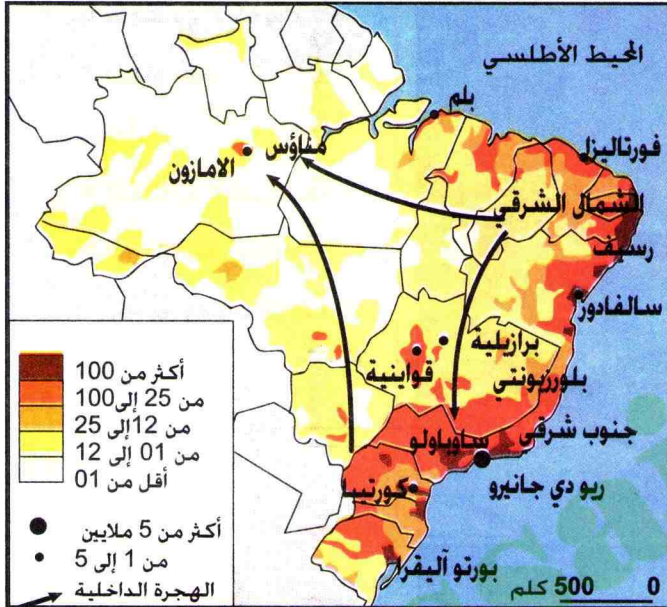
يتركز 85% من سكان البرازيل في الشريط الساحلي في الشرق والجنوب الشرقي. لأسباب ترتبط بالعهود التاريخية و الإقتصادية باعتبارها فترات ساد فيها نشاط اقتصادي معين:

- مرحلة قصب السكر.
- مرحلة المطاط
- مرحلة الذهب.
- مرحلة البن.

## ج نتائج توزيع السكان في البرازيل

ترتب على هذا التركيز السكاني الكبير مايلي :

- ظهور وتوسع المدن الساحلية الكبرى و إكتظاظها.
- تركيز النشاط الاقتصادي في المنطقة.
- قلة السكان في المناطق الداخلية.
- لتشجيع تعمير و إستغلال المناطق المتبقية . تم نقل العاصمة إلى المنطقة الشاسعة الداخلية (برازيليا 1957).



الكثافة السكانية (ن / كلم<sup>2</sup>)



برازيليا

- حدّد موقع برازيليا على الخريطة.

- ماذا نتج عن إكتظاظ المدن الساحلية بالبرازيل ؟





1

## من العوامل الجاذبة للسكان



استغلال الذهب

2



مناجم الذهب في البرازيل

- علق على الصورة (رقم 1).
- ماذا يترتب على وجود الذهب في مناطق معينة من البرازيل ؟
- حدّد تلك المناطق على الخريطة (رقم 2).
- لماذا تمّ نقل العاصمة ريو دي جانيرو من الساحل الى الداخل (برازيليا) ؟



## 2 | المدن والأحياء القصدية في البرازيل



2

**مفردات و مصطلحات**  
فافيلا و القيطو : أسماء لأحياء قصدية في البرازيل.

**لماذا تعتبر الأحياء القصدية مظهرا من مظاهر التناقض في البرازيل ؟**



مدينة ساو باولو

### أ | نمو سريع للمدن

عُرف المجتمع البرازيلي بالمجتمع الريفي في أغلب سكانه (2/3). أما اليوم ، فقد حدث العكس، حيث تحول إلى مجتمع حضري بنسبة 75%، مما أدى إلى توسع عمراني وارتفاع عدد السكان في المدن.

### ب | الفوارق الإجتماعية في المدن



عائلة في حي قصديري

يتميز المجتمع البرازيلي بالفوارق الكبرى الإجتماعية والطبقية. تظهر أكثر فأكثر في المدن الساحلية التي تجمع بين مستويين معيشيين متناقضين: أحياء فاخرة من عمارات و ناطحات السحاب يقابلها أحياء قصدية (القيطو)، التي تعاني من الأفات والمخاطر.

- ماذا يترتب عن التوسع العمراني للمدن في البرازيل ؟
- قارن بين خصائص الأحياء الفاخرة والأحياء القصدية في البرازيل؟





2

## مدينة ساوباولو

2



فافيلا ساوباولو

3



الصناعة الفضائية في ساوباولو

1

### نص

كان لشروط الانطلاقة الصناعية الدور الأساسي في نمو مدينة ساوباولو أهمها :

- وفرة رؤوس الأموال .
- توسع زراعة البن فيها جعل منها أول مدينة منتجة للبن عالميا.
- تركيز معظم المراكز الصناعية فيها وتوفر 2/3 مناصب الشغل.
- جلب معظم المستثمرين الأجانب والشركات العالمية.
- وجود شبكة واسعة من طرق المواصلات.

BELIN-RECLUS 1991

- عنون النص (رقم 1) .
- ما القصد بالانطلاقة الصناعية ؟
- اربط العلاقة بين النص والصورتين لمدينة ساوباولو (رقم 3.2.1).
- من الذي يستفيد من الصناعة الفضائية بالبرازيل ؟
- ماهي المشاكل التي تطرحها الأحياء القصدية في نظرك ؟



# 3 | الملكية الزراعية في البرازيل



3

## مفردات و مصطلحات

لاتيفونديا : هي مزارع كبرى تمارس فيها الزراعة الواسعة.  
مينيفونديا : هي مزارع ذات مساحة صغيرة.  
قريليرو : بائعو الأراضي بوثائق مزورة.

## المشكل الزراعي في البرازيل

لا يعود إلى قلة المساحات الزراعية. لماذا؟ وضح ذلك

## أ | بلد زراعي واسع

البرازيل عملاق زراعي. يتميز بضخامة وتنوع انتاجه الزراعي، فهو يحتل المرتبة الأولى في إنتاج البن، الحوامض، والكاكاو.

كما أنه اعتمد على استصلاح أراضي الأمازون لزيادة المساحات الزراعية في شكل مزارع حديثة متخصصة في المحاصيل التجارية.



من المزارع الكبرى في البرازيل

## ب | توزيع غير عادل للأراضي الزراعية

التنظيم الزراعي في البرازيل مبني على نمطين متباينين :

- مزارع كبرى (لاتيفونديا) : تزيد مساحتها عن 1000 هكتار، يسيطر عليها الملاك الكبار (الإقطاعيون والشركات الأجنبية). تستغل في الزراعة التجارية.  
- مزارع صغيرة (مينيفونديا) : تقل مساحتها عن 10 هكتارات. تستغل من طرف الفلاحين الصغار في الزراعة المعيشية.



زراعة البن

- لماذا يقوم البرازيل بتوسيع الأراضي

الزراعية ؟

- ماذا يترتب على التوزيع غير العادل

للملكية الزراعية ؟





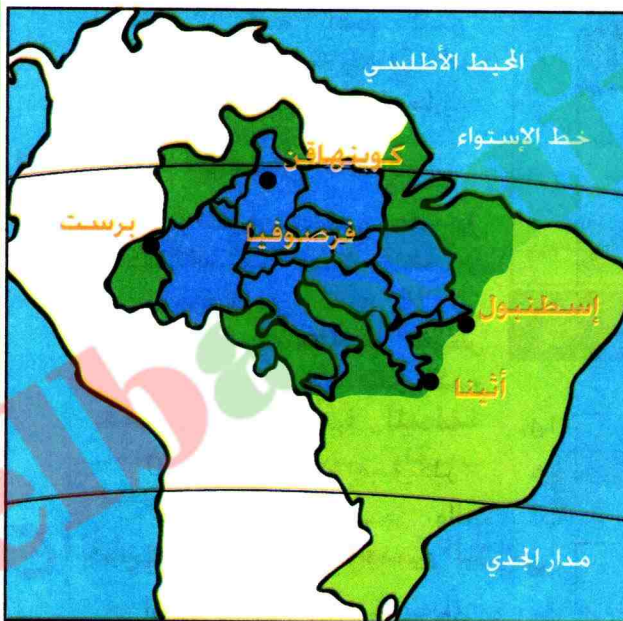
3

1

## إستصلاح غابة الأمازون



غابة الأمازون



0 1000 كلم

حدود الأمازون

أوروبا

مناطق أخرى للبرازيل

مساحة أوروبا بالنسبة لمساحة الأمازون.

2

يعاني البرازيل صراعا كبيرا حول ملكية الأراضي الزراعية بين فئة القرليرو والشركات الزراعية العالمية من جهة، و فئة الفلاحين الصغار الذين لا يملكون عقود الملكية للأراضي الزراعية التي يستغلونها في الزراعات المعيشية من جهة أخرى.

تركز هذه الأراضي في الشمال الشرقي و الوسط الجنوبي أين تكثر مزارع لاتفونديا.

ويؤدي هذا الصراع بين الفئتين الى نزاعات خطيرة على ملكية هذه الأراضي.

- لماذا تعتبر الأرض محل نزاع في البرازيل ؟
- اذكر أطراف هذا النزاع، وماهي نتائجه ؟
- علق على الخريطة، ماذا تستنتج ؟



# 4 | التباين الإقليمي للبرازيل

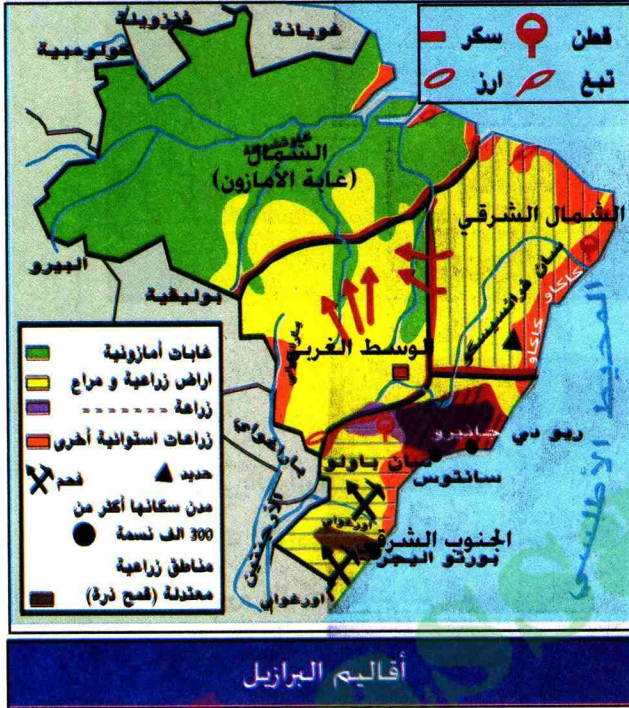


4

## مفردات و مصطلحات

الاقليم الطبيعي : منطقة متجانسة من حيث الخصائص الطبيعية  
الاقليم الاقتصادي : منطقة تجمع بين أنواع النشاط الاقتصادي

يتميز البرازيل بالتنوع و التباين الإقليمي. لماذا؟



يتميز البرازيل بثلاثة أقاليم طبيعية واقتصادية هي :

## أ إقليم الجنوب الشرقي

يعتبر هذا الاقليم قلب البرازيل، يشكل 1/5 المساحة الاجمالية للبلاد . 60 % من السكان . يساهم بـ 80 % من الانتاج الصناعي . و 40 % من الانتاج الفلاحي، وفيه أهم المدن البرازيلية (ساوباولو- ريودي جانيرو - بيلو أوريونتي).

## ب إقليم الشمال الشرقي

وهو اقليم متخلف، يعتبر أول منطقة استقر فيها المعمرون الذين نزحوا في القرن 18 الى الجنوب الغني بمعادنه. يعيش أغلب سكانه في فقر كبير دفعهم إلى مغادرة المنطقة باتجاه الشمال الغربي والجنوب الشرقي.

## ج إقليم الشمال والوسط الغربي

يتمثل في غابة الأمازون ب 60 % من المساحة الكلية للبلاد يعمرها 14 % من السكان. وهي منطقة غنية بثرواتها المعدنية والنباتية. مما دفع إلى شق الطرق فيها لاستصلاحها وجلب السكان إليها، رغم المخاطر البيئية الناجمة على ذلك.

## الشمال الشرقي منطقة المشاكل

يعتبر اقليم الشمال الشرقي من أفقر الأقاليم البرازيلية. فحسب إحصاء 1991 فإن :

- 27 % من سكان هذا الاقليم يتقاضون الحد الأدنى من الأجور شهريا.
- ارتفاع نسبة الأمية ب 42 % مقابل 15 % في اقليم الجنوب الشرقي.
- انخفاض نصيب الفرد من الحريرات الذي يقدر بـ 1323 حريرة.

- ماهو أهم اقليم طبيعي واقتصادي في البرازيل ؟ ولماذا ؟ حدّد موقعه على الخريطة ؟

- اعتمادا على النص، لماذا يعتبر اقليم الشمال الشرقي فقيرا ؟



## أقاليم متباينة في البرازيل



4

1




ريودي جانيرو

2



سالفادور

3



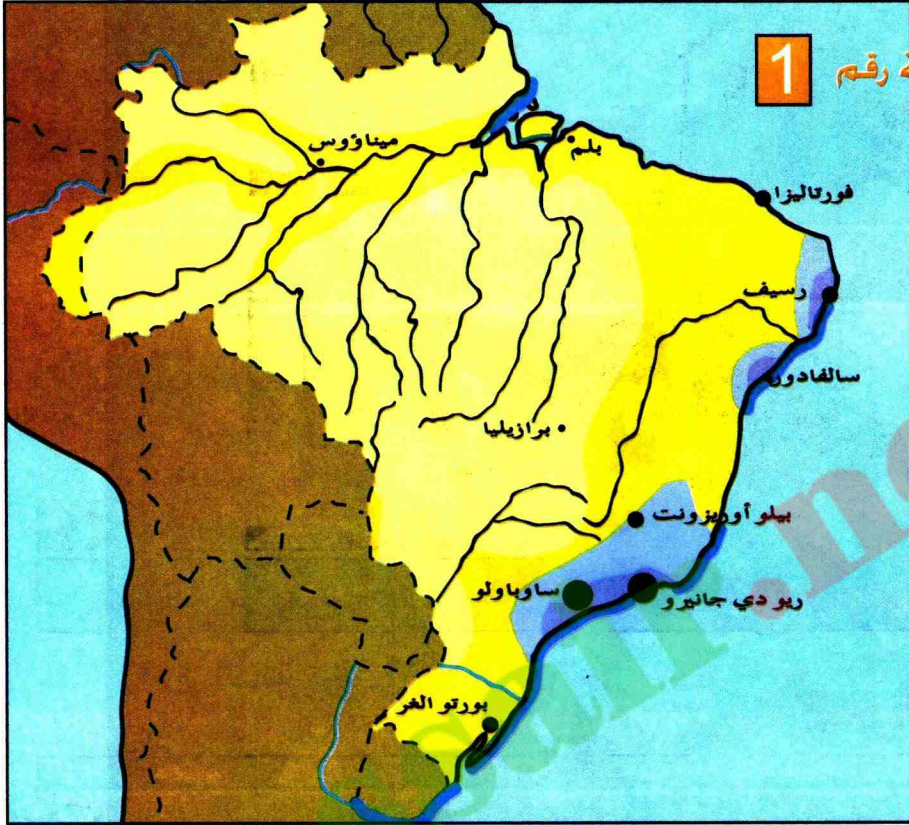
الأمازون

- انسب كل صورة إلى إقليمها. وعلّق عليها.
- ماذا يمثّل الأمازون بالنسبة للبرازيل ؟
- ماهي دوافع استصلاح غابة الأمازون ؟ و ماهي أهداف ذلك ؟
- لماذا يعتبر استصلاح غابة الأمازون مشكلا بيئيا عالميا ؟

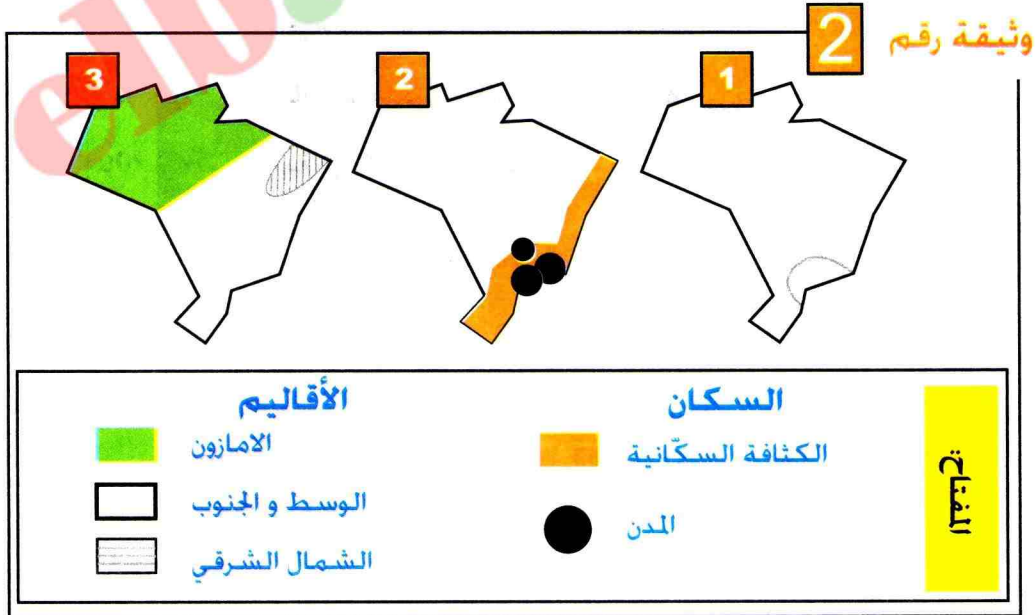


# تطبيق

1 - انقل خريطة الكثافة السكانية و المدن في البرازيل ( وثيقة رقم 1 ) . و ضع المفتاح المناسب لها.



كثافة السكان و المدن في البرازيل




2 - انقل الرسم رقم 1 و اجز خريطة مركبة من الرسمين 2 و 3 ثم علق عليها.







### وثيقة رقم 3



فافيلا

### وثيقة رقم 4

#### نص

إنّ القرب من المدينة بالنسبة لسكان (فافيلا) أمر حيوي جدا. لأنهم يجدون فيها كل متطلبات حياتهم بما يقدمونه من خدمات لسكان أحياء الأغنياء المجاورة. لذا تحولت الأحياء القصدية الى مدن داخل مدن. يتجاوز عدد سكان البعض 200 ألف نسمة. وشكّلت بذلك شبكة تجارية وتنظيمية اجتماعيا خاصا.

MASSON 1995

3 - علّق على الصورة ( وثيقة رقم 3 )

4 - ضع عنوانا للنص. ( وثيقة رقم 4 )

5 - ماهي العلاقة بين النص و الصورة (الوثيقتين رقم 3, 4) ؟



# ملف

## وثيقة رقم 1

## الأمازون




تشغل منطقة الأمازون مكانة هامة في الوسط الطبيعي البرازيلي، تقدر مساحتها بـ 5 مليون كلم<sup>2</sup>، فهي نادرة السكان بسبب عزلتها لمدة طويلة. عرفت منذ 1960 اهتماما تمثل في وضع برنامج استصلاح حتى تلعب المنطقة دورا في اقتصاد البلاد مثل بقية الأقاليم الأخرى.

### إستصلاح الأمازون

## وثيقة رقم 2

### الطرق العابرة للأمازون



### شقق الطرق

## وثيقة رقم 3

تم اتخاذ القرار في سنة 1968 و انطلقت المغامرة الكبرى في شق أول طريق عابر للأمازون في 1970، على طول 5000 كلم، انطلاقا من مدينة رسييف على الساحل الأطلنطي إلى غاية الحدود البيرونية، وحقق الإنجاز في سنة 1973 رغم مخاطر الغابة الكثيفة ومعارضة السكان الأصليين، ثم تم الشروع في شق طريق آخر يعبر الأمازون من الجنوب إلى الشمال، يربط بين ماتوغروسو بفينزويلا في جو يغمره الحديث عن إبادة هنود المنطقة، ورغم ظروف العمل الشاقة فكان الإنجاز العظيم في مستوى الأنهار الحقيقي.

(نهب الأمازون ماسبيرو 1982)





ميناء ميناؤس

وثيقة رقم 4



إستغلال الأحجار الكريمة - سيرابيلادا الأمازون

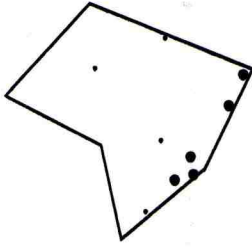
وثيقة رقم 5

- من خلال الوثائق المعطاة (رقم 5.4.3.2.1). أكتب فقرة تبين فيها أهمية غابة الأمازون المحلية و العالمية.

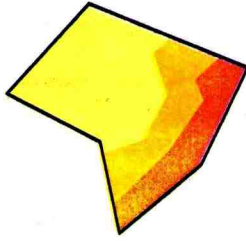


# التقويم

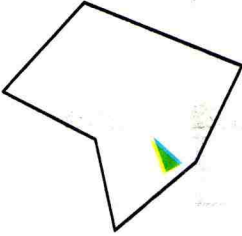
## رسومات تخطيطية



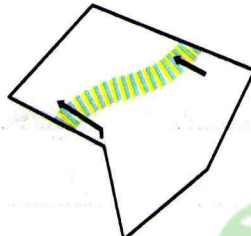
المدن الساحلية



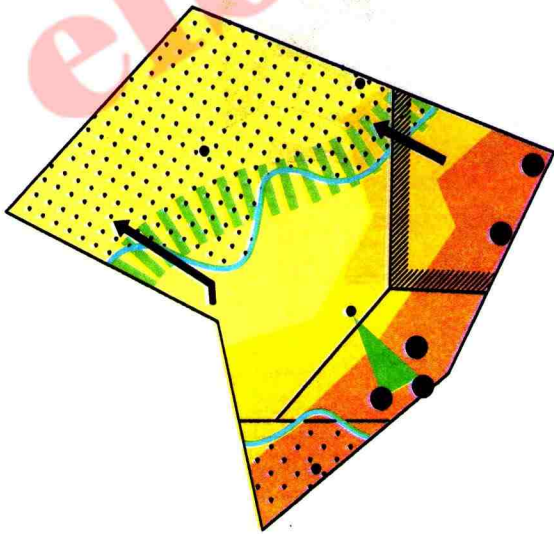
توزيع السكان



المثلث الحيوي



الهجرة الداخلية



- 1 انقل مايلي على كراسك ثم عين  
بإشارة (+) الاجابات الصحيحة  
- يعتبر البرازيل من أكبر دول أمريكا  
اللاتينية.  
- البرازيل احدى المستعمرات  
الاسبانية.  
- مدينة ساو باولو عاصمة البرازيل.  
- لايفونديا مزرعة صغيرة.  
- الشمال الشرقي منطقة فقيرة  
في البرازيل.

## 2 اشرح المفردات التالية :

- الاصلاح الزراعي.
- العهد الاقتصادي
- القبطو
- مينيفونديا
- لايفونديا

## 3 - استعن بالرسومات التخطيطية

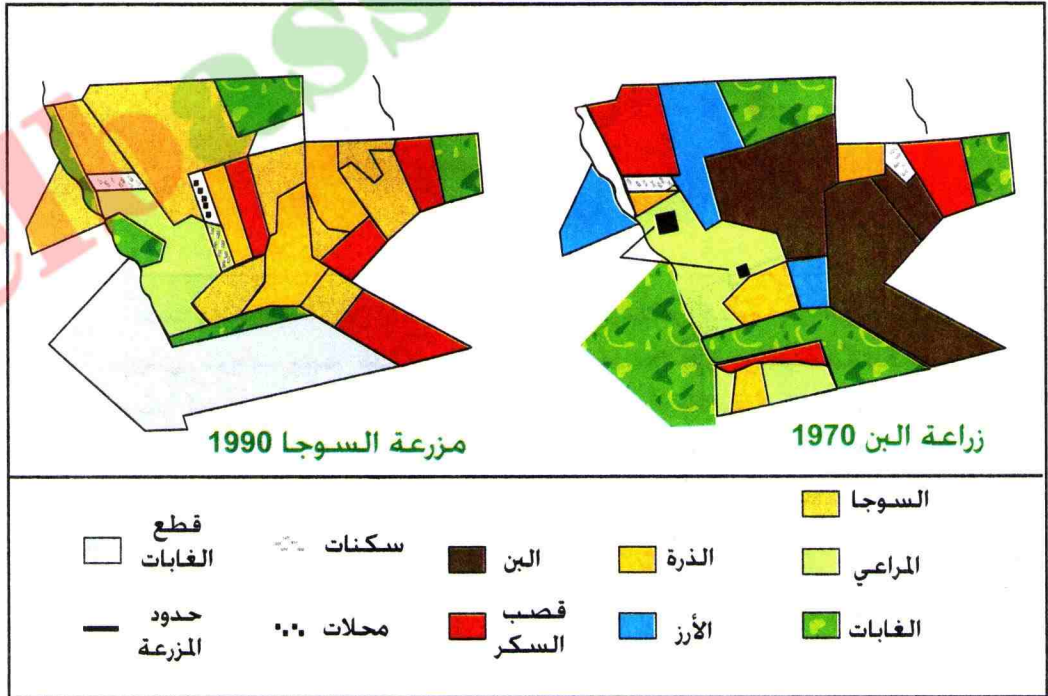
و ضع مفتاحا للمخطط



# للإجاز خارج القسم



زراعة البن في ساوبالو




1- قارن بين الصورة و مخططي زراعة البن وزراعة السوجا.

2- في أي إقليم مناخي تسود هذه الزراعات ؟



# للمطالعة

## من تاريخ البرازيل



لقد وجد الرواد من المغامرين الأوروبيين قبائل كبيرة من الهنود تستوطن الشاطئ البرازيلي، فرحب بهم هؤلاء في البداية ترحيبا حارا، وبغية مقايضة السلع التجارية. أحسنوا إستقبالهم، و زودوا سفنهم بالمؤن، وقدموا إليهم الزوجات. وتعلم الرواد أي المحاصيل الإستوائية تصلح لهذه المناطق، بدلا من القمح الذي فشلت زراعته فيها بسبب جوها القاطئ. ولكن مخاوف جموع المستعمرين المطردة ما لبثت أن ثارت فيما بعد، لما طبع عليه الهنود من ولع بالقتال، ولما درجوا عليه من طقوس دينية تدعو الى أكل لحوم البشر، فقتل منهم كثيرون، او طردوا الى قلب الغابات، كما إستعبد بعضهم رقيقا سخروا في قطع الأخشاب، او زراعة قصب السكر الذي استجلب حديثا الى البلاد، أو نيطت بهم رعاية الماشية. وتبين أن الهنود لا يصلحون عبيدا أرقاء إذ يهلكون مرضا أو يأسا، فشرع المستعمرون يستوردون الزنوج من المستعمرات البرتغالية في إفريقيا.

موسوعة المعرفة (المجلد الثالث)



# الخرائط الصماء

elbassaini.net























65	■ قارة أمريكا
68	1 - أمريكا (العالم الجديد)
70	2- توزيع السكان في قارة أمريكا
72	3 - تهيئة المجال الأمريكي
74	4 - أمريكا الشمالية و أمريكا الجنوبية
76	5 - تطبيق
78	6 - ملف
80	7 - التقويم
81	8 - للاجياز خارج القسم
82	9 - للمطالعة
83	■ البرازيل
86	1 - السكان في البرازيل
88	2 - المدن والأحياء القصديرية في البرازيل
90	3 - الملكية الزراعية في البرازيل
92	4 - التباين الاقليمي في البرازيل
94	5 - تطبيق
96	6 - ملف
98	7 - التقويم
99	8 - للاجياز خارج القسم
100	9 - للمطالعة

3	- تقديم الكتاب
5	- توظيف الكتاب
8	- مخطط الكتاب
11	■ قارة آسيا
14	1 - قارة آسيا مهد الديانات والحضارات القديمة
15	2 - السكان في قارة آسيا
17	3 - المناخ والزراعة في قارة آسيا
20	4 - التباين الاقتصادي في قارة آسيا
22	5 - تطبيق
24	6 - ملف
26	7 - التقويم
27	8 - للاجياز خارج القسم
28	9 - للمطالعة
29	■ اليابان
32	1 - المعينات الطبيعية لليابان
34	2 - السكان في اليابان
36	3 - اليابان عملاق اقتصادي
38	4 - مجمعات مدن في اليابان
40	5 - تطبيق
42	6 - ملف
44	7 - التقويم
45	8 - للاجياز خارج القسم
46	9 - للمطالعة.
47	■ الصين
50	1 - الصين (حجم السكان)
52	2 - الصين (ريف ومدينة)
54	3 - التحول الاقتصادي في (الصين)
56	4 - التباين الاقليمي في الصين
58	5 - تطبيق
60	6 - ملف
62	7 - التقويم
63	8 - للاجياز خارج القسم
64	9 - للمطالعة



## ■ الخرائط

- 13 خريطة آسيا (صورة).
- 14 خريطة المناطق الجغرافية الكبرى في قارة آسيا.
- 15 خريطة بلاد الرافدين
- 16 خريطة الديانات في قارة آسيا
- 17 خريطة توزيع السكان في آسيا
- 19 خريطة المناخ في آسيا
- 19 خريطة التساقط في آسيا
- 21 خريطة الأقاليم الاقتصادية في آسيا
- 22 خريطة التطور البشري في آسيا
- 28 خريطة موقع الفلبين في العالم
- 31 خريطة موقع اليابان في العالم
- 32 خريطة الجزر الرئيسية في اليابان
- 33 خريطة تضاريس اليابان
- 34 خريطة الأخطار الطبيعية في اليابان
- 35 خريطة نشاط السكان في اليابان
- 36 خريطة تركيز السكان في اليابان
- 38 خريطة الصناعة اليابانية في العالم
- 49 خريطة موقع الصين في العالم
- 49 خريطة موقع الصين في آسيا
- 51 خريطة توزيع السكان في الصين
- 57 خريطة المجال الصيني
- 58 خريطة دلتا هونغ كونغ
- 67 خريطة قارة أمريكا
- 69 خريطة أصل سكان أمريكا
- 70 خريطة الحضارات القديمة والديانات في أمريكا
- 71 خريطة التوزيع السكاني في أمريكا
- 72 خريطة بيئات متنوعة في أمريكا
- 73 خريطة البيئات الساحلية في أمريكا
- 75 خريطة الدخل الوطني الخام بالدولار في أمريكا
- 76 حجم الدخل الصناعي الخام في أمريكا
- 85 خريطة موقع البرازيل في العالم
- 85 خريطة موقع البرازيل في أمريكا اللاتينية
- 87 خريطة الكثافة السكانية في البرازيل
- 88 خريطة مناجم الذهب في البرازيل
- 92 خريطة مساحة أوربا بالنسبة لمساحة الأمازون
- 93 خريطة أقاليم البرازيل



15	صورة قصر الأباطرة القديم .
15	صورة مظهر عمراني في التبت
16	صورة معتقد بوذي
16	صورة التبرك بمياه نهر الغانج
16	صورة مكة المكرمة
17	رسم بياني لسكان آسيا بالنسبة للعالم
18	رسم بياني : تطور السكان في آسيا
20	صورة زراعة الأرز في آسيا
20	مخطط إستغلال المياه في آسيا
21	صورة لحي قصديري في بومباي (الهند)
22	صورة إقامة مصانع عائمة في الماء
22	صورة بئر بترولي في الخليج
32	صورة: التهيئة الإقليمية في سهل ساحلي ضيق في اليابان
33	صورة : مطار عائم في اليابان
34	صورة لزلزال كوبي
35	صورة مركب صناعي في عرض البحر (مدينة كيو باليابان)
36	رسم بياني لنسبة الإنتاج الزراعي
37	صورة الصناعة الإلكترونية (الرجل الآلي)
38	صورة مركب صناعي في عرض البحر بأوزاكا
39	جدول الموانئ الكبرى في العالم
39	جدول البنوك الخمس الأولى في العالم
39	صورة : البورصة في اليابان
40	مخطط مجمع مدن و ميناء طوكيو
40	صورة: طوكيو عاصمة اليابان
50	صورة: مدينة شينزن (هونغ كونغ)
51	صورة: أطفال المدارس في الصين
52	صورة: إشهار لتحديد النسل
52	جدول نسبة الولادات و الوفيات و معدل الخصوبة في الصين
53	صورة: زراعة الأرز
53	صورة: سور الصين العظيم
54	صورة: بناء أحياء جديدة في بكين
54	صورة: الريف الصيني
55	صورة: عمال في طريقهم إلى المصنع
55	



55  
56  
56  
56  
57  
58  
68  
68  
69  
70  
70  
72  
72  
74  
74  
74  
75  
75  
76  
76  
85  
86  
86  
87  
88  
89  
89  
90  
90  
91  
92  
94  
94  
94

- صورة مركب صناعي في منشوريا  
صورة بناء مصنع الحديد و الصلب في سنة 1958  
صورة صناعة الحديد التقليدية في الصين  
جدول الدخل الفردي السنوي في الصين  
جدول الأقاليم الكبرى في الصين  
صورة مدينة هونغ كونغ  
صورة (نيل أمسترونك) الأمريكي على القمر  
صورة مدينة ساوباولو (البرازيل)  
صورة نقل العبيد عن طريق البحر  
صورة: أفراد من قبائل الهنود الحمر  
صورة أهرامات الأزيك  
صورة مدينة نيويورك  
صورة غابة الأمازون  
صورة السهول العظمى و السلسلة الجبلية  
صورة المنطقة الباردة  
صورة جزر الأنتيل  
جدول: الصناعة في الو.م.أ.  
جدول شيخوخة السكان في الو.م.أ.  
صورة منطقة سيليكون فالي (كاليفورنيا)  
صورة حي الفقراء (فافيلا)  
صورة هنود الأمازون  
صورة مدينة ريودي جانيرو (البرازيل)  
صورة كارنفال ريودي جانيرو (البرازيل)  
صورة برازيليا  
صورة إستغلال الذهب في البرازيل  
صورة مدينة ساوباولو  
صورة عائلة في حي قصديري  
صورة فافيلا في ساوباولو  
صورة الصناعة الفضائية في ساوباولو  
صورة زراعة البن  
صورة غابة الأمازون  
صورة ريودي جانيرو  
صورة سالفادور  
صورة الأمازون



[elbassair.net](http://elbassair.net)



elbassair.net



2017-2018

**MS 0805/04**

ردمك I.S.B.N. 9947-20-285-2

رقم الاداع القانوني 730-2004 N° Dépot légal

مصادق عليه من طرف لجنة الاعتماد والمصادقة للمعهد الوطني للبحث في التربية

– وزارة التربية الوطنية –

Conformément à l'arrêté ministériel n°38 du 26/11/2009

Tous droits réservés à l'ONPS



# الجغرافيا

## موقع عيون البصائر التعليمي

مرزمك: 2- 285- 20- 9947- ISBN  
رقم الإيداع القانوني: 730- 2004- Dépot légal  
MS: 0805 / 04  
سعر البيع: 155.00 دج



2017 - 2018

مصادق عليه من طرف لجنة الإعتماد والمصادقة للمعهد  
الوطني للبحث في التربية (وزارة التربية الوطنية) طبعا  
للقرار رقم: 677 / مرجع / 2004 المؤرخ  
في 17 جويلية 2004



الجمهورية الجزائرية الديمقراطية الشعبية



# elbassair.net

موقع عيون البصائر التعليمي

Elbassair.net

الفيسبوك

عيون البصائر التعليمية

<https://www.facebook.com/bassair/>

# elbassair.net

elbassair13@gmail.com

قليل من العلم مع العمل به أنفع من كثير من العلم مع قلة العمل به